

1)

Her canlı aynı özellikleri taşıyan yuvalarda yaşar.

Yuvamız olmasaydı birçok tehlike ile karşılaşabilirdik.

Canlılar, yavrularını yuvalarında besleyip büyütürler.

Yukarıdaki ifadelerden kaç tanesi doğrudur?

A) 1

B) 2

C) 3

2) Selin, ailesiyle alışveriş yaparken kaybolmuştu.

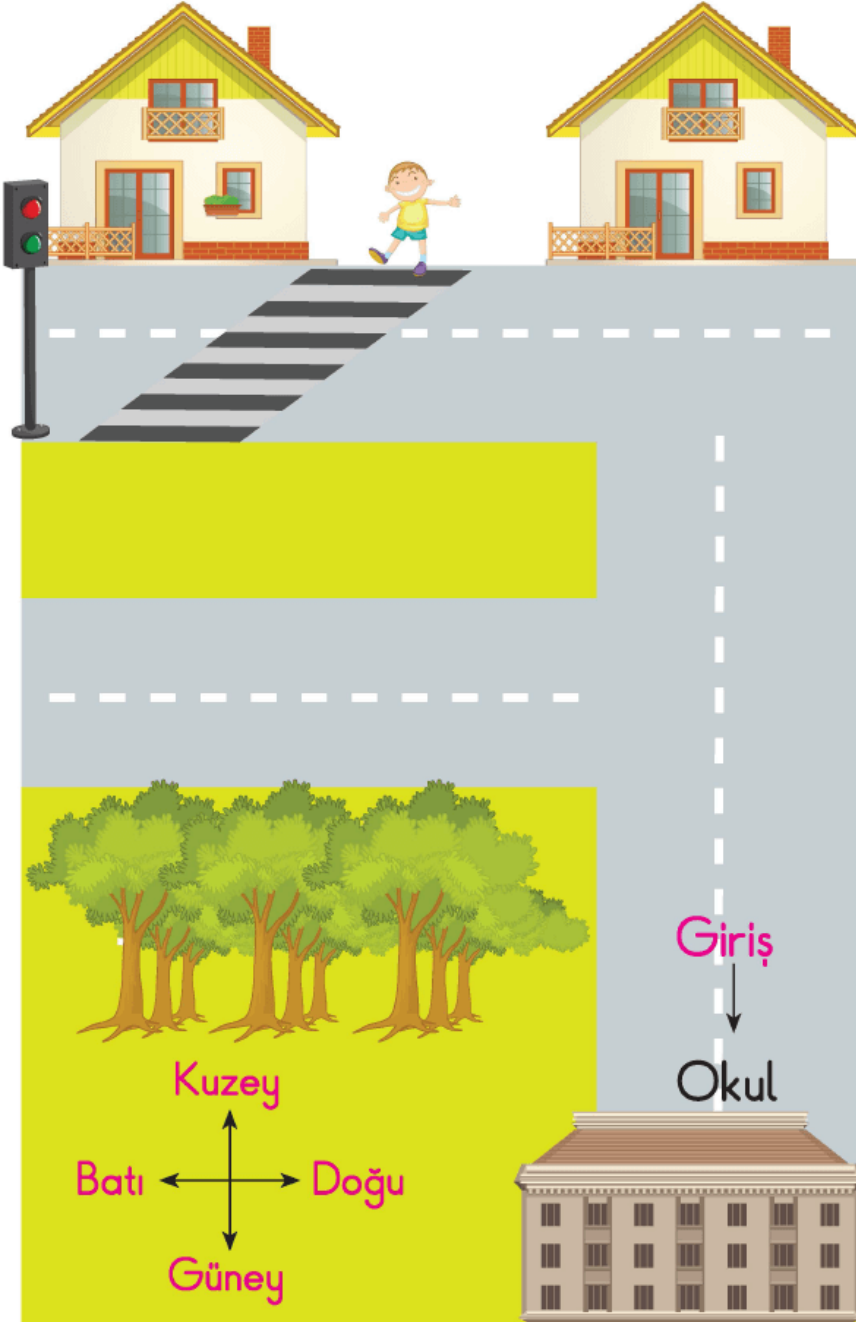
Güvenlik görevlileri, Selin'e ev adresini sorduğunda Selin'in aşağıda vereceği bilgilerden hangisi gereksizdir?

A) Evinin bulunduğu mahallenin adı

B) Evinin bulunduğu apartmanın adı

- B) Evinin balkonunda çiçeklerin rengi  
C) Evinin çevresinde bulunan binaların rengi

3)




Burak okula gitmek için sırasıyla hangi yönleri takip etmelidir?

- A) Güney - Batı - Güneş


B) Kuzey - Doğu - Kuzey

C) Güney - Doğu - Güney


**4)** Aşağıda verilen aletlerin hangisinin yardımıyla yönümüzü bulabiliriz?



**5)** Aşağıda verilen canlılardan hangisi ormanda yaşar?



6) Aşağıdaki canlılardan hangisini evde besleyerek evcilleştirebiliriz?



7) Aşağıdaki hayvanlardan hangisinin yuvası kümedir?

