


1)



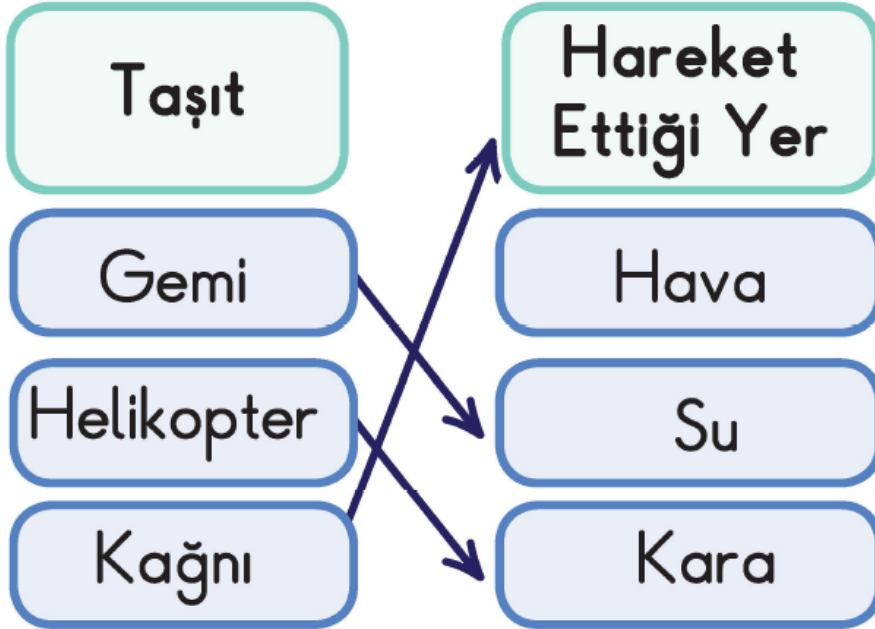
Yukarıda verilen araçlardan hangisi diğerlerine göre daha az yolcu taşır?

A) 1

B) 2

C) 3

2)



Yukarıda yapılan eşleştirmelerden kaç tanesi doğrudur?

A) 1

B) 2

C) 3

3) Bir öğrenci gelecekte kullanılmasını düşündüğü, aşağıdaki araçların hangisinin hayalini kurabilir?

A) Telgraf

B) Uzaktan kumandalı ütü

C) Cep telefonu

4) Ulaşımın kolaylaşması aşağıda verilenlerden hangisinin bulunmasıyla başlamıştır?

A) Tekerleğin icadı


B) Petrolün icadı

C) Otobüsün icadı

5)



Aşağıdakilerden hangisi hava araçlarının yolcu indirip, bindirdiği yerdir?



- A) Liman B) İstasyon
C) Havaalanı

6)

Gemiye kullanılır. Otomobili
..... kullanılır.

Yukarıdaki cümlelerde boş bırakılan yerlere sırasıyla aşağıdakilerden hangisi getirilmelidir?

- A) Şoför — Pilot
B) Kaptan — Şoför
C) Makinist — Kaptan

7) Aşağıda verilen ulaşım araçlarından hangisi kullanılırken hayvan gücünden yararlanılamaz?

A) Kağıt

B) Fayton

C) Tren

8) Aşağıda verilenlerden hangisi kişiler arasında diğerlerine göre **daha geç** iletişim kurulmasını sağlar?

A)



B)



C)



www.supersoru.com

Cevaplar :

1)B, 2)A, 3)B, 4)A, 5)C, 6)B, 7)C, 8)C,