

1)



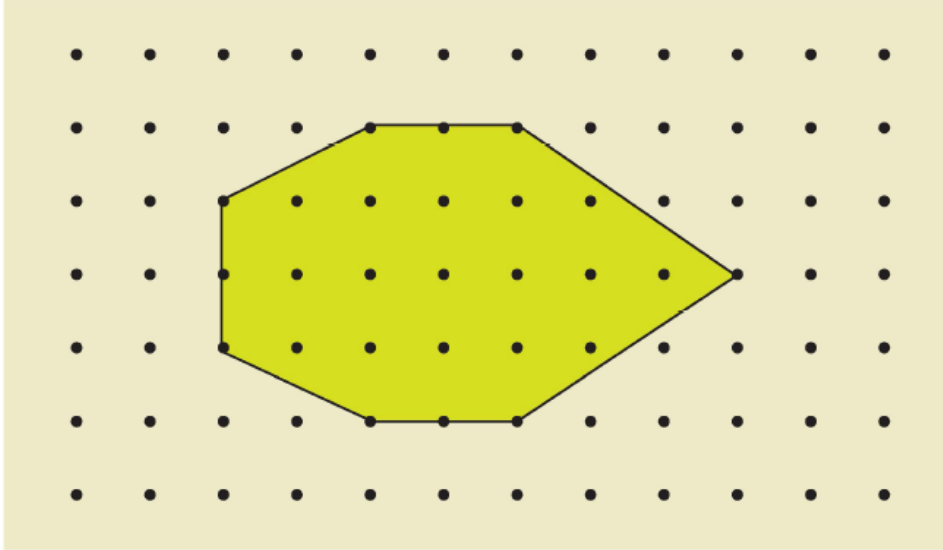
Yukarıdaki panoda verilen harflerden kaç tanesinin açısı vardır?

A) 4

B) 5

C) 6

2)



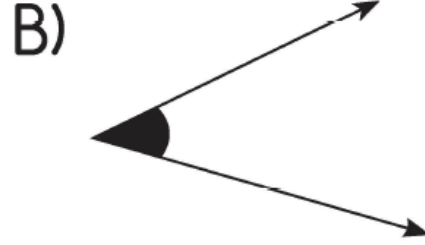
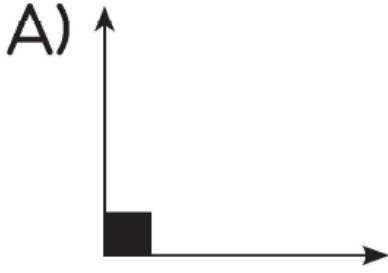
Noktalı kağıt üzerinde verilen yukarıdaki şekilde geniş açı sayısı, dar açı sayısından kaç fazladır?

A) 5


B) 4

C) 3

3) Aşağıdakilerden hangisi doğru açı modelidir?



4) Aşağıda verilen şekilde kaç tane dik açı vardır?

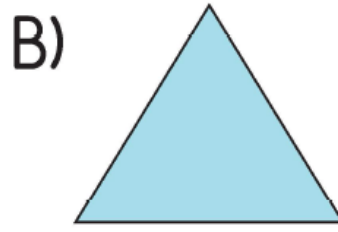
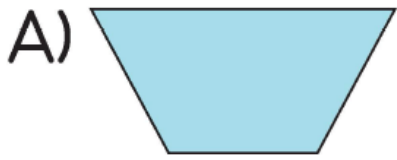


A) 2

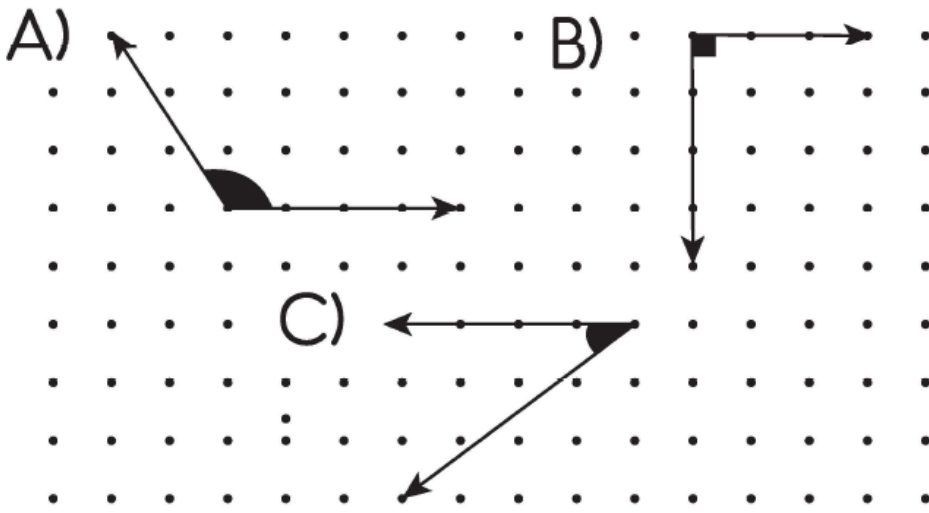
B) 3

C) 4

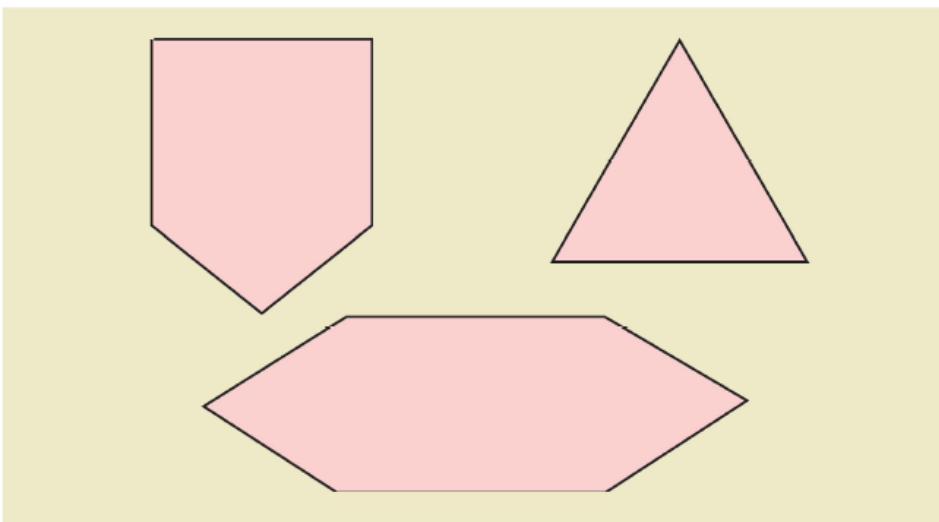
5) Aşağıdaki geometrik şekillerin hangisinde geniş açı vardır?



6) Aşağıdaki noktalı kağıtta verilen açılardan hangisi dar açıdır?



7)



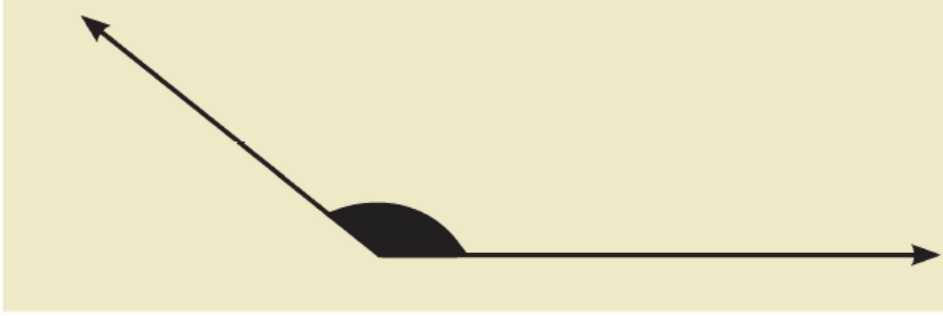
Yukarıda verilen şekillerin kaç tanesinde 2 tane dar açı vardır?

A) 1

B) 2

C) 3

8)



Yukarıda verilen açının çeşidi aşağıdakilerden hangisidir?

A) Dar açı

B) Dik açı

C) Geniş açı

www.supersoru.com

Cevaplar :

1)B, 2)A, 3)C, 4)C, 5)A, 6)C, 7)A, 8)C,