

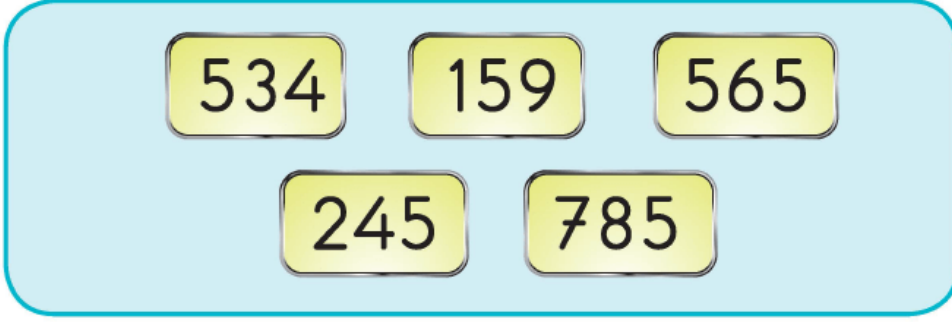
1) 526 sayısındaki 2 rakamının basamak değeri kaçtır?

A) 2

B) 20

C) 200

2)



Yukarıda verilen sayılardan kaç tanesinin onlar basamağında 5 vardır?

A) 1

B) 2


C) 3

3) Rakamlarının basamak değerleri toplamı 547 olan doğal sayı aşağıdakilerden hangisidir?

A)




B)



C)



4)



Onluk taban bloklarıyla modellenen yukarıdaki sayının onlar basamağında hangi rakam vardır?

A) 0

B) 1

C) 5

5)

Sayı	?		
Basamak Adı	Yüzler basamağı	Onlar basamağı	Birler basamağı
Rakamın Basamak Değeri	600	40	0

Yukarıdaki basamak tablosunda

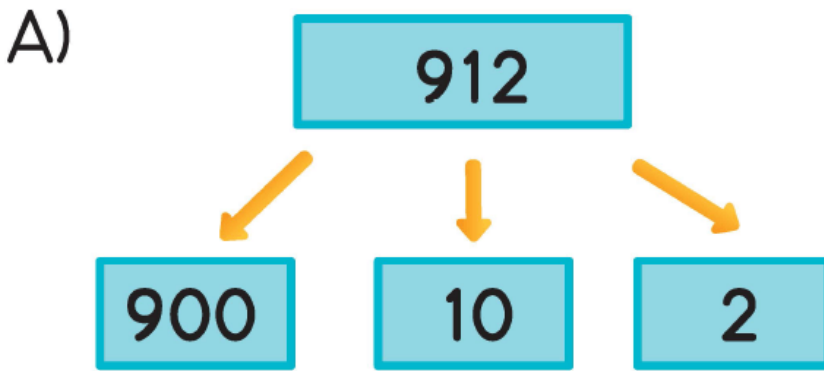
TUKARIDAKI BASAMAK TABLOSUNDA
gösterilen sayı aşağıdakilerden
hangisidir?

A) 460 B) 604 C) 640

6) Aşağıdaki sayılardan hangisinin
birler basamağında 7 ve yüzler
basamağında 4 vardır?

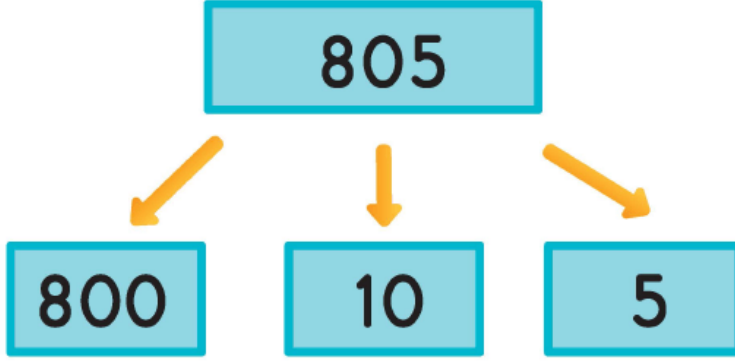
A) 347 B) 457 C) 704

7) Aşağıdaki sayıların hangisinde
rakamlar basamak değerlerine
yanlış olarak ayrılmıştır?





C)



www.supersonu.com

Cevaplar :

1)B, 2)A, 3)B, 4)A, 5)C, 6)B, 7)C,