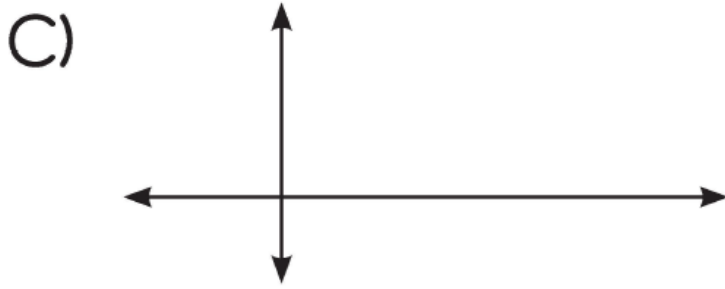
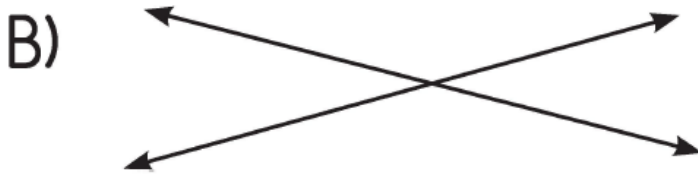


1) "İki doğru birbirine paralel olabilir." ifadesinin modelle gösterimi aşağıdakilerden hangisidir?



2)

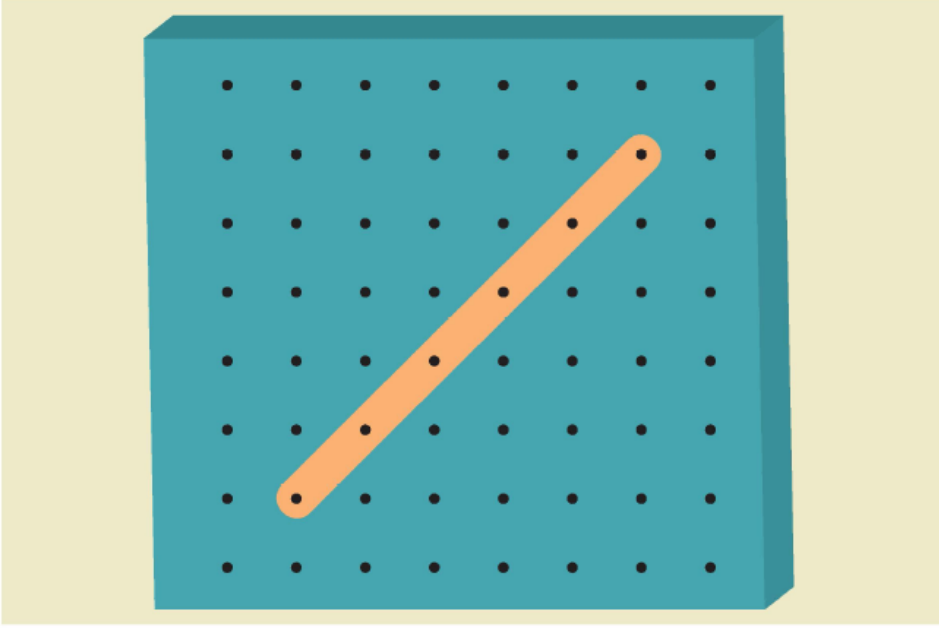


Yukarıdaki resimde doğruların birbirine göre durumu aşağıdaki-

lerden hangisidir?

- A) Kesişen doğrulardır.
- B) Paralel doğrulardır.
- C) Dik doğrulardır.

3)




Yukarıdaki geometri tahtasında verilen doğru modelinin çeşidi aşağıdakilerden hangisidir?

- A) Yatay doğru
- B) Eğik doğru
- C) Dikey doğru


4) Aşağıdakilerden hangisinde cet-

vel yatay doğru modeli oluşturur?


A)




B)



C)



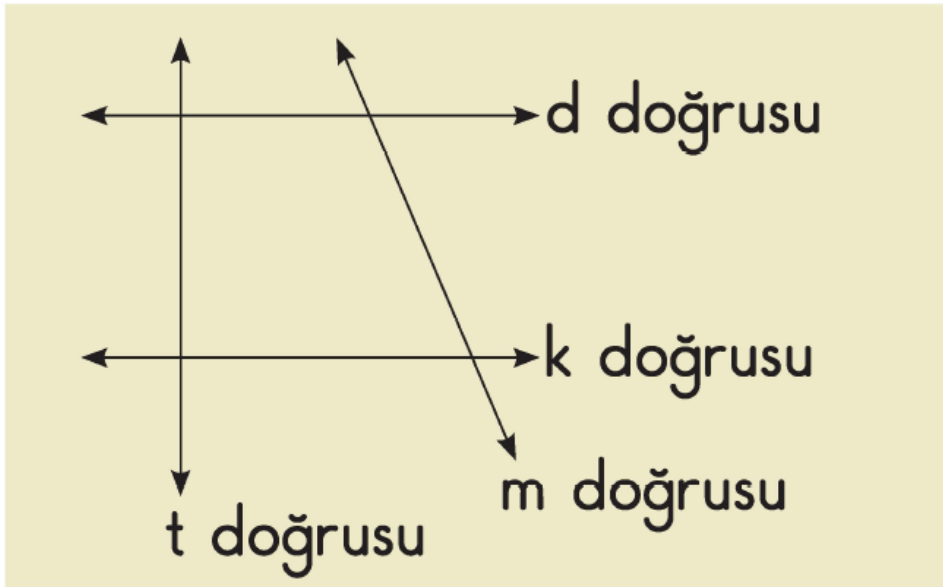
5)



Yukarıdaki üst kale direğinin yere göre konumu aşağıdakilerden hangisidir?

- A) Yatay doğru
- B) Eğik doğru
- C) Dikey doğru

6)



Yukarıda verilen doğrular için aşağıdakilerden hangisi **yanlıştır**?

- A) d ve k doğruları birbirine paraleldir.
- B) m doğrusu, d ve k doğruları ile kesismektedir.
- C) t doğrusu, m doğrusu ile dik olarak kesismektedir.

[www.supersoru.com](http://www.supersoru.com)

Cevaplar :

1)A, 2)A, 3)B, 4)C, 5)A, 6)C,