

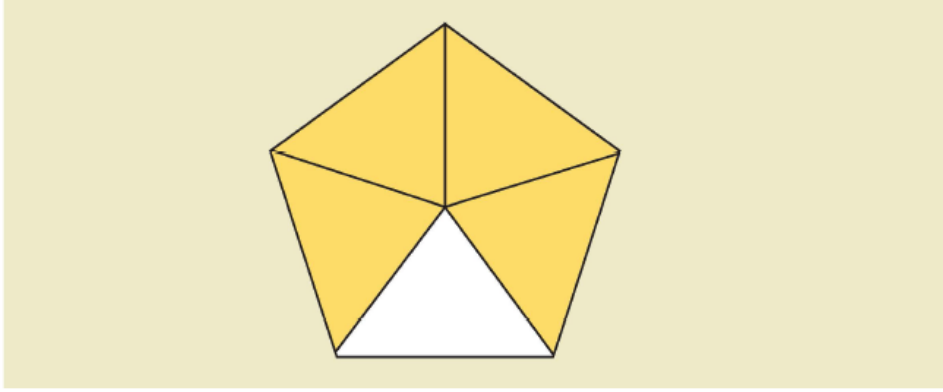
1) Okunuşu "beşte üç" şeklinde olan kesir aşağıdakilerden hangisidir?

A) $\frac{5}{3}$

B) $\frac{3}{8}$

C) $\frac{3}{5}$

2)



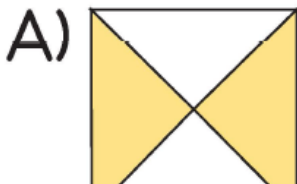
Yukarıdaki şekil eş parçalara ayrıldığına göre, boyalı kısımların belirttiği kesir sayısı aşağıdakilerden hangisidir?

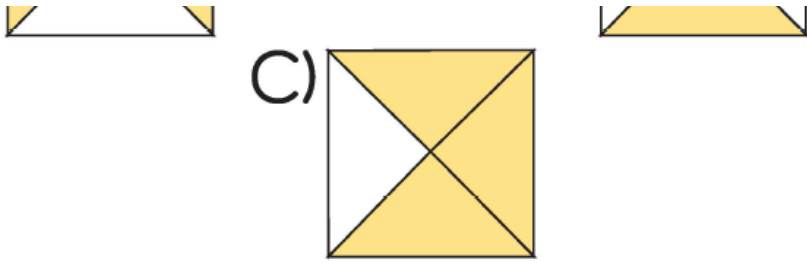
A) $\frac{1}{5}$

B) $\frac{3}{5}$

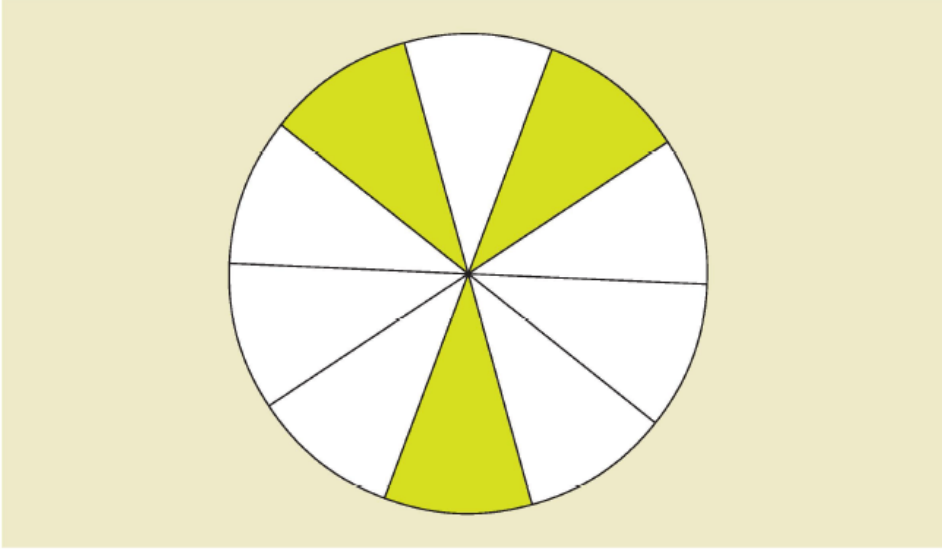
C) $\frac{4}{5}$

3) Aşağıdaki şekillerden hangisinin çeyreği boyanmıştır?





4)



Eş parçalara bölünmüş olan yukarıdaki şekilde boyalı kısmın kesir sayısı aşağıdakilerden hangisidir?

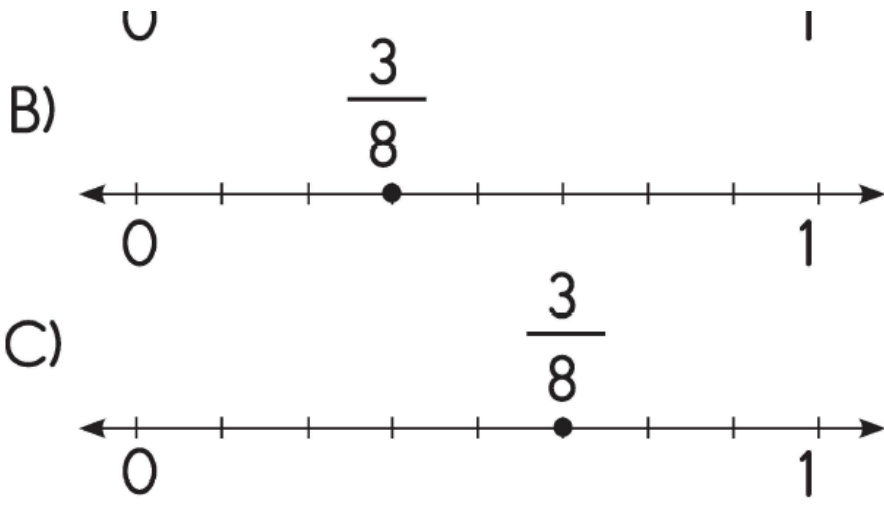
A) $\frac{3}{10}$

B) $\frac{4}{10}$


C) $\frac{7}{10}$

5) $\frac{3}{8}$ kesrinin sayı doğrusunda gösterimi aşağıdakilerden hangisidir?





6)



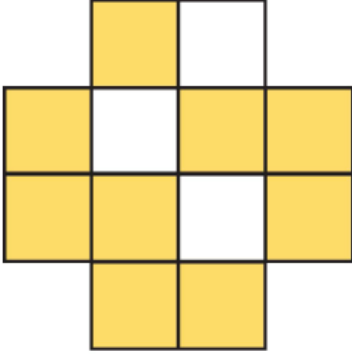
Yukarıdaki şekle göre, aşağıdakilerden hangisi **yanlıştır**?

- A) Sarı renkli kısımların belirttiği kesir $\frac{3}{10}$ 'tür.
- B) Mavi renkli kısımların belirttiği kesir $\frac{4}{10}$ 'tür.
- B) Pembe renkli kısımların belirttiği kesir $\frac{2}{10}$ 'dir.

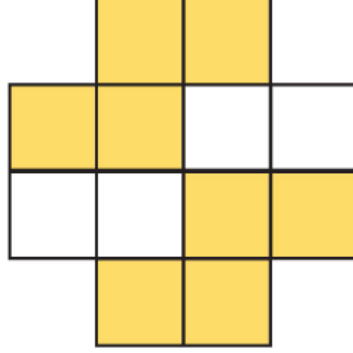
7) Aşağıdaki şekillerden hangisinin

$\frac{9}{12}$ 'u boyalıdır?

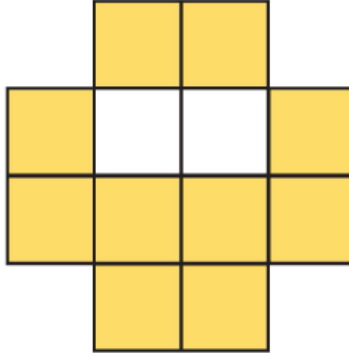
A)



B)



C)



www.supersoru.com

Cevaplar :

1)C, 2)C, 3)B, 4)A, 5)B, 6)B, 7)A,