


1)




Yukarıdaki 6 tabakta bulunan toplam çilek sayısı kaçtır?

A) 15

B) 18

C) 20

2)



Yukarıdaki 2 yumurta kolisinde bulunan toplam yumurta sayısı aşağıdakilerden hangisiyle bulunur?

A)  $2 \times 9$

B)  $2 \times 6$

C)  $3 \times 9$

3)



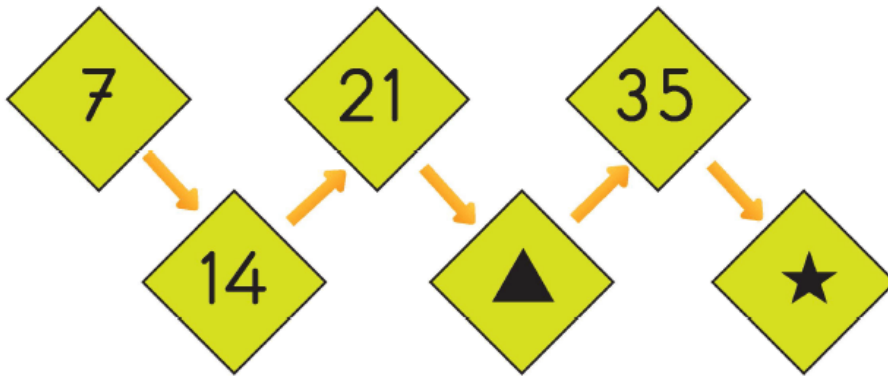
Yukarıda görülen 7 kedinin ayak sayıları toplamı aşağıdakilerden hangisi ile bulunur?

A)  $7 \times 2$

B)  $7 \times 7$

C)  $7 \times 4$

4)



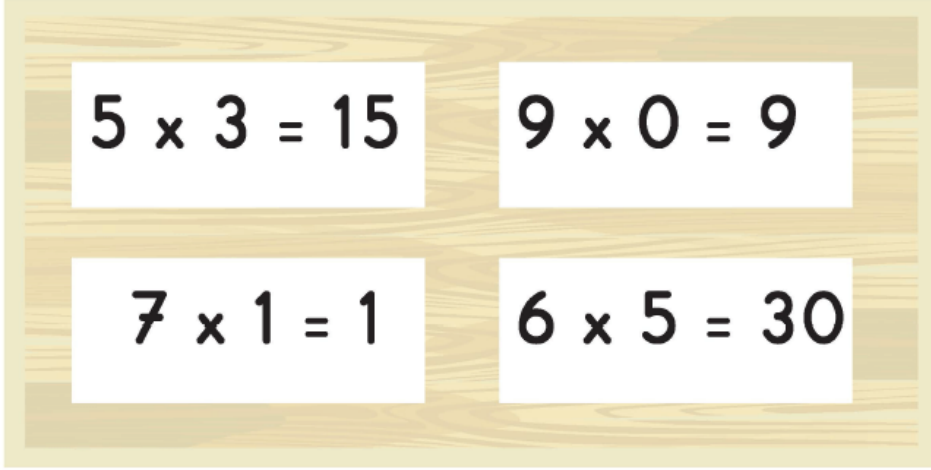
Yukarıdaki sayı örüntüsünde verilmeyen  $\blacktriangle$  ve  $\star$  sembolleri ye-

. | . | . | . | . |

rine gelecek sayıların toplamı kaçtır?

- A)  B)  C) 


5)



Yukarıdaki panoda verilen işlemlerden kaç tanesinin sonucu doğrudur?

- A) 1      B) 2      C) 3

6)



Yukarıdaki örüntüde verilmeyen sayıların toplamı kaçtır?

- A) 99      B) 96      C) 90

7)



Yukarıdaki örüntüde verilmeyen sayıların toplamı kaçtır?

A)72

B)70

C)68

[www.supersoru.com](http://www.supersoru.com)

Cevaplar :

1)B, 2)A, 3)C, 4)C, 5)C, 6)A, 7)A,