

Aşağıdaki şekil grafiği, Muğla ilinin Nisan ayındaki hava durumunu göstermektedir.



Not: Her şekil, 3 günü göstermektedir. Grafiğe göre, 1. ve 2. soruları cevaplayınız.

1) Bulutlu gün sayısı kaçtır?

A) 6

B) 9

C) 12

2) Havanın güneşli olduğu gün sayısı havanın yağmurlu olduğu gün

3., havanın yağmurda olduğu gün sayısından kaç fazladır?


A) 3

B) 4

C) 6

Aşağıdaki grafik, bir sınıftaki öğrencilerin en çok sevdikleri meyve çeşitlerini göstermektedir.

Grafik: En Çok Sevilen Meyve Çeşidi



Not: Her ☆, 2 şekli göstermektedir.

Grafiğe göre, 3., 4. soruları cevaplayınız.

3) Sınıfta **en çok** sevilen meyve hangisidir?

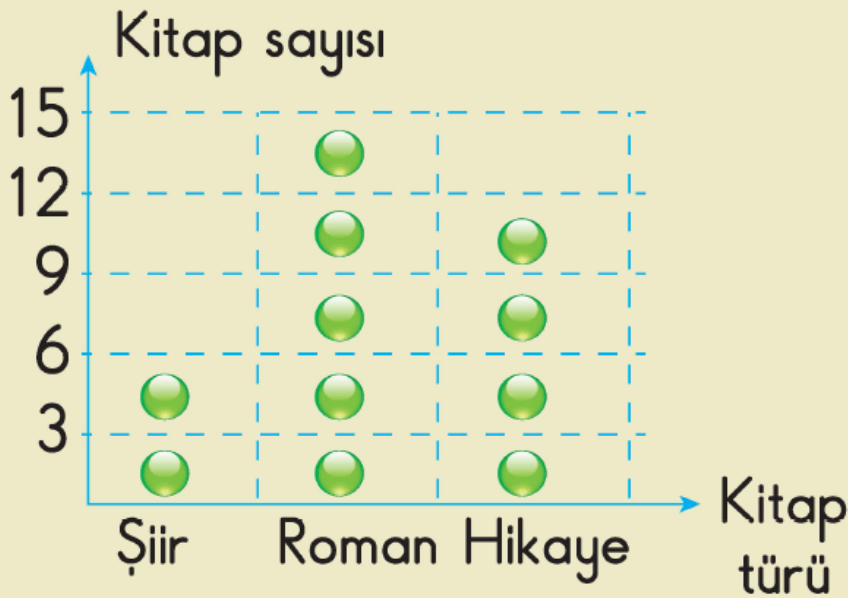
- A) Muz B) Kivi C) Çilek


4) Sınıf mevcudu kaç kişidir?

- A) 36 B) 34 C) 32

Aşağıdaki grafik, Mahir'in kitaplığında bulunan kitapların türlerini göstermektedir.

Grafik: Türlerine Göre Kitap Sayıları



Not: Her  3 kitabı göstermektedir.

Not: Her , 5 kitabı göstermektedir.

Grafiğe göre, 5., 6. soruları cevaplayınız.

5) Kitaplıkta **en az** bulunan kitap türü ve bu kitap türünün sayısı kaçtır?

- A) Şiir - 6 B) Roman - 15
C) Hikaye - 12

6) Kitaplıktaki toplam kitap sayısı kaçtır?

- A) 30 B) 32 C) 33

www.supersoru.com

Cevaplar :

1)B, 2)A, 3)C, 4)B, 5)A, 6)C,