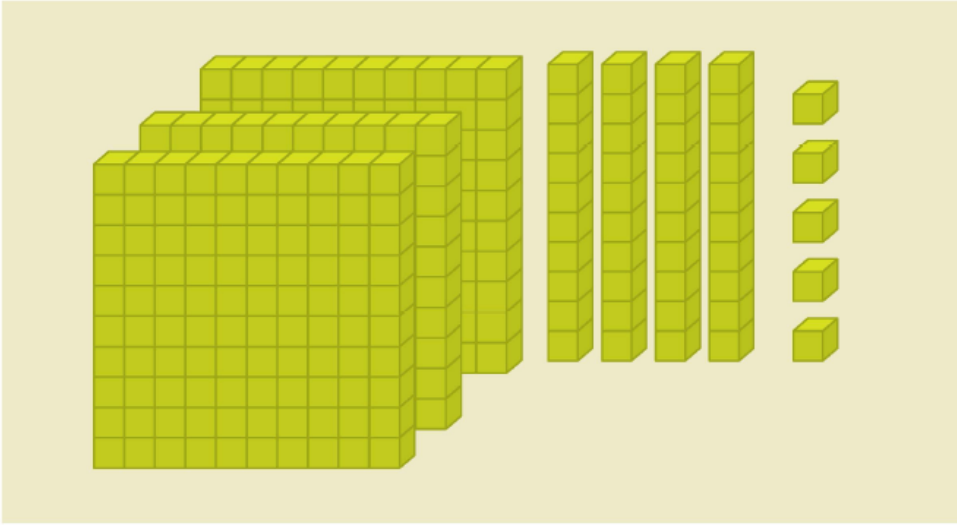


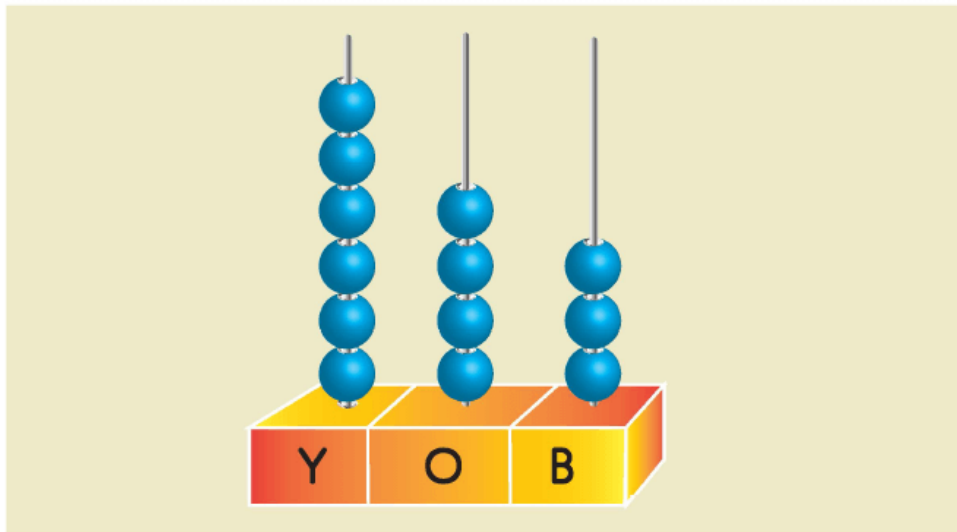
1)



Onluk taban bloklarıyla modellenen yukarıdaki sayının okunuşu aşağıdakilerden hangisidir?

- A) Üç yüz kırk beş
- B) Beş yüz kırk üç
- C) Üç yüz elli dört

2)



Yukarıdaki abaküste modellenen sayı aşağıdakilerden hangisidir?

sayı aşağıdakilerden hangisidir :

A) 346 B) 634 C) 643

3) Okunuşu "yedi yüz sekiz" olan sayının yazılışı aşağıdakilerden hangisidir?

A) 708 B) 718 C) 807

4)



Yukarıdaki tabloda görülen sayının okunuşu aşağıdakilerden hangisidir?

A) Altı yüz yedi
B) Altı yüz on yedi
C) Yedi yüz on altı

5) Aşağıda verilen sayılardan han-

.....

gisi yüzlük, onluk ve birliklerine **yanlış** ayrılmıştır?

A)

2	7	3
Y	O	B

B)

4	1	9
Y	O	B

C)

7	2	8
Y	O	B

6) Burak Bey, kredi kartı borcu için 6 yüzlük, 8 onluk ve 1 birlik ödemiştir. Buna göre, Burak Bey'in kredi kartı borcu için ödediği para kaç liradır?

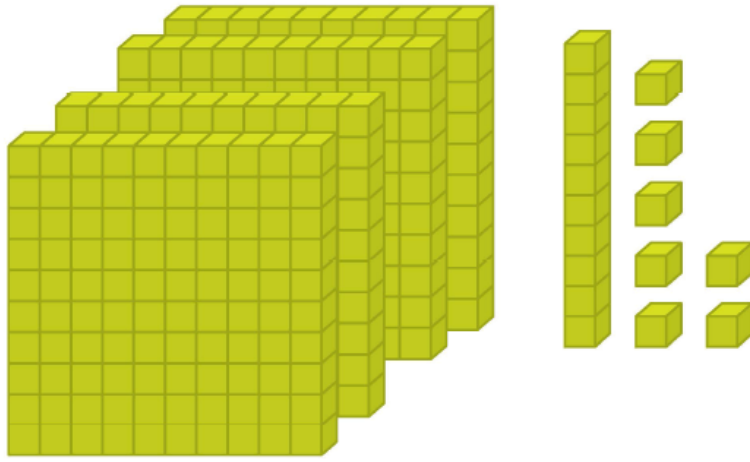
A) 186

B) 618

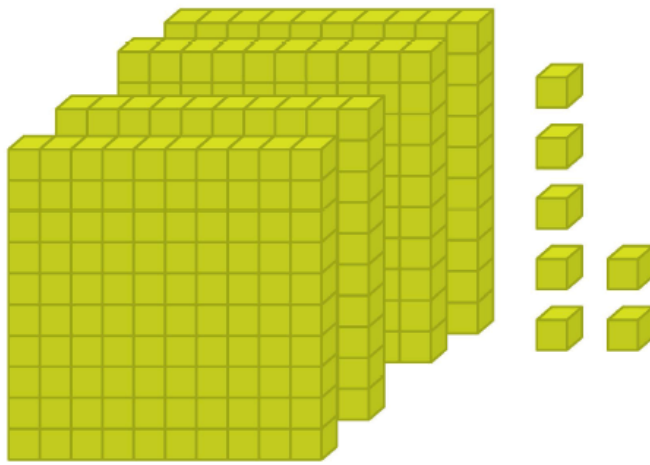
C) 681

7) Okunuşu "Dört yüz yedi" olan sayının onluk taban bloklarıyla gösterimi aşağıdakilerden hangisidir?


A)



B)



C)



www.supersoru.com

Cevaplar :

1)A, 2)C, 3)A, 4)B, 5)B, 6)C, 7)B,