



Yukarıdaki şekilde kaç tane üçgen vardır?

A) 4

B) 5

C) 6

4)



Dört köşesi vardır.



Kısa ve uzun kenarları vardır.



Bütün açıları diktir.


Özellikleri yukarıda verilen geometrik şekil aşağıdakilerden hangisidir?

A) Kare

B) Üçgen

C) Dikdörtgen

5)



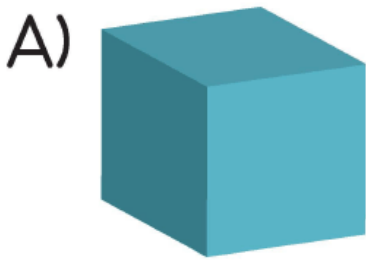





Yukarıdaki noktalı kağıtta verilen noktalardan hangileri birleştirilirse bir kare elde edilir?

- A) K, L, R, P
- B) M, L, N, R
- C) K, L, N, M

6) Aşağıdaki cisimlerden hangisinin yüzleri kullanılarak hem dikdörtgen hem de üçgen çizilebilir?





Yukarıdaki noktalı kağıt üzerinde verilen üçgenlerden kaç tanesinin üç açısı da dar açıdır?

A) 1

B) 2

C) 3

[www.supersoru.com](http://www.supersoru.com)

Cevaplar :

1)A, 2)C, 3)B, 4)C, 5)B, 6)C, 7)A,