

1. – Dünya'nın merkezinde yer alan katmandır.
– Ağır küre olarak da adlandırılır.
– Dünya'nın en sıcak katmanıdır.

Özellikleri verilen katman aşağıdakilerden hangisidir?

- A) Hava küre B) Taş küre
C) Ateş küre D) Çekirdek

2. I. Yapısında demir ve nikel vardır.
II. Yapısında magma bulunur.
III. Dünya'nın içten ikinci katmanıdır.

Yukarıda verilen bilgilerin eşleştirilmesi aşağıdakilerden hangisinde doğru verilmiştir?

- | | <u>Ateş Küre</u> | <u>Çekirdek</u> |
|----|------------------|-----------------|
| A) | I ve II | III |
| B) | II ve III | I |
| C) | I | II ve III |
| D) | II | I ve III |

3. Dünyamızın dörtte üçü ▲ ile kaplıdır.

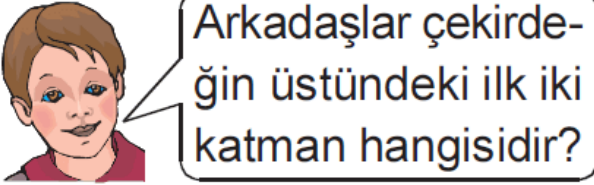
Yukarıdaki bilgide ▲ ile gösterilen yere aşağıdakilerden hangisi gelmelidir?

- A) Karalar B) Magmalar
C) Sular D) Taşlar

4. Aşağıda verilenlerden hangisi Dünya'nın en kalın katmanıdır?

- A) Ateş küre B) Su küre
C) Taş küre D) Çekirdek

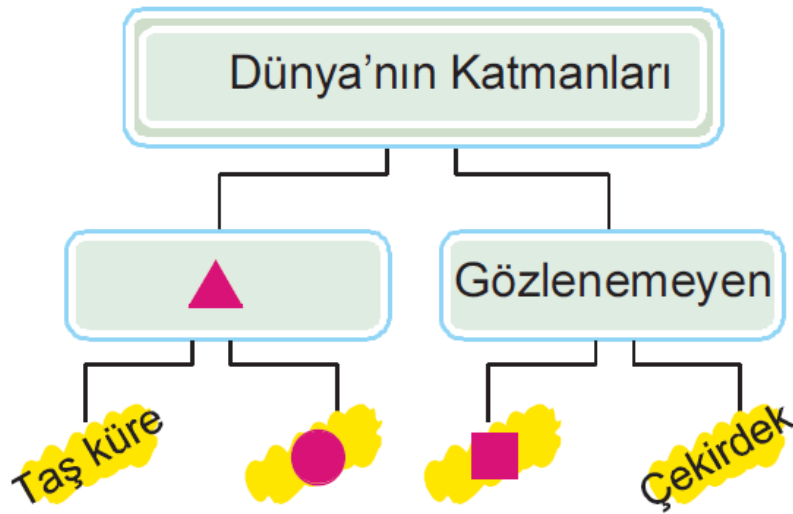
5.



Burak'ın sorusunun cevabı aşağıdakilerden hangisinde doğru verilmiştir?




- | | <u>1. katman</u> | <u>2. katman</u> |
|----|------------------|------------------|
| A) | Hava küre | Taş küre |
| B) | Ateş küre | Taş küre |
| C) | Taş küre | Hava küre |
| D) | Ateş küre | Hava küre |

6.



Yukarıda verilen kavram haritasındaki ▲, ● ve ■ sembolleri yerine aşağıdaki

ğıdakilerden hangisi gelmelidir?

-   
- A) Gözlenebilen Su küre Hava küre
B) Gözlenebilen Ateş küre Suküre
C) Gözlenebilen Ateş küre Hava küre
D) Gözlenebilen Hava küre Ateş küre

7. 1- Dünya'nın şekli tepsiye benzer
2- Dünya'nın dörtte biri sularla kaplıdır.
3- Taşküre kayaç ve topraktan oluşur.

Verilen bilgilerin doğru ya da yanlış olarak işaretlenmesi aşağıdakilerden hangisi gibi olmalıdır?

- A) 1 - Y
2 - D
3 - Y
- B) 1 - D
2 - Y
3 - Y
- C) 1 - Y
2 - Y
3 - D
- D) 1 - D
2 - D
3 - D

8. **Kayaların ufalanmasında aşağıda verilenlerden hangisi etkili değildir?**

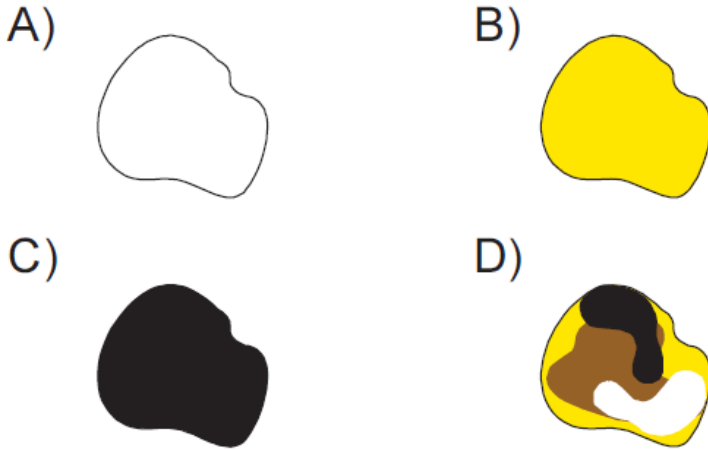
- A) Yağmur sularının kayaların aralarına girerek onları çözmesi
B) Gece ile gündüz arasındaki sıcaklık farkı

- C) Yagmur yagdıktan sonra gk kuřa-
ğının ıkması
D) Bitki kklerinin kayalardaki atlaklar-
dan uzanıp, atlakları geniřletmesi

9. Ařağıda verilen yapıardan hangisi
en kcktr?

- A) Tař B) akıl
C) Kum D) Kaya

10. Ařağıda verilen tařlardan hangisi tek
eřit mineralden oluřmamıřtır?



11. Tařları meydana getiren kck para-
cıklara .. X .. denir.
Ekonomik deęeri olan minerallere ..Y..
denir.

Yukarıda verilen bilgilerdeki X ve Y
kavramları ařağıdakilerden hangisin-
de doęru verilmiřtir?

X

Y

- | | |
|------------|-------|
| A) kayaç | maden |
| B) mineral | maden |
| C) maden | kaya |
| D) kum | taş |

12. Rüzgar ve su gibi etkilerle toprağın başka yerlere taşınması olayı aşağıdakilerden hangisinde doğru verilmiştir?

- | | |
|------------|------------|
| A) Heyelan | B) Erozyon |
| C) Sel | D) Çığ |

www.supersoru.com

Cevaplar :

1)D, 2)B, 3)C, 4)D, 5)B, 6)D, 7)C, 8)C, 9)C, 10)D, 11)B, 12)B,