

1. “Varlıklar canlı ve cansız olmak üzere ikiye ayrılırlar.”



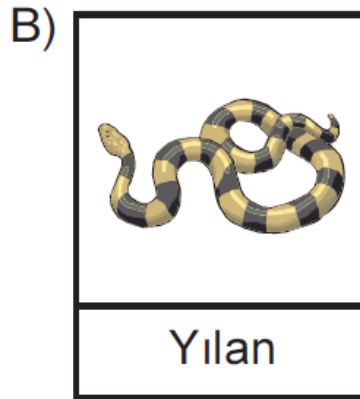
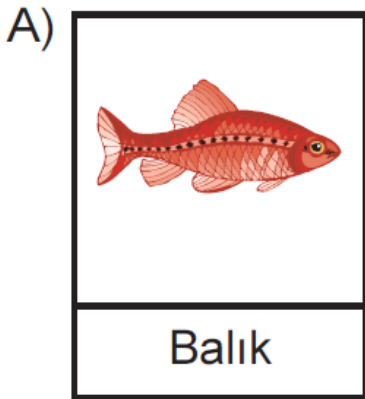
Buna göre aşağıdakilerden hangisi cansız varlıktır?

- A) Ağaç B) Böcek
C) İnsan D) Toprak

2. **Aşağıda verilen olaylardan hangisini hem canlı hem de cansız varlıklar gerçekleştirebilir?**

- A) Beslenme
B) Hareket
C) Uyarılara tepki verme
D) Solunum





3. **Aşağıda verilenlerden hangisi doğurarak çoğalır?**




Kanguru

Kuş

4. Aşağıda verilen varlıklardan hangisi uyku halindeki canlılara örnek değildir?



5. Gözle görülemeyecek kadar küçük canlıları aşağıda verilen araçlardan hangisiyle gözlemleriz?



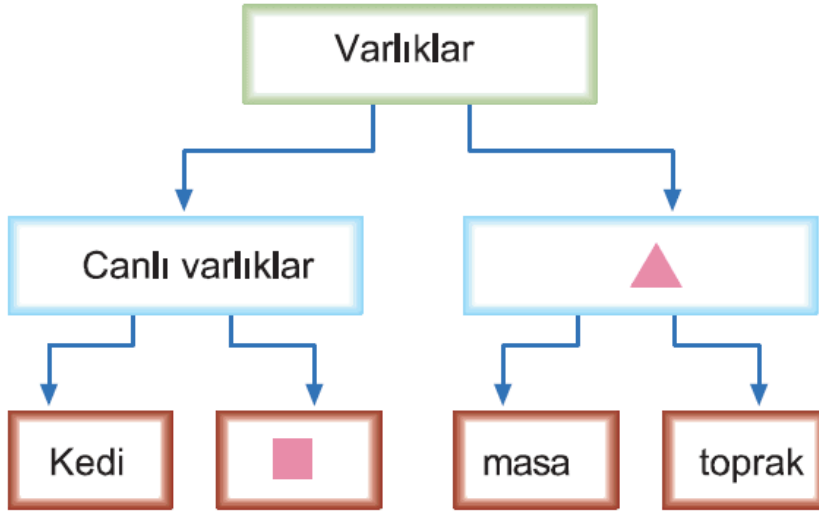


Dürbün



Teleskop


6.

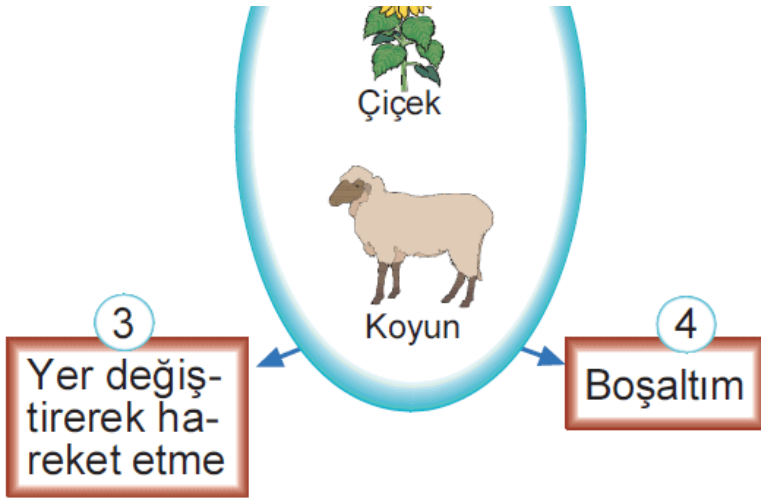


Yukarıda verilen kavram haritasında ■ ve ▲ sembolleri yerine aşağıdakilerden hangisi gelmelidir?

	■	▲
A)	Kuş	Uyku halindeki varlıklar
B)	Ağaç	Cansız varlıklar
C)	Bitki	Gözle görülmeyen varlıklar
D)	Taş	Cansız varlıklar

7.





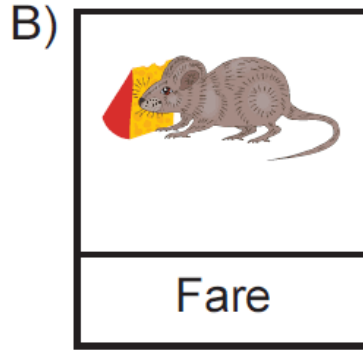
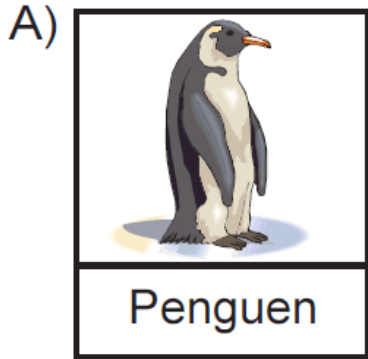


Resimdeki canlıların ortak özelliklerinden bazıları verilmiştir.

Bu ortak özelliklerden hangisi yanlıř verilmiştir?

- A) 1 B) 2 C) 3 D) 4

8. Ařaęıda verilen canlılardan hangisinin yařam alanı kutup bölgesidir?



9. evremizi temiz tutmak iin ařaęıda verilen davranıřlardan hangisini van-

verilen davranışlardan hangisini yap-
mak yanlış olur?

- A) Park, bahçe ve piknik alanlarını te-
miz kullanmalıyız.
- B) Etrafa çöp atmamalıyız.
- C) Odun, kömür gibi yakıtları tercih et-
meliyiz.
- D) Çevremizdeki ormanlık alanları tah-
rip etmemeliyiz.

10. Okul bahçesindeki bir taşın altı aşağıda verilen canlılardan hangisinin yaşam alanı olamaz?

