


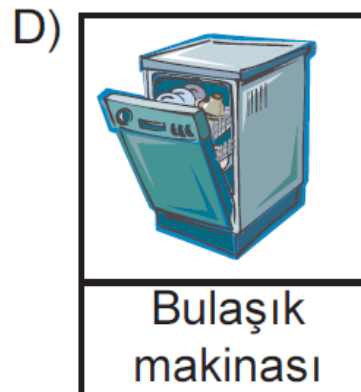
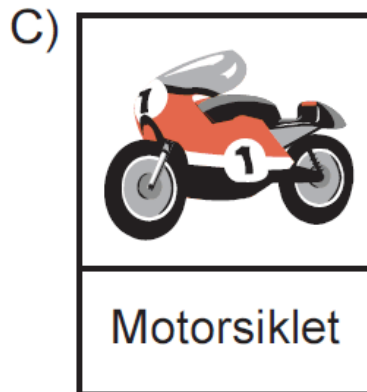
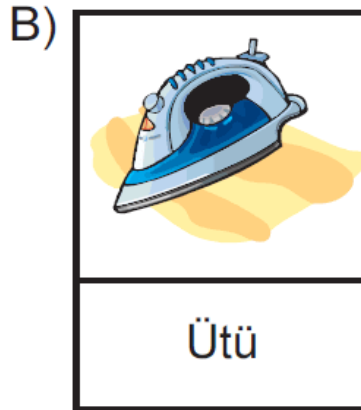
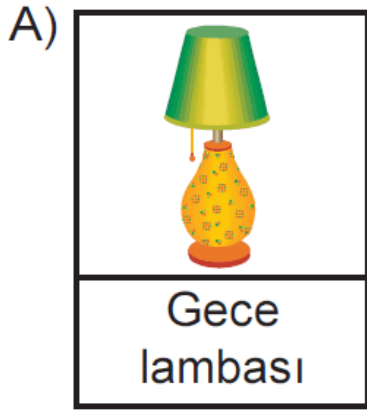
1.



Resimde gösterilen odadaki eşyalardan hangisi şehir cereyanı ile çalışmaz?

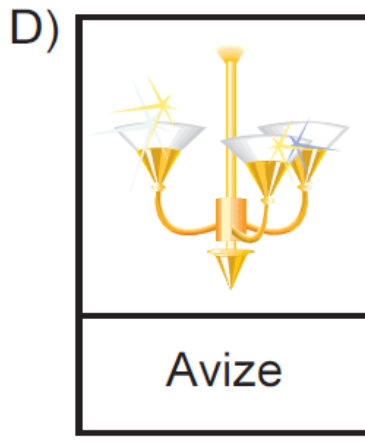
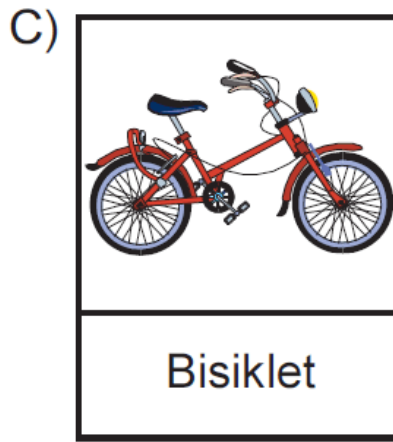
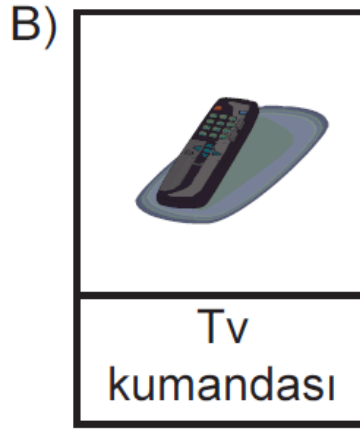
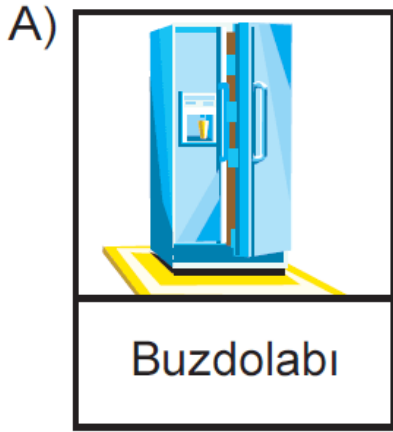
- A) Televizyon
B) Bilgisayar
C) Klima
D) El feneri

2. Aşağıda verilen araçların hangisi elektrik ihtiyacını aküden karşılar?

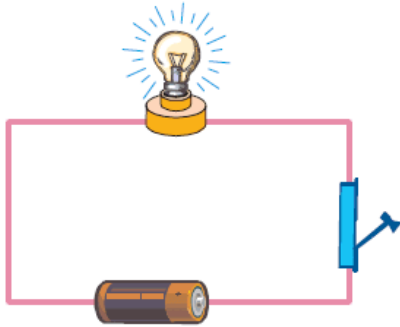


3. Aşağıda verilen araçlardan hangisi:

3. Aşağıda verilen araçlardan hangisi pil ile çalışır?



4.



Şekilde basit bir elektrik devresi gösterilmiştir.

Buna göre, devredeki anahtar kapatıldığında aşağıda verilen olaylardan hangisi meydana gelmez?

- A) Devredeki tel ısınır.
- B) Lamba yanmaya başlar.
- C) Pil küçülmeye başlar.
- D) Devreden elektrik enerjisi geçer.

5. Aşağıda verilen bilgilerden hangisi yanlıştır?

- A) Kablosu zedelenmiş ve soyulmuş fişleri kullanmak tehlikelidir.
- B) Elektriğe kapılmış birini hemen elinizle ittirmeliyiz.
- C) Islak zeminlerde terlik giyerek elektrikli araçları kullanmalıyız.
- D) Elektrik prizlerine çatal gibi araçlar sokmamalıyız.

- 6.** I. El feneri
II. Otomobil
III. Tost makinası

Yukarıda verilen elektrikli araçları çalıştıran kaynaklar sırasıyla aşağıdakilerden hangisidir?

- A) Pil - Akü - Şehir cereyanı
- B) Pil - Şehir cereyanı - Akü
- C) Şehir cereyanı - Akü - Pil
- D) Akü - Pil - Şehir cereyanı

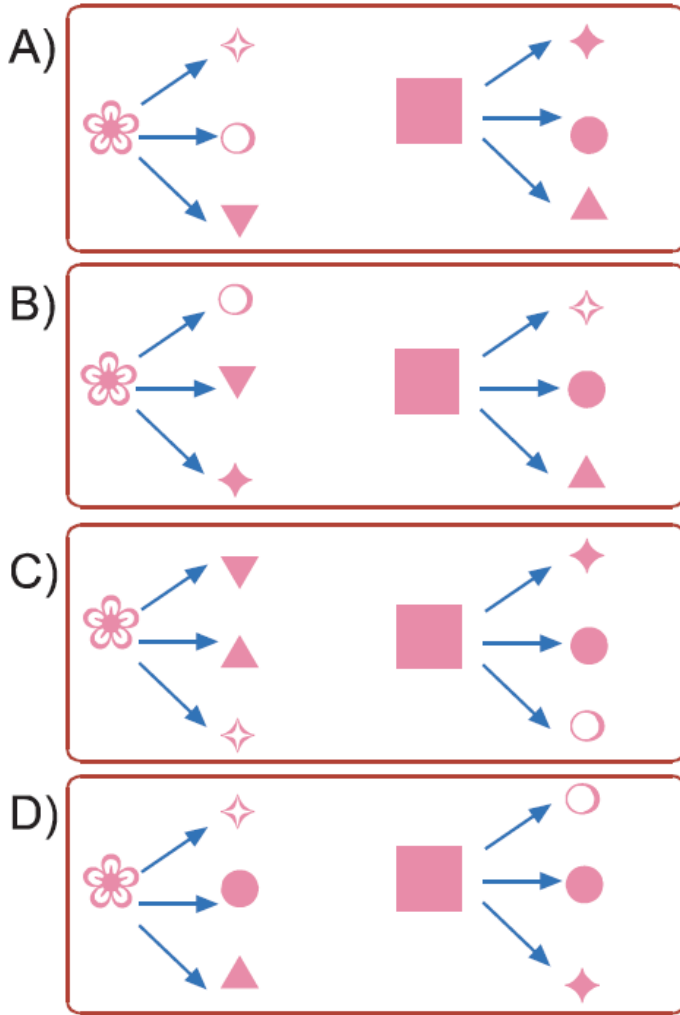
- 7.**
- ✿ Anahtar kapatıldığında
 - ✧ Devre açılır.
 - Ampul yanar.
 - ▼ Devreden elektrik akımı geçer.

◆ Devre tamamlanır.

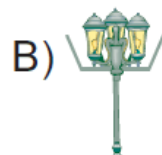

■ Anahtar açıldığında

● Ampul söner.
▲ Devreden elektrik akımı geçmez.

Yukarıda ✿ ve ■ yapılması sonucu meydana gelebilecek olaylar verilmiştir. **Buna göre aşağıda verilen eşleştirmelerden hangisi doğrudur?**



8. **Aşağıda verilen durumların hangisinde sokak lambalarının konumu doğru verilmiştir?**





C)



D)



9. Aşağıda verilen devrelerin hangisinde lamba ışık verir?

A)




B)



C)



D)



10. Aşağıda verilenlerden hangisi elektrikli araçların çalıştırılması için kullanılmaz?

A) Şehir cereyanı

B) Pil

C) Akü

D) Hoparlör

www.supersoru.com

Cevaplar :

1)D, 2)C, 3)B, 4)C, 5)B, 6)A, 7)B, 8)D, 9)D, 10)D,