

1.



Nihal

Dünyamız tam bir küre değildir.



Kerem

Dünyamızın Ay üzerine tam gölgesi düşecek olursa bu gölge kare şeklinde olurdu.



Beyza

Dünyamız üst ve alt kısımdan hafif basık orta taraftan şişkin-dir.

Dünya'nın şekliyle ilgili görüşlerini ifade eden öğrencilerden hangilerinin ifadesi doğrudur?

- A) Yalnız Nihal
- B) Nihal ve Kerem
- C) Kerem ve Beyza
- D) Beyza ve Nihal

2.



Fen ve Teknoloji dersinde öğretmenimiz elinde beyaz bir topa içeri girdi. Mavi tükenmez kalemle beyaz top üzerinde bir nokta işaretledi. İşaretlenen noktadan kalemin ucuyla aynı yönde hareket etti. Öğretmenimiz aynı noktaya ulaşmıştı.

Buğra'nın yukarıdaki izlenimleriyle hangi seçenekte verilen konu arasında ilişki vardır?

- A) Dünya'nın katmanları
- B) Dünya'mızın şekli
- C) Dünya'nın çevre uzunluğu
- D) Dünya'nın hacmi

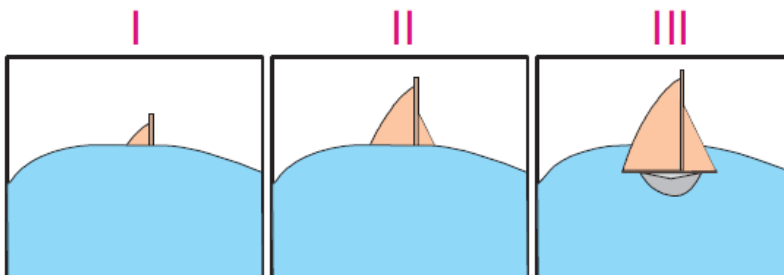
3.

- ❁ İstanbul'dan havalanan bir uçağın sürekli batıya gitmesiyle başlayan bir yolculuğun tekrar İstanbul'da bitmesi
- Denizde ilerlemekte olan bir geminin şeklinin yavaş yavaş kaybolması
- Dünya'nın bir kısmının su küre, diğer kısmının da kara parçası olması

Dünya'nın küreye benzediğini ispatlayan görüşlere ait semboller hangi seçenekte verilmiştir?

- A) ❁, ■
- B) ❁, ●
- C) ■, ●
- D) ❁, ■, ●

4.



Uzaktan denize bakan bir gözlemci gel-

mekte olan gemiyi hangi sıraya göre görür?

- A) I - II - III B) I - III - II
C) II - III - I D) III - II - I

5.

Karaların küçük çukurlarında biriken sulara denir.

Yukarıdaki ifadede boş bırakılan yere hangi seçenekte verilen getirilmelidir?

- A) Nehir B) Okyanus
C) Göl D) Deniz

6.



Dünya üzerinde ..▲.. yer kaplayan ..●.. küredir.

Deniz'in yukarıdaki ifadesinde yer alan ▲ ve ● sembolleri yerine hangi seçenekte verilen getirilmelidir?

- | | |
|-----------|-------|
| ▲ | ● |
| _____ | _____ |
| A) En az | Su |
| B) En çok | Taş |
| C) En az | Hava |
| D) En çok | Su |

7. 1. Minerallerin bir araya gelmesiyle kayalar oluşur.

2. Karalar kanyonlardan oluşur.

2. Karalar, kayalarla oluşur.
3. Karaları oluşturan toprak, rüzgâr, yağmur vb. etkilerle oluşur.

Yukarıdaki ifadelerden hangileri doğrudur?

- A) Yalnız 1
B) 1 ve 2
C) 1 ve 3
D) 1, 2 ve 3

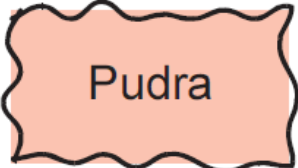



8. ❁ Mineraller, katı halde bulunurlar.
- ❁ Bütün minerallerin parlaklıkları aynıdır.
- ❁ Mineraller canlı ve cansız artıklarının birleşmesiyle oluşmuştur.

Yukarıda verilen kutucuklara, yanındaki ifade doğruysa "D" yanlışsa "Y" yazılması isteniyor.

Buna göre, kutucuklara sırasıyla hangi seçenekte verilen getirilmelidir?

- A) D - D - Y
B) Y - Y - D
C) D - Y - Y
D) Y - D - Y

9. **Alçı taşı kullanılarak aşağıdakilerden hangisi yapılır?**

- A)  Pudra
- B)  Tuz
- C)  Tuz
- D)  Tuz

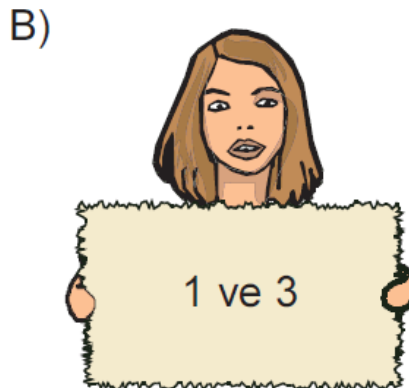




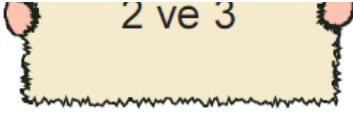
10. ..I.. bir araya gelirse ..II.. oluşur. Ekonomik değeri olan minerallere ..III.. denir. Yukarıdaki parçada I, II ve III numaralı yerlere hangi seçenekte verilen getirilmelidir?

<u>I</u>	<u>II</u>	<u>III</u>
A) Mineral	Kayaç	Maden
B) Maden	Mineral	Kayaç
C) Kayaç	Mineral	Maden
D) Mineral	Maden	Kayaç

11. 1. Hava
2. Su
3. Sıcaklık

Yukarıda verilenlerden hangileri toprağın oluşumunda etkilidir?





www.supersoru.com

Cevaplar :

1)D, 2)B, 3)A, 4)A, 5)C, 6)D, 7)D, 8)C, 9)D, 10)A, 11)D,