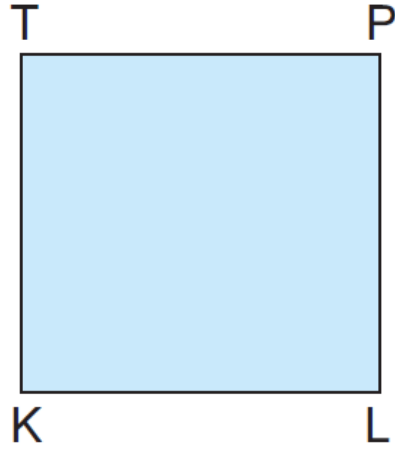


1.

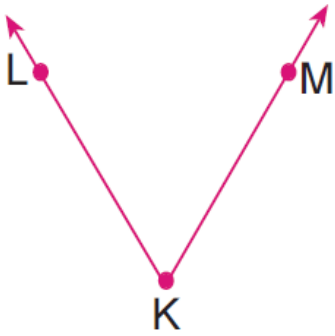


Yukarıda verilen geometrik şekil, aşağıdaki ifadelerden hangisi ile isimlendirilebilir?

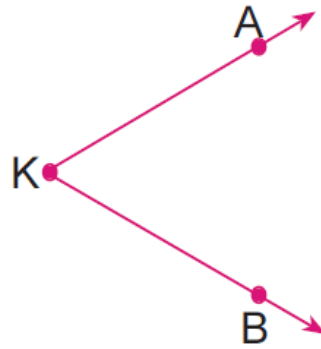
- A) KTP üçgeni
- B) LPTK karesi
- C) TKPL dikdörtgeni
- D) TLPK karesi

2. Aşağıda verilen açılardan hangisi " \hat{K} " sembolü ile gösterilemez?

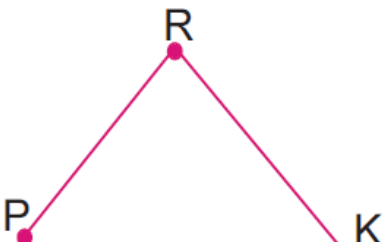
A)



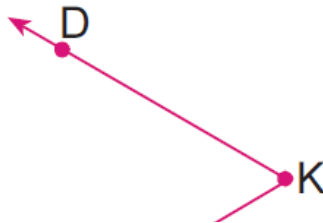
B)



C)

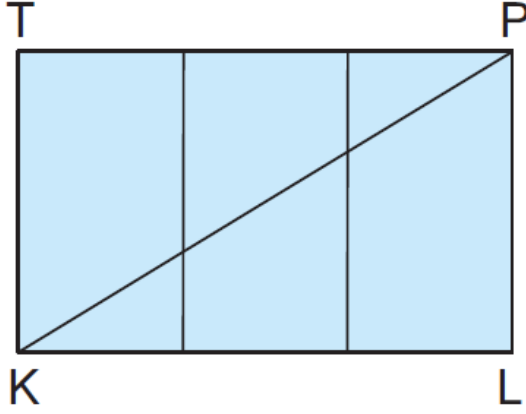


D)





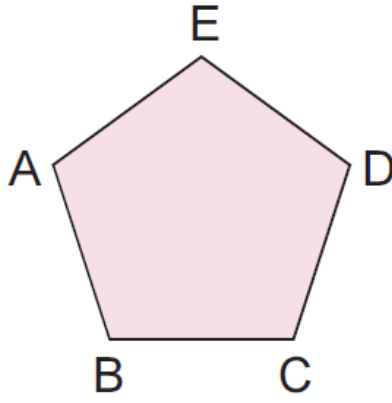
3.



Yukarıda verilen şekilde kaç tane üçgen vardır?

- A) 8 B) 6 C) 5 D) 3

4.



Yukarıda verilen şekilde kaç tane açı vardır?

- A) 3 B) 4 C) 5 D) 6

5.

- I. Pergel II. Cetvel
III. İletki IV. Gönye

Yukarıda verilen araçlardan kaç tane-

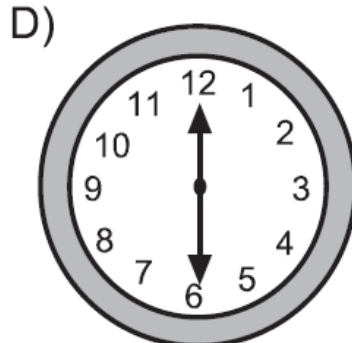
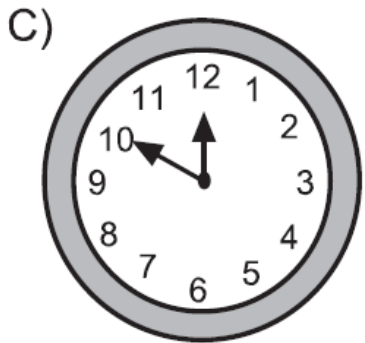
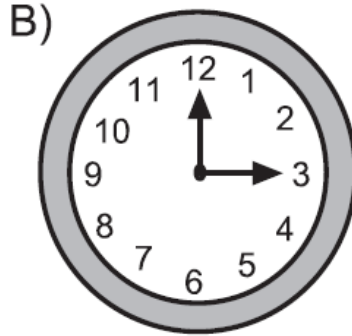
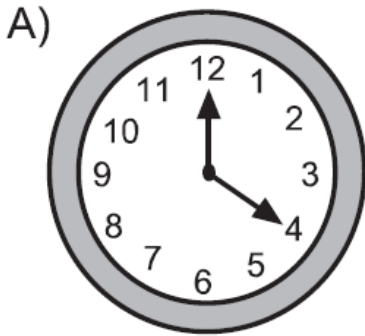
si ile bir dik açı çizilemez?

- A) 1 B) 2 C) 3 D) 5

6. Açı ölçü birimi aşağıdakilerden hangisidir?

- A) Metre B) Kilogram
C) Litre D) Derece

7. Aşağıda verilen saatlerin hangisinde akrep ile yelkovan arasındaki açı bir dik açıdır?



8. Bir dik açı ile bir geniş açının toplamı 240° ise geniş açı kaç derecedir?

- A) 150 B) 140 C) 130 D) 120

9. 72° ye kaç derece ilave edersek bir dik açı elde ederiz?

- A) 17 B) 18 C) 19 D) 20

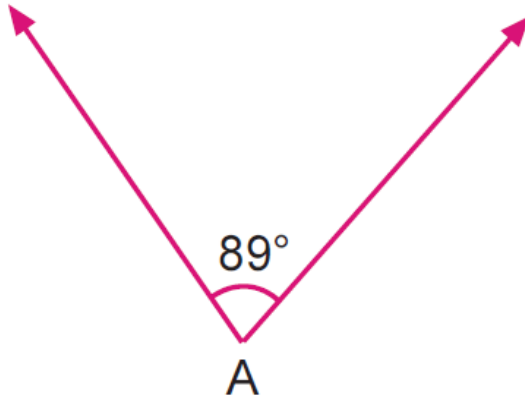
10. Farkları 47° olan bir dik açı ile bir dar açının ölçüleri toplamı kaç derecedir?

- A) 146 B) 142 C) 137 D) 133

11. Aşağıdakilerden hangisi bir dar açı ölçüsüdür?

- A) 85° B) 90° C) 93° D) 120°

12.

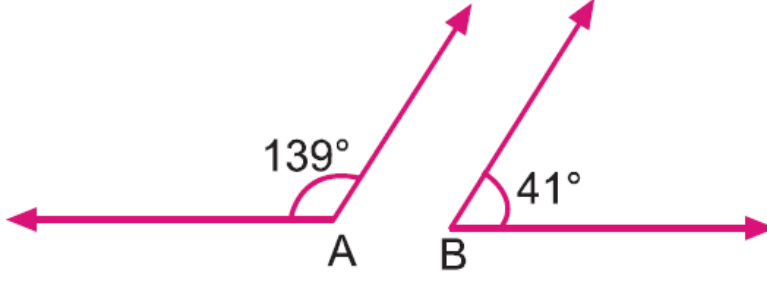


Yukarıda verilen açıyla ilgili olarak aşağıdakilerden kaç tanesi doğrudur?

- I. Geniş açıdır.
- II. $s(\hat{A}) = 89^\circ$ dir.
- III. Dar açıdır.
- IV. 2 köşesi, 1 kenarı vardır.

- A) 4 B) 3 C) 2 D) 1

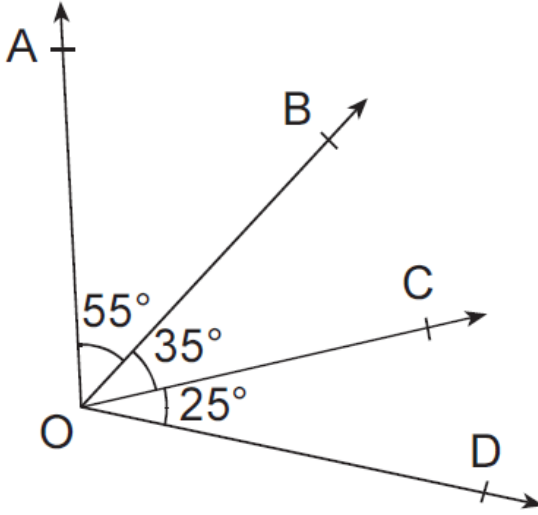
13.



Yukarıda verilen A ve B açılarının ölçüleri toplamı aşağıdaki açılardan hangisinin ölçüsüne eşittir?

- A) Doğru açı B) Geniş açı
C) Dik açı D) Dar açı

14.



Yukarıdaki şekle göre, aşağıdakilerden hangisi yanlıştır?

- A) AOC açısı bir dik açıdır.
B) BOD açısı bir dar açıdır.
C) AOC açısı bir geniş açıdır.
D) AOD açısı bir geniş açıdır.