

1.



Yandaki saat öğleden önceki bir zamanı göstermektedir.

**Buna göre, saat kaç göstermektedir?**

- A) 19:10                      B) 14:35  
C) 02:35                      D) 07:10

2. **2 saat 15 dakika kaç dakikadır?**

- A) 135      B) 145      C) 155      D) 165


3. **25 dakikanın  $\frac{3}{5}$  i kaç saniyedir?**

- A) 750      B) 800      C) 900      D) 1020

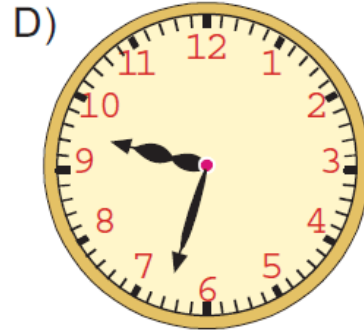
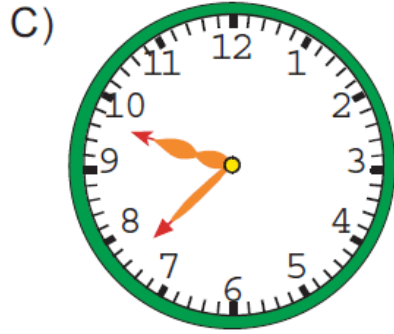
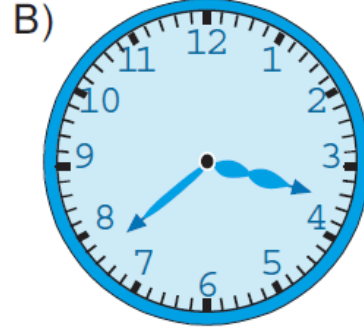
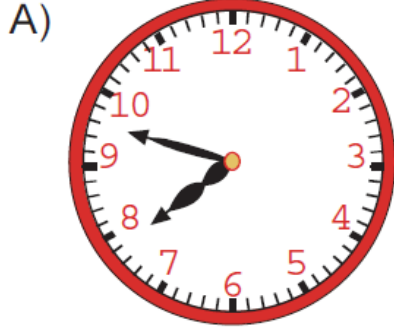
4. **Günde 50 dakika kitap okuyan bir kişi bir haftada ne kadar süre kitap okur?**

- A) 5 saat 55 dakika  
B) 5 saat 50 dakika  
C) 5 saat 40 dakika  
D) 5 saat 25 dakika

5.



Yukarıdaki sayısal saatte belirtilen zamanı aşağıdaki saatlerden hangisi göstermektedir?



6. Ece, her gün 2 saat 45 dakika ders çalışmaktadır.

Buna göre Ece, 5 günde toplam kaç dakika ders çalışmış olur?

A) 825    B) 830    C) 835    D) 840

7. 
$$\begin{array}{r} 15 \text{ saat} \quad 38 \text{ dakika} \quad 43 \text{ saniye} \\ + 8 \text{ saat} \quad 47 \text{ dakika} \quad 28 \text{ saniye} \\ \hline \end{array}$$

Yukarıdaki toplama işleminin sonucu aşağıdakilerden hangisidir?

A) 22 saat 25 dakika 18 saniye

- B) 23 saat 25 dakika 18 saniye  
C) 23 saat 26 dakika 11 saniye  
D) 24 saat 26 dakika 11 saniye

8. Selim sabah saat 10:05'te ders çalışmaya başlıyor.

**Selim 1,5 saat sonra saate baktığında saat kaç gösterir?**

A)



B)



C)



D)



9. 1,5 saat + 180 saniye  
**işleminin sonucu kaç dakikadır?**

- A) 91      B) 92      C) 93      D) 94

10. Akşam saat 21:08 te uyuyan Cansu sabah saat 07:33 te uyanmıştır.

**Buna göre, Cansu ne kadar süre uymuştur?**

- A) 7 saat 25 dakika
- B) 8 saat 35 dakika
- C) 9 saat 15 dakika
- D) 10 saat 25 dakika

**11. Her bir soruyu 45 saniyede çözen bir kişi 120 soruyu kaç dakikada çözer?**

- A) 90
- B) 85
- C) 80
- D) 75

**12.** Ceyhun, Çarşamba günü kolundaki saatine baktığında saatin 11:42 olduğunu görüyor.

**Ceyhun 45 dakika sonra tekrar kolundaki saate baktığında saati kaç gösterir?**

- A) 17:17
- B) 12:27
- C) 112:37
- D) 12:47

**13. Hergün 40 dakika kitap okumak için zaman ayıran bir öğrenci 1 haftada toplam ne kadar zaman kitap okumaya ayırmıştır?**

- A) 4 saat 20 dakika
- B) 4 saat 30 dakika
- C) 4 saat 40 dakika
- D) 4 saat 50 dakika

**14.** Cevdet Bey arabası ile tatil için saat 06:18 de hareket ediyor ve mola verme-

den gideceđi yere saat 14:03 te varıyor.  
**Buna göre, Cevdet Bey ne kadar süre yolculuk yapmıştır?**

- A) 6 saat 21 dakika
- B) 6 saat 45 dakika
- C) 7 saat 21 dakika
- D) 7 saat 45 dakika

**15.** Televiyonda 20:45 te başlayan bir film saat 23:23'te bitiyor.  
**Film arasında 7 dakikalık dört reklam kuşığı gösterildiđine göre, filmin süresi ne kadardır?**

- A) 1 saat 55 dakika
- B) 2 saat 5 dakika
- C) 2 saat 10 dakika
- D) 2 saat 15 dakika

[www.supersoru.com](http://www.supersoru.com)

Cevaplar :

1)D, 2)A, 3)C, 4)B, 5)C, 6)A, 7)D, 8)C, 9)C, 10)D, 11)A, 12)B, 13)C, 14)D, 15)C,