

1.

Yazın tatile gitmek

Haftasonu arkadaşlarımla  
tiyatroya gitmek

Yeni bir oyuncak almak



**Eda'nın yukarıdaki sözleri aşağıdaki-  
lerden hangisi ile ilgilidir?**

- A) İhtiyaçları
- B) İstekleri
- C) Yetenekleri
- D) Fiziksel özellikleri

2. ★ İsteklerimiz      ■ İhtiyaçlarımız
- .....
- .....

**Yukarıdaki boşluklara aşağıdakiler-  
den hangisini yazarsak doğru olur?**

- |    |          |               |
|----|----------|---------------|
|    | ★        | ■             |
|    | _____    | _____         |
| A) | Ekmek    | Su            |
| B) | Eğitim   | Kazak         |
| C) | Gezmek   | Ekmek         |
| D) | Ayakkabı | Tatile gitmek |


3. Canan aşağıdaki geometrik şekillerin  
içine ihtiyaçlarını yazarak belirtmiştir.



Buna göre, Canan'ın geometrik şekillerden hangisinin içine yazdığı, ihtiyaçlarından daha çok istekleri ile ilgilidir?

- A)  B)  C)  D) 

4.



Babamın verdiği harçlıklardan para biriktirdim. Babam istediğim bilgisayarı alacağını söylediği zaman kumbaramda biriktirdiğim paraların hepsini babama vereceğim.

Buna göre, Elif ile ilgili olarak aşağıdakilerden hangisine ulaşamaz?

- A) Bütçesinden tasarruf yaptığına  
B) Aile bütçesine destek olmaya çalıştığına  
C) Babasını zor durumda bıraktığına  
D) İsteklerinin babası tarafından karşılandığına

5.

I  
Küp şeker



II  
Patates



III  
Pamuk



Yukarıdakilerden hangileri islenerek

## üretim aşamalarından geçmiştir?

- A) Yalnız I                      B) I ve II  
C) I ve III                        D) II ve III

6.

8 Kasım 2006

Babamı sabah işe gitmeden yakaladım. Bayram için istediğim kırmızı ayakkabıları anlattım. Babamın aklına hemen ağabeyime bot alınacağı geldi. Babam; “Bu aylık harcamalarımızı planladık. Ya, sana bayram için kırmızı ayakkabı ya da ağabeyine bot alabiliriz. Seçimi ikiniz yapın.” dedi.

**Buna göre, yukarıdaki aile ile ilgili olarak aşağıdakilerden hangisine ulaşamaz?**

- A) Gelirlerine göre harcama yaptıklarına  
B) İstekleri ile ihtiyaçlarını ayırt ettiklerine  
C) Aylık bütçe oluşturduklarına  
D) Çocuklarının her istediklerini aldıklarına

7. I. Ürün etiketi

II. Fiş

III. TSE damgası

IV. Ambalaj

**Alışveriş yapan Emine Hanım ürün alırken yukarıdakilerden hangisine bakmak zorunda değildir?**

A) I

B) II

C) III

D) IV

8.



Alışverişe çıkmadan önce kendime mutlaka ihtiyaçlarım doğrultusunda bir liste yaparım. Aldığım ürünlerin de son kullanma tarihine, TSE damgası olup olmadığına mutlaka bakarım.

**Buna göre, Funda Hanım ile ilgili olarak,**

- I. Bilinçli bir tüketici olduğuna
- II. Alışverişlerinde fiş almadığına
- III. Garanti Belgesi olan ürünleri tercih edeceğine

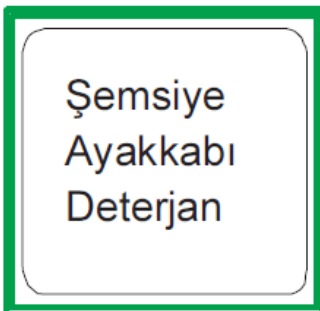
**çıkarımlarından hangilerine ulaşılabilir?**

- A) Yalnız I
- B) I ve III
- C) II ve III
- D) I, II ve III

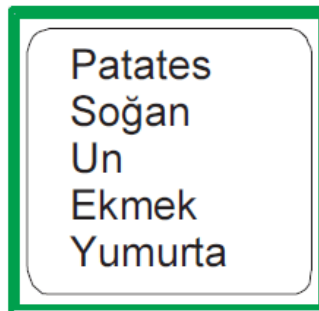
9. Ali Bey alışverişe çıkmadan önce eşi Reyhan Hanım'dan evin beslenme ihtiyaçlarını içeren bir alış-veriş listesi hazırlamasını ister.

**Buna göre, Reyhan Hanım'ın hazırladığı alış-veriş listesi aşağıdakilerden hangisidir?**

A)



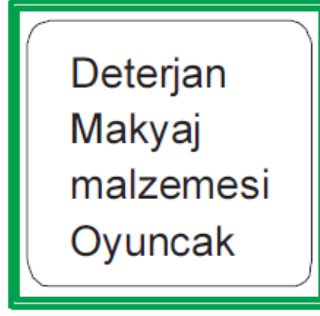
B)



C)



D)



10.

Okul kantininden üzerindeki üretim ve son kullanma tarihine bakarak aldığınız bisküvi bayat çıktı.



**Böyle bir durum karşısında yapmanız gereken davranış aşağıdakilerden hangisidir?**

- A) Bisküviyi çöpe atmak
- B) Bisküviyi yemeğe devam etmek
- C) Bisküviyi kantinciye geri iade etmek
- D) Bisküviyi arkadaşlarımıza hediye etmek

11.



Buğday



Pamuk



Patates

**Yukarıdaki tarım ürünlerinden hangileri temel ihtiyaçlarımızın karşılanabilmesi için üretim, dağıtım ve tüketim aşamalarından geçmektedir?**

A) Buğday, Pamuk, Patates

- A) Buğday, Pamuk, Patates
- B) Yalnız Pamuk
- C) Pamuk, Patates
- D) Buğday, Pamuk

12.



Bizler olmazsak insanlarımız, sağlık hizmetlerinden yararlanamaz. Hastalar tedavi edilemez ve birçok insan tedavi edilemediği için ölmek zorunda kalır. Bu da insan neslinin devamının tehlikeye girmesi demektir.

**Yukarıda gerekliliğinden bahsedilen meslek dalı aşağıdakilerden hangisidir?**

- A) Doktor
- B) Öğretmen
- C) Polis
- D) Mimar

[www.supersoru.com](http://www.supersoru.com)

Cevaplar :

1)B, 2)C, 3)D, 4)C, 5)A, 6)D, 7)D, 8)B, 9)B, 10)C, 11)D, 12)A,