

1. İnsan yaşamı için gerekli olan ve yokluğunda sıkıntı çekilen şeylere **ihtiyaç** denir. Buna göre, aşağıdakilerden hangisinin ihtiyaç olduğu söylenemez?

- A) Ekmek B) Elbise
C) Ev D) Bisiklet

2.

	İHTİYAÇ	İSTEK
1)	Kaban	Evlenme
2)	Ayakkabı	Sinemaya gitme
3)	Şemsiye	Tatile gitme
4)	Uyku	Ekmek

Yukarıdaki tabloda verilenlerden hangisi yanlış eşleştirilmiştir?

- A) 1 B) 2 C) 3 D) 4

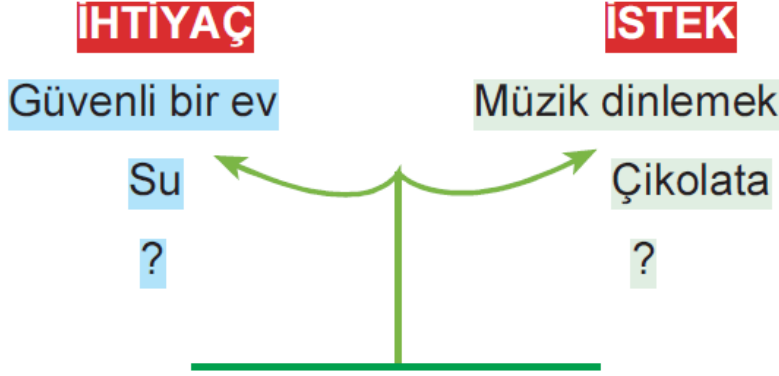
3.



Utku'nun düşüncelerini ifade eden hangi renkteki bulut Utku'nun istekleri ile ilgilidir?

- A) Mavi B) Sarı
C) Kırmızı D) Pembe

4.



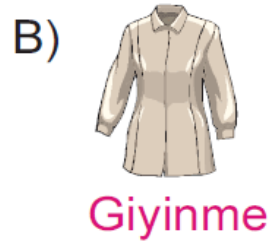
Yukarıdaki şekilde “?” ile gösterilen yerlere aşağıdakilerden hangisinin yazılması gerekir?

- A) Cep telefonu - Oyun CD'si
B) Kışlık ayakkabı - Sinemaya gitmek
C) Futbol oynamak - Yeni giysiler
D) Tatile gitmek - Cep telefonu

5. İnsanların yaşaması için gerekli olan ve yokluğunda sıkıntı çekilen şeylere **ihtiyaç** denir.

Belli bir ihtiyacı karşılayacağını düşündüğümüz eşya ve duruma karşı içimizde oluşan özlem ve arzuya **istek** denir.

Buna göre, aşağıdakilerden hangisi temel ihtiyaçlarımız arasında yer almaz?



6.



Merhaba arkadaşlar!
Ben Elif. Hayatımı
devam ettirebilmem
için temel ihtiyaçlarımın
karşılanması gerekir.

Buna göre, aşağıdakilerden hangisi Elif'in temel ihtiyaçları arasında yer alır?

- A) Okula gitmek B) Tiyatro seyretmek
C) Yüzmek D) Yemek yemek

7.

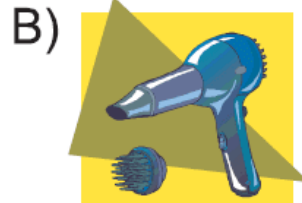
Ali Bey, özel bir şirkette muhasebeci olarak çalışmakta ve 1.500 TL maaş almaktadır. Ali Bey aldığı maaşın bir kısmını ev kirasına, mutfak giderlerine ve faturalara ayırmıştır.

Buna göre, Ali Bey'in maaşından ayırdığı para aşağıdakilerden hangisini karşılamaya yöneliktir?

Sını karşılamaya yöneliktir?

- A) Temel ihtiyaçlarını
- B) İsteklerini
- C) Çocukların eğitim masraflarını
- D) Borçlarını

8. Reyhan Hanım aşağıdakilerden hangisini alırsa temel ihtiyaçlarını karşılama adına bir alışveriş yapmış olur?



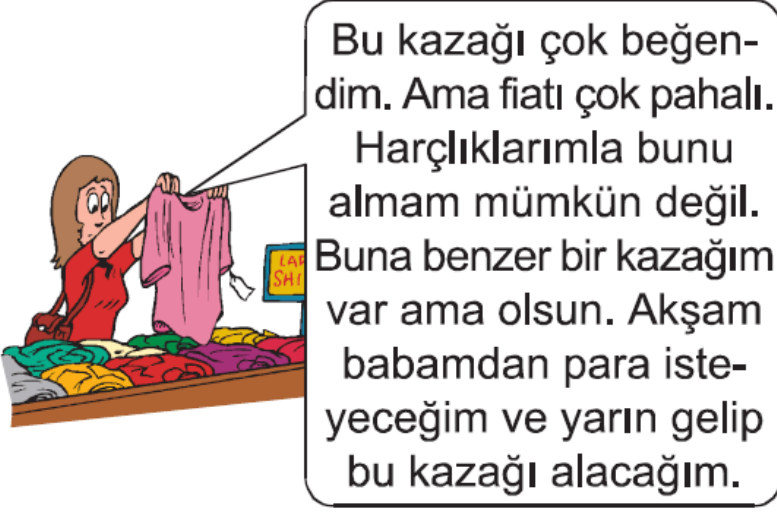
9. Faruk Bey, 700 milyon maaş almaktadır. Oturduğu ev için de 450 TL kira ödemektedir. Geri kalan 250 TL ile de diğer ihtiyaçlarını karşılamaya çalışmaktadır.

Buna göre, Faruk Bey ile ilgili olarak aşağıdakilerden hangisine ulaşılabilir?

- A) Maaşının çoğunu barınma ihtiyacına ayırmıştır.
- B) Geliri doğrultusunda harcama yapmamaktadır.

- C) Eğitim masrafları bulunmamaktadır.
D) Tasarruf yapabilmektedir.


10.

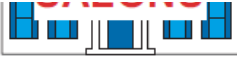


Buna göre, Ferda ile ilgili olarak aşağıdakilerden hangisine ulaşılabilir?

- A) Mevcut kaynağının isteklerini karşılamaya yetmediğine
B) Temel ihtiyaçlarını karşılama yönünde alışveriş yaptığına
C) Babasına danışmadan beğendiği kazağı aldığına
D) Elindeki parasını ihtiyaçları doğrultusunda harcadığına

11.





Gül Hanım parasını yukarıdaki yerlerden hangilerinde harcarsa temel ihtiyaçlarını karşılamış olur?

- A) Market - Kuaför
- B) Fırın - Spor Salonu
- C) Market - Fırın
- D) Kuaför - Spor Salonu

www.supersoru.com

Cevaplar :

1)D, 2)D, 3)C, 4)B, 5)D, 6)D, 7)A, 8)C, 9)A, 10)A, 11)C,