

1.



Dünya üzerinde iki yüzden fazla ülke bulunmaktadır. Bu ülkelerden biri de Türkiye'dir. Türkiye'ye komşu olan ülkeler bulunmaktadır. Bunlar;

Öğretmenin tahtaya yazdıklarını aşağıdakilerden hangisi ile tamamlarsak yanlış olur?

- A) Yunanistan B) Suriye
C) Afganistan D) Gürcistan

2.



Türkiye'nin Dünya üzerindeki konumundan yararlanarak aşağıdaki kıtalardan hangisi üzerinde yer aldığı söylenebilir?

- A) Amerika - Afrika
B) Avrupa - Asya
C) Avustralya - Avrupa
D) Afrika - Asya

3.

Yeryüzündeki büyük kara parçalarına *kıta* denir.

Buna göre, aşağıdakilerden hangisi kıtalara örnek olarak verilemez?

- A) Amerika B) Avrupa
C) Asya D) Kanada

4.

I. Japonya - Tokyo

II. Türkmenistan - Astana

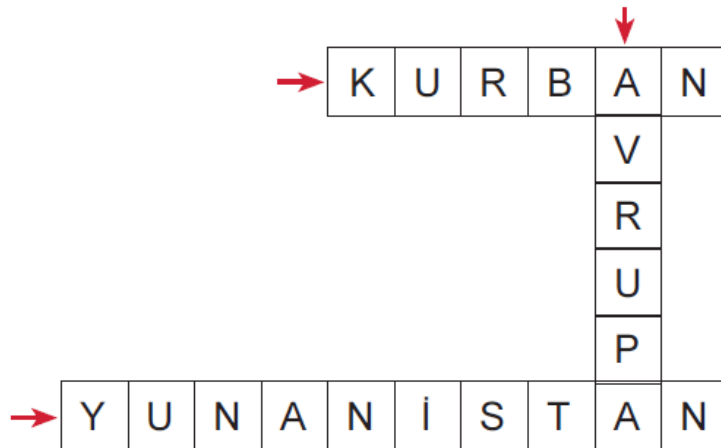
III. Tunus - Tunus

IV. Azerbaycan - Bakü

Yukarıda hangi numarayla gösterilen kutuda ülke-başkent eşleştirmesi yanlış yazılmıştır?

- A) I B) II C) III D) IV

5.



Yukarıda yer alan bulmacada aşağıdaki sorulardan hangisinin cevabı

yOKTUR?

- A) Türkiye'nin komşularından birinin adını söyleyiniz?
- B) Türkiye'nin de üzerinde toprağı bulunan kıtanın ismi nedir?
- C) Baharın gelişinin kutlandığı bayram hangisidir?
- D) Dini bayramlarımızdan birinin adını söyleyiniz?

6.



Yukarıdaki haritadan yararlanarak aşağıdaki ülkelerden hangisinin Türkiye'nin komşularından olduğu söylenemez?

- A) Bulgaristan
- B) Romanya
- C) Suriye
- D) Irak

7. Bakü - Tiflis - Ceyhan (BTC) boru hattı Avrupa'ya petrol taşımaktadır.

Buna göre, petrolün nereden nereye taşındığı aşağıdaki seçeneklerden hangisinde doğru yazılmıştır?

- A) Azerbavcan - Türkiye

- B) Türkiye - Azerbaycan
C) Türkmenistan - Türkiye
D) Özbekistan - Türkiye

8. I. Fransa
II. Belçika
III. Almanya
IV. Suriye

Yukarıdaki ülkelerden hangisinin farklı bir kıta üzerinde yer aldığı söylenebilir?




- A) I B) II C) III D) IV

9.

Dünya üzerinde irili, ufaklı birçok ülke vardır. Bunlardan bazılarının nüfusu çok az, bazılarının nüfusu ise çok fazladır.

Buna göre, aşağıdakilerden hangisi dünyada nüfusu en fazla olan ülkedir?

- A) Türkiye B) Çin
C) Rusya D) ABD

10.  Başkenti Kahire'dir.
 Asya, Avrupa ve Afrika kıtalarını birleştiren yollar üzerindedir.
 Nil Nehri en önemli yer şekillerin-

denir.

Yukarıda özellikleri verilen ülke aşağıdakilerden hangisidir?

- A) Fas
B) Tunus
C) Mısır
D) Cezayir

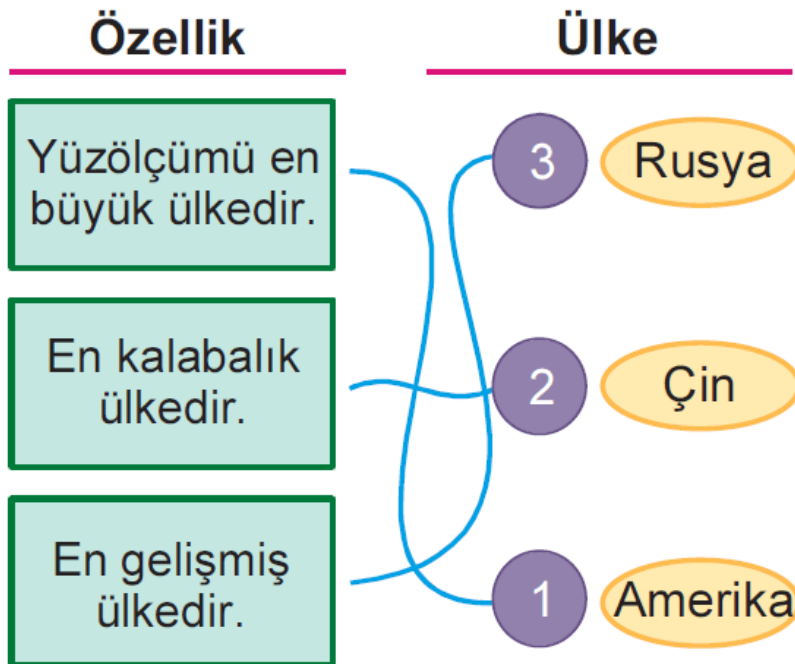
11.



Yukarıda verilen resimlerin altına aşağıdaki ülkelerden hangisini yazarsak yanlış olur?

- A) ABD
B) Rusya
C) Mısır
D) Fransa

12.



Yukarıdaki özellik ve ülke eşleştirme-

lerinden hangileri yanlıştır?

A) Yalnız 2

B) 1 ve 2

C) 1 ve 3

D) 2 ve 3

13.



Yanda fotoğrafı verilen yapı aşağıdaki ülkelerden hangisinde yer alır?

A) İngiltere

B) Fransa

C) İtalya

D) İspanya

www.supersonu.com

Cevaplar :

1)C, 2)B, 3)D, 4)B, 5)C, 6)B, 7)A, 8)D, 9)B, 10)C, 11)B, 12)C, 13)B,