

Yukarıdaki grafikte bir ilin aylara göre ortalama sıcaklıkları gösterilmiştir.

1., 2., 3., 4. ve 5. soruları grafiğe göre cevaplandırınız

1. Grafiğe göre en soğuk ay aşağıdakilerden hangisidir?

- A. Ocak                      B. Şubat  
C. Mart                      D. Aralık

2. Grafiğe göre en sıcak ay aşağıdakilerden hangisidir?

- A. Haziran                      B. Temmuz  
C. Ağustos                      D. Eylül

3. Aşağıda verilen hangi iki ayda hava sıcaklıkları birbirine eşittir?

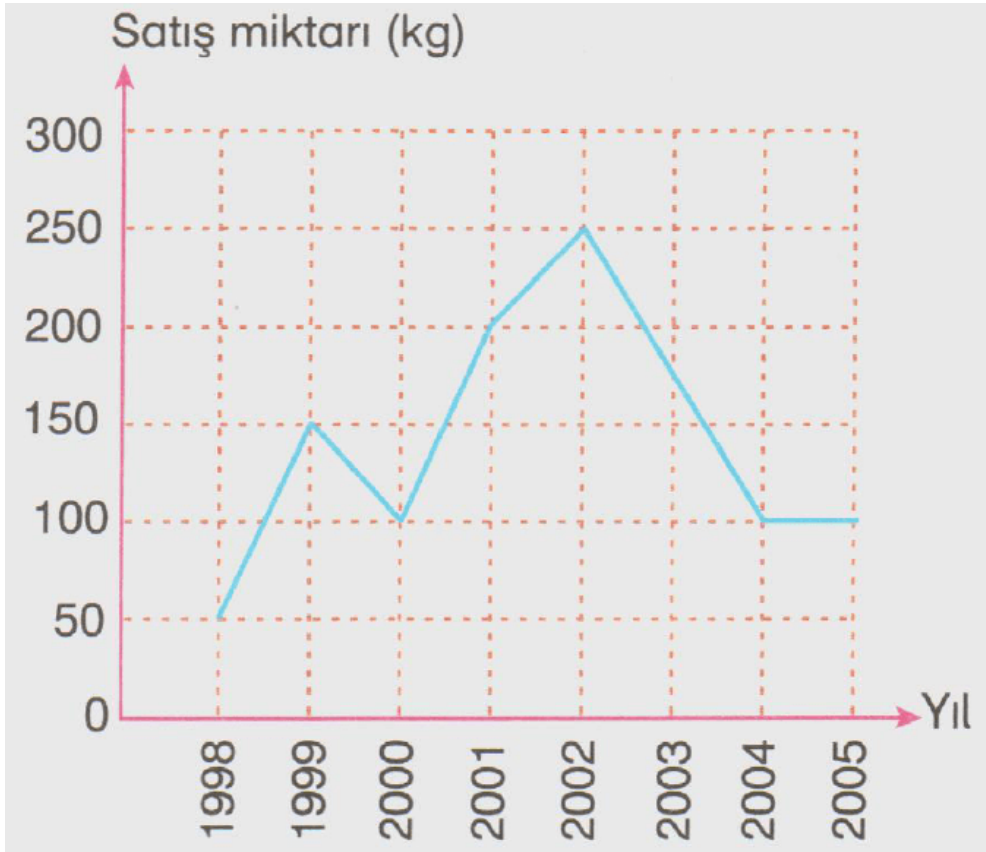
- A. Mart - Nisan
- B. Haziran - Ekim
- C. Aralık - Ocak
- D. Temmuz - Eylül

4. Ekim ayında hava sıcaklığı ortalama kaç derecedir?

- A. 27°
- B. 25°
- C. 22°
- D. 20°

5. Kasım ayında hava sıcaklığı ortalama kaç derecedir?

- A. 11°
- B. 12°
- C. 14°
- D. 15°



Yukarıdaki grafik yıllara göre Muratların sattıkları fındık miktarını göstermektedir.

6., 7., 8., 9. ve 10. soruları grafiğe göre cevaplandırınız

**6.** Muratlar 1999 yılında kaç kg fındık satmışlardır?

A. 200

B. 150

C. 100

D. 50

**7.** 200 kg fındık satışı hangi yıl gerçekleşmiştir?

A. 2005

B. 2004

C. 2001

D. 1999

**8.** Muratlar en çok hangi yıl fındık satmışlardır?

A. 2002

B. 2003

C. 2004

D. 2005

**9.** En çok fındık satılan yılla en az fındık satılan yıl arasındaki fark kaç kg dir?

A. 50

B. 100

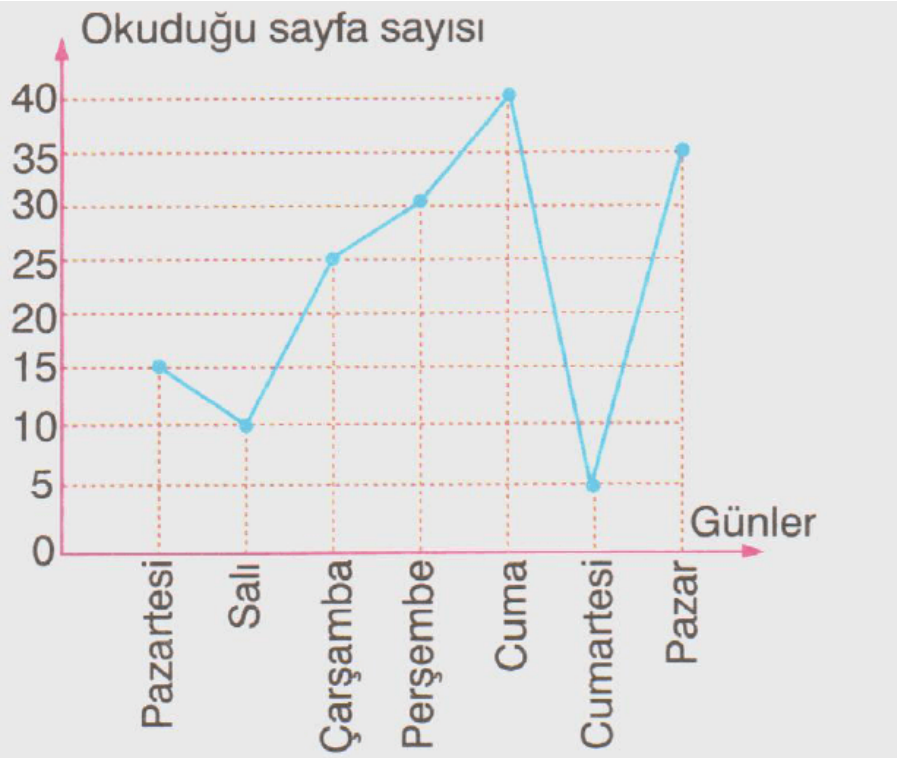
10. En az fındık satışı hangi yıl gerçekleşmiştir?

A. 2005

B. 2004

C. 2001

D. 1998



Yukarıdaki grafik Tarık'ın bir haftada okuduğu kitap sayfa sayılarını gösterilmiştir.

11., 12. ve 13. soruları grafiğe göre cevaplandırınız

12. Tarık en az kitabı hangi gün okumuştur?

A. Cumartesi

B. Pazar

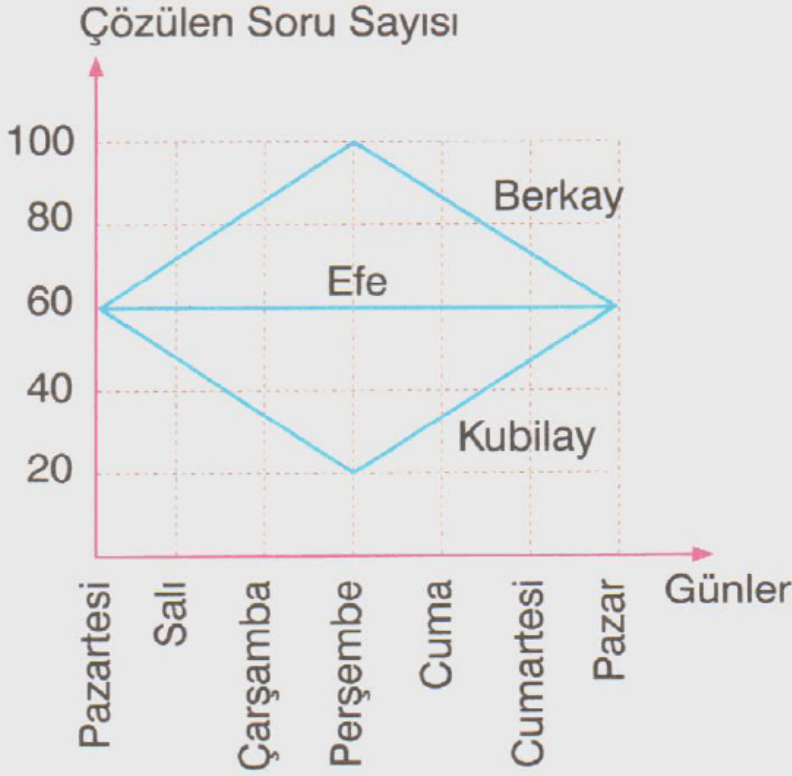
C. Salı

D. Cuma

**13. Tarık salı ve pazar günleri toplam kaç sayfa kitap okumuştur?**

- A. 35                                      B. 40  
C. 45                                      D. 50

**14.**



**Yukarıda verilen çizgi grafiğine göre, aşağıdaki ifadelerden hangisi yanlıştır?**

- A. Efe her gün eşit sayıda soru çözmüştür.  
B. Perşembe günü en az soruyu Kubilay çözmüştür.  
C. Perşembe günü en çok soruyu Berkay çözmüştür.  
D. Pazar günü çözülen toplam soru sayısı pazartesi günü çözülen toplam soru sayısından fazladır.

[www.supersoru.com](http://www.supersoru.com)

Cevaplar :

1)B, 2)C, 3)C, 4)D, 5)D, 6)B, 7)C, 8)A, 9)D, 10)D, 11)B, 12)A, 13)C, 14)D,