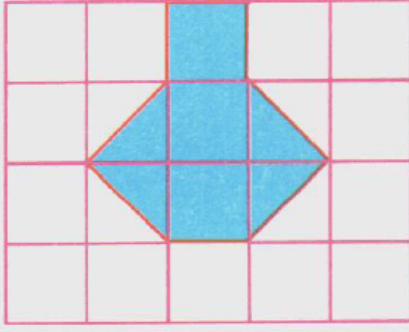


1.



Yukarıdaki şekilde verilen 1 cm^2 lik eş karelere ayrılmış zemin üzerindeki taralı bölgenin alanı kaç cm^2 dir.


A. 3

B. 4

C. 5

D. 6

2.



Yukarıdaki şekilde verilen 1 cm^2 lik eş karelere ayrılmış zemin üzerindeki harfin alanı kaç cm^2 dir.


A. 12

B. 11

C. 10

D. 9


3.



Yukarıda eş birim karelere bölünmüş zemin üzerinde verilen üçgenin yüksekliği kaç birimdir?

- A. 2 B. 3
C. 4 D. 5

4.




Yukarıdaki şekilde verilen eş karelere ayrılmış zemin üzerindeki taralı bölgenin alanı kaç birimkaredir?


- A. 40 B. 39
C. 38 D. 36

5. Aşağıda verilen dörtgenlerden hangisinin tüm kenar uzunlukları birbirine eşittir?

- A. Eşkenardörtgen B. Dikdörtgen
C. Yamuk D. Paralelkenar

6.

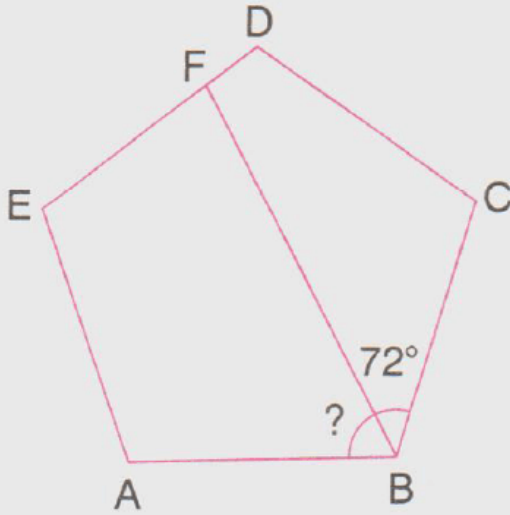




Yukarıdaki şekilde verilen m^2 lik eş karelere ayrılmış duvarın üzerindeki taraflı bölgeler kapı ve pencereleri göstermektedir. **Bu duvarın metrekaresini 6 YTL ye boyayan bir usta kaç YTL alır?**

- A. 200 B. 212
C. 216 D. 222

7.

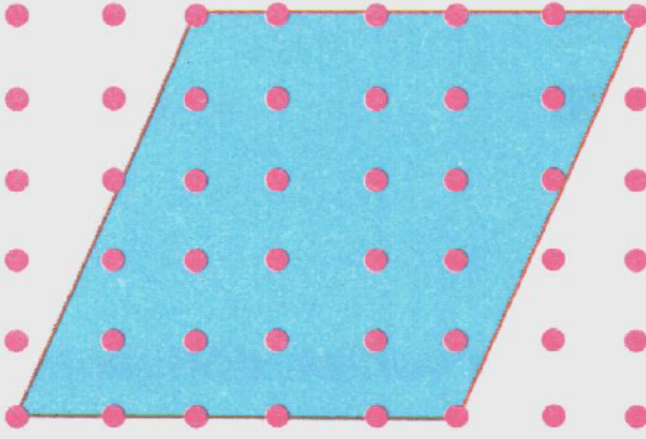


Yukarıdaki şekilde verilen ABCDE bir düzgün beşgen ve $s(FBC) = 72^\circ$ dir

Buna göre, $s(ABF)$ kaç derecedir?

- A. 32 B. 36
C. 40 D. 46

8.



Yukarıda eş uzaklıkta noktalarla işaretlenmiş zemin üzerinde verilen paralelkenarın yüksekliği kaç birimdir?

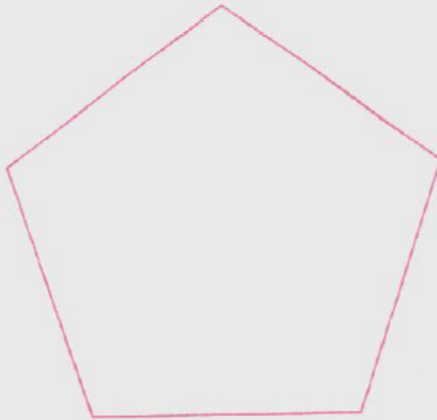
A. 6

B. 5

C. 4

D. 3

9.



Yukarıda verilen beşgenin kaç tane köşegeni vardır?

A. 3

B. 4

C. 5

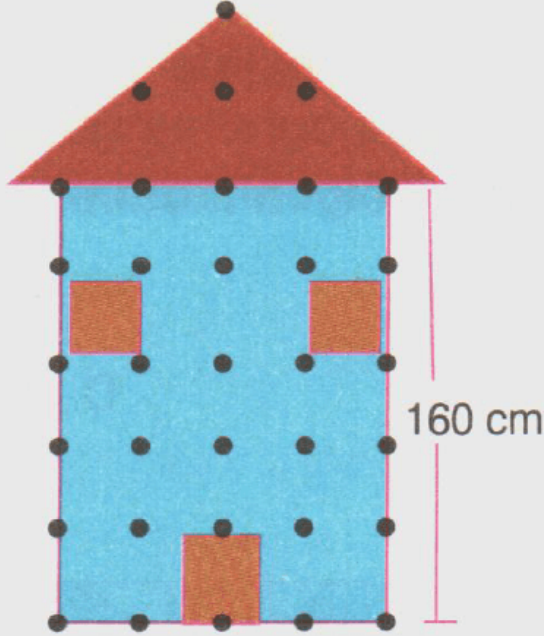
D. 6

10. Aşağıda verilen çokgenlerden hangisinin tüm acılarının ölçüleri birbiri-

ne eşit değildir?

- A. Kare B. Dikdörtgen
C. Düzgün beşgen D. Paralelkenar


11.



Yukarıda verilen bekçi kulübesinin yüksekliği kaç cm dir?

- A. 200 B. 220
C. 224 D. 230

12.



Yukarıda eş uzaklıta nokalarla işaretlenmiş zemin üzerinde verilen

yamuğun yüksekliđi kaç birimdir?

A. 6

B. 5

C. 4

D. 3

www.supersoru.com

Cevaplar :

1)C, 2)B, 3)D, 4)A, 5)A, 6)D, 7)B, 8)B, 9)C, 10)D, 11)C, 12)C,