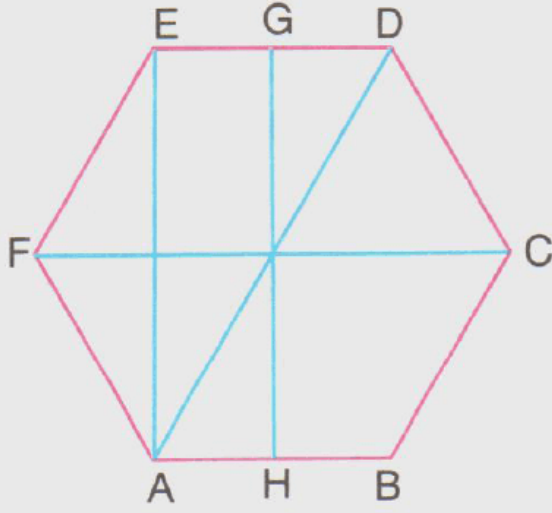


1.



Aşağıdakilerden hangisi yukarıda verilen ABCDEF düzgün altıgeninin simetri eksenini değildir?

A. [AD]

B. [EA]

C. [GH]

D. [FC]

2. Aşağıdakilerden hangisinin simetri eksenini sayısı en fazladır?

A. Eşkenar üçgen

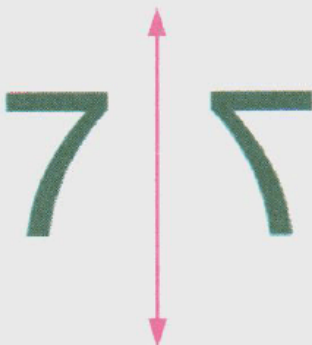
B. Dikdörtgen

C. Düzgün altıgen

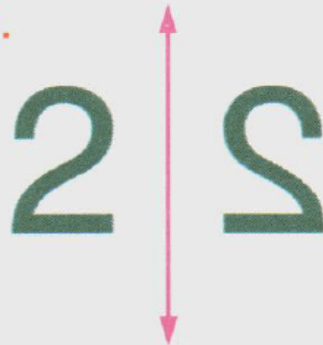
D. Kare

3. Aşağıdaki rakamlardan hangisinin yanındaki doğruya göre simetriği yanlıştır?

A.



B.



C.

3 3




D.

8 8

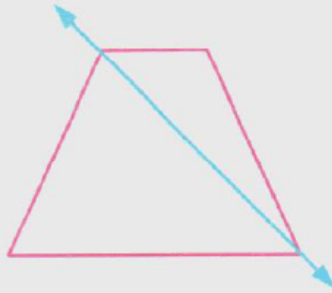


4. Aşağıda verilen geometrik şekillerin hangisinin simetri doğrusu yanlış çizilmiştir?

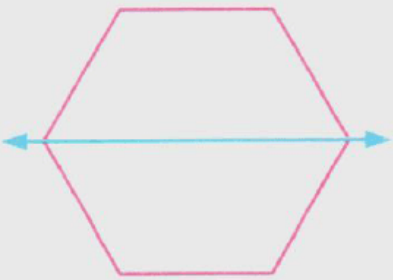
A.



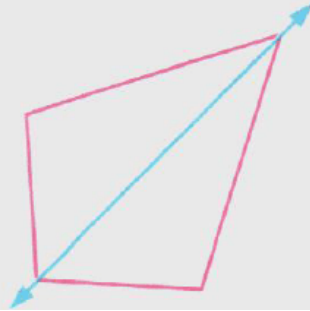
B.



C.



D.



5. Düzgün beşgenin kaç tane simetri doğrusu vardır?

A. 10

B. 8

C. 6

D. 5

6. Aşağıdaki harflerden hangisinin u-

Aşağıdaki harflerden hangisinin simetriği doğru olarak verilmiştir?

A.

A V

B.

B B


C.

S S

D.

F E

7.



Yukarıda eş uzaklıkta noktalarla işaretlenmiş zemin üzerinde verilen çemberin çapı kaç birimdir?

A. 3

B. 4


C. 5

D. 6


8. Aşağıdaki rakamlardan hangisinin

yanındaki doğruya göre simetriği
yanlıştır?

A.



B.



C.



D.



9. Aşağıdaki rakamlardan hangisinin
yanındaki doğruya göre simetriği
yanlıştır?

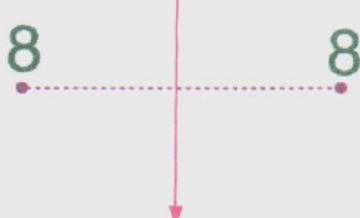
A.



B.



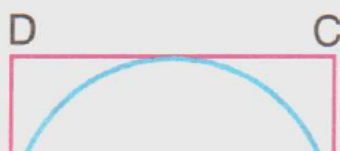
C.



D.



10.





Yukarıdaki şekilde verilen ABCD karenin çevresinin uzunluğu 48 cm dir.

Buna göre, bu karenin içerisindeki çemberin yarıçapı kaç cm dir?

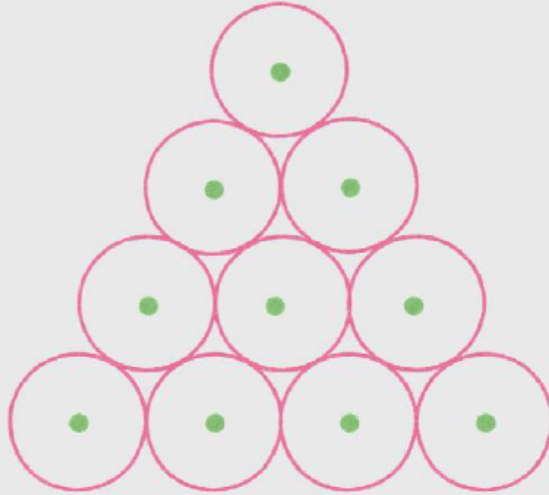
A. 12

B. 10

C. 8

D. 6

11.



Köşeleri, yukarıdaki şekilde verilen eş teğet çemberlerin merkezi olmak şartıyla aşağıdakilerden hangisi çizilemez?

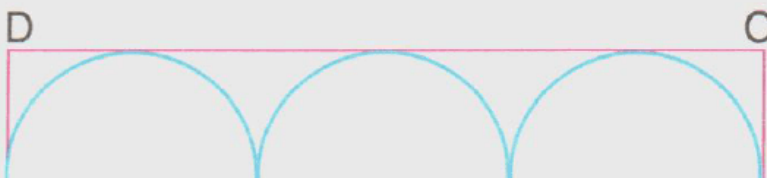
A. Eşkenar üçgen

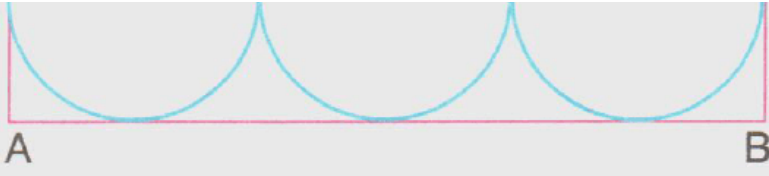
B. Yamuk

C. Eşkenar dörtgen

D. Kare

12.





Yuakarıdaki ABCD dikdörtgeni içine yarıçapı 6 cm olan eş çemberler çizilmiştir. **Buna göre, dikdörtgenin AB kenarının uzunluğu kaç santimetredir?**

A. 12

B. 24

C. 36

D. 42

www.supersonu.com

Cevaplar :

1)B, 2)C, 3)C, 4)B, 5)D, 6)B, 7)C, 8)C, 9)D, 10)D, 11)D, 12)C,