

1.



Benim adım Canan, yaz tatilinde annem ve babamla Bursa'dan yola çıkarak Balıkesir, Denizli, Antalya ve Mersin illerini gezdik.

Buna göre Canan, aşağıdaki tarihi ve doğal varlıklarımızdan hangisini görmüş **olamaz**?

A)



Pamukkale Travertenleri

B)



Manyas Kuş Cenneti

C)



Side Antik Tiyatrosu

D)



Efes Harabeleri

2. Aşağıdaki tarihi mekânlardan hangisi Ankara'da yer almaktadır?

A)



Etnoğrafya Müzesi

B)



Galata Kulesi

C)



Selimiye Camii

D)




İshak Paşa Sarayı

3. Tarih öğreniminde aşağıdaki araçlardan hangisinden **faydalanamayız**?

- A) Geleceğe ait planlardan
- B) Gelenek ve göreneklerden
- C) Eskiden kalmış kıyafetlerden

- C) Londra'daki kraliyet heykellerinden
- D) Geçmişe ait eserlerden

4. **Büyük insan heykellerinin bulunduğu yer ve ili aşağıdakilerden hangisidir?**



- A) Nemrut → Kahramanmaraş
- B) Nemrut → Bitlis
- C) Erciyes → Kayseri
- D) Nemrut → Adıyaman

5.



Geçen ay, bir turist kafilesine katılarak çoğunluğu Ürgüp, Uçhisar, Avanos, Göreme ve Nevşehir civarında bulunan peri bacalarını görmeye gitim.

Mehmet Bey

Mehmet Bey'in sözünü ettiği doğal güzellikler hangi bölgemizde yer almaktadır?

- A) Akdeniz Bölgesi
- B) İç Anadolu Bölgesi
- C) Marmara Bölgesi
- D) Doğu Anadolu Bölgesi

6. Atatürk, 10 Kasım 1938'de Dolmabahçe Sarayı'nda öldükten sonra naaşı 20 Kasım'da geçici olarak



getirilmiş, ölümünden 15 yıl sonra da Anıtkabir'e defnedilmiştir.

Yukarıdaki boşluğu, hangisiyle tamamlamalıyız?

- A) Kurtuluş Müzesi'ne
- B) Topkapı Sarayı'na
- C) Etnoğrafya Müzesi'ne
- D) Çankaya Köşkü'ne

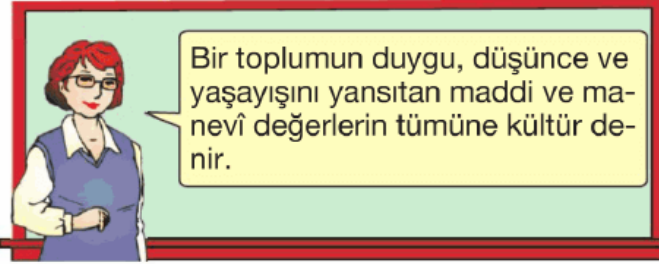
7.



Kurtuluş Savaşı hazırlık sürecinde tarihi kararların alındığı başlıca illerimiz, aşağıdakilerden hangisinde doğru olarak sıralanmıştır?

- A) Amasya - Erzurum - Sivas - Ankara
- B) Erzurum - Sivas - İstanbul - Ankara
- C) Erzurum - Sivas - Eskişehir - Bursa
- D) Sivas , Erzurum - Ankara - İstanbul

8.



Bir toplumun duygu, düşünce ve yaşayışını yansıtan maddî ve manevî değerlerin tümüne kültür denir.

Aşağıdakilerden hangisi kültürel değerlerden biri **olamaz?**

- A) Gelenek ve görenekler
- B) Doğal varlıklar
- C) Halk oyunları
- D) Millî ve dinî bayramlar

9.

Eski zamanlarda motorlu araçlar olmadığı için ulaşım ve yük taşımada develer veya atlar kullanılarak yapılırdı ve ulaşım günlerce sürerdi.



Bu ulaşımında, konaklama yerlerine ne ad verilirdi?

- A) Kale
- B) Sur

C) Kervansaray

D) Dergah

10.



Pamukkale Travertenleri

1



Alanya Damlatas
Mağarası

2



Manyas Kuş Cenneti

3



Anamur Kalesi

4

Yukarıdaki numaralı varlıklardan hangisi doğal varlıklarımız arasında gösterilemez?

- A) 1 B) 2 C) 3 D) 4

11.



Ben, bir turist rehberiyim. Ülkemi-
ze gelen Alman turist kafilesine
Türkiye'nin kültürel varlıklarını
tanıtmam gerekiyor.

**Buna göre, turizm rehberinin aşağıdakilerden hangisini turistlere tanıtması dü-
şünülemez?**





- A) Topkapı Sarayı'nı
B) Pamukkale Travertenlerini
C) Anadolu Medeniyetleri Müzesi'ni
D) Ankara Kalesi'ni

12. Ülkemizin en önemli
kış turizm mekanı
..... Bu merkez
.....ilimizdedir.



**Yukarıdaki boşluk-
ları, aşağıdakilerden hangisiyle tamamlamalıyız?**

- A) Uludağ'dır – Bursa
B) Palandöken'dir – Erzurum
C) Kartalkaya'dır – Bolu
D) Çankaya'dır – Ankara

13. 1.  Sümela Manastırı
↓
Trabzon
2.  Efes Antik Kenti
↓
İzmir
3.  Nemrut Dağı
↓
Malatya
4.  Aspendos
↓
Antalya

Yukarıdaki numaralı eşleştirmelerden hangisi yanlıştır?

- A) 1 B) 2 C) 3 D) 4

14. I. Dünya Savaşı'nda Türk ordusu bütün dünyaya olduğunu canıyla, kanıyla göstermiştir. Bu savaşın büyük bir bölümü yarımadasında olmuştur.

Yukarıdaki boşlukları, aşağıdakilerden hangisiyle tamamlamamız doğru olur?

- A) Türk askerinin yenilmez – Trakya
B) Osmanlı ordusunun güçlü – Gelibolu
C) Marmara denizinin – Mudanya
D) Çanakkale'nin geçilmez – Gelibolu

15. Anadolu'da kurulan ilk uygarlıklardan olan Hititliler bugünkü yakınlarında yaşıyorlardı.



Yukarıdaki boşlu-

.....

gu, aşağıdakilerden hangisi tamamlar?

- A) Yozgat B) Çorum
C) Amasya D) Kırıkkale

16.



Ben, senden öyle bir eser (yapı) istiyorum ki içinde Müslümanların ibadet edeceği bir cami, çeşitli ilimlerin öğrenileceği medrese, hastaların şifa bulacağı darüşşifa (hastane), fakirlere yemek verilecek imarethane (aşevi) olsun.

Osmanlı padişahı I. Ahmet, Mimar Mehmet Ağa'dan yapılmasını istediği yapı aşağıdakilerden hangisidir?

- A) Vakıf B) Bedestan
C) Külliye D) Hisar

17.



Öğretmenler! Sizin başarınız cumhuriyetin başarısı olacaktır.

Atatürk bu sözü ile aşağıdakilerden hangisini vurgulamıştır?

- A) Ülkemizin geleceğinde öğretmenlerin önemli bir rolü olduğunu
B) Türkiye'nin cumhuriyet yönetimine geçmesi gerektiğini
C) Okullarımızdaki öğretmen sayısının yetersiz olduğunu
D) Öğretmen yetiştiren kurumların artırılması gerektiğini

18. Aşağıda bazı şehirlerin bize hatırlattıkları ile ilgili bilgiler verilmiştir:



Lületaş
işlemeciliği




Eskişehir



Pastırma
ve sucuğun
memleketi



Kayseri



Kıldan
yapılmış



Siirt



battaniye



Tarihi Kırkpınar
yađlı greřleri →?.....

Yukarıdaki eřleřtirme tablosunda (?) ile gsterilen yere ařađıdaki řehirlerimizden hangisi getirilmelidir?

- A) İzmir B) Antalya
C) Edirne D) Konya

www.supersoru.com

Cevaplar :

1)D, 2)A, 3)A, 4)D, 5)B, 6)C, 7)A, 8)B, 9)C, 10)D, 11)B, 12)A, 13)C, 14)D, 15)B, 16)C, 17)A, 18)C,