


1. Toplamları 578 olan iki doğal sayıdan biri 278 olduğuna göre diğeri kaçtır?

- A) 300 B) 325
C) 350 D) 400

2. Ahmet'in parası İlker'in parasının 2 katından 15 TL fazladır. İlker'in 75 TL parası olduğuna göre, Ahmet'in kaç TL parası vardır?

- A) 180 B) 165
C) 150 D) 140

3.




Halil'in 20 TL, Mert'in 30 TL ve Onur'un 40 TL parası vardır. Paralarını birleştirerek eşit olarak paylaşıyorlar.

Buna göre aşağıdakilerden hangisi yanlıştır?

- A) Mert'in parası değişmemiştir.
B) Onur'un parası 10 TL azalmıştır.
C) Halil'in parası 10 TL artmıştır.
D) Mert'in parası 10 TL artmıştır.

4.



Bir bilet sırasında Hakan baştan 8., sondan 10. sırada olduğuna göre. bilet sırasında

kaç kiři vardır?


- A) 16 B) 17 C) 18 D) 19

5. Cem, Can ve Cemil'in kumbaralarında sırasıyla 5, 12 ve 8 TL paraları vardır.

Herbiri kumbarasına her hafta 3 TL para koyduğuna göre, 8. haftanın sonunda üçünün kumbaralarında biriken paraların toplamı kaç TL'dir?

- A) 97 B) 77 C) 64 D) 49

6.



Bir kırtasiyeye giden Alper ve Yiğit; tanesi 12 TL'den kitap, tanesi 3 TL'den kalem ve tanesi 1 TL'den silgi almak istiyorlar. Alper 2 kitap, 3 kalem, 1 silgi alıyor. Yiğit ise 1 kitap, 2 kalem, 3 silgi alıyor.

Buna göre, Alper ve Yiğit kırtasiyeye toplam kaç TL ödemişlerdir?

- A) 25 B) 35 C) 45 D) 55



Hatice Hanım



12 yumak

Hatice Hanım, ailesine katkıda bulunmak üzere dantel örüp satmaktadır. Tuhafiye dükkanından 100'er gramlık 12 yumak dantel ipi alıp masa örtüsü örmüştür ve bunları 720 TL'ye satmıştır. Bir masa örtüsü için 200 g ip kullanmıştır.

(7 ve 8. soruları yukarıda verilenlere göre cevaplayınız.)

7. Hatice Hanım, aldığı iplerle kaç adet masa örtüsü örmüştür?

- A) 12 B) 8 C) 6 D) 5

8. Bir masa örtüsünü kaç TL'ye satmıştır?

- A) 100 B) 120 C) 125 D) 130

9. Beden eğitimi dersinde Kemal Öğretmen, Taha'ya 5 adım ileri, 2 adım geri hareket ederek yürümesini söylüyor.



Taha, 84 adım attığında başlangıç yerine göre, toplam kaç adım ilerlemiş olur?

- A) 27 B) 30 C) 33 D) 36

10.





Cem, lunaparkta atış yapıyor. Vurduğu her balon için 8 puan alıyor. Boş atışlar için ise 3 puan kaybediyor.

Cem, 10 atış sonunda 6 tane balon vurduğuna göre kaç puan almıştır?

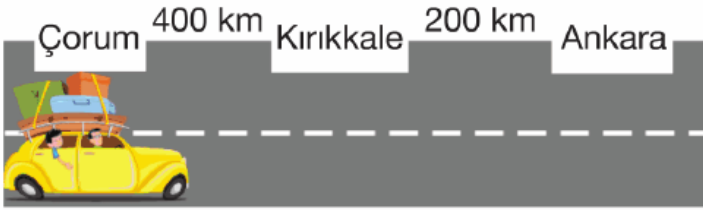
- A) 24 B) 36 C) 48 D) 60

11. Halit'in yaşı Cihat'ın yaşının 3 eksiğinin 2 katı, Burak'ın yaşı ise Halit'in yaşının 3 katının 5 eksiğidir.

Cihat, 10 yaşında olduğuna göre Burak kaç yaşındadır?

- A) 37 B) 42 C) 47 D) 52

12.



Çorum'dan hareket eden bir araç saatte 80 km hızla Kırıkkale'ye, Kırıkkale'den saatte 100 km hızla Ankara'ya gidiyor.

Buna göre, bu araç Çorum'dan Ankara'ya toplamda kaç saatte varır?

- A) 5 B) 6 C) 7 D) 8

13. Kerim, kırtasiyeden herbiri 3 TL olan kalemlerden 9 tane alırsa 4 TL parası artıyor.

Kerim, bu kalemlerden 15 tane almak isterse kaç TL'ye daha ihtiyacı olur?

- A) 13 B) 14 C) 15 D) 16

14. Fatih okula gitmek için bir taksiye binecektir. Taksinin açılış ücreti 3 TL'dir. Her 200 m'de 1 TL yazmaktadır.

Buna göre Fatih. arabavla 5 km yolculuk

yaparsa taksiciye kaç TL öder?

- A) 25 B) 26 C) 27 D) 28

15. Bir okul servisi, içerisinde 10 kız ve 10 erkek öğrenciyle hareket etmeye başlıyor. 1. durakta 2 kız ve 3 erkek öğrenci iniyor, 4 kız ve 2 erkek öğrenci biniyor. 2. durakta 3 kız ve 2 erkek öğrenci iniyor, 3 erkek ve 2 kız öğrenci biniyor. **Buna göre servis 2. duraktan harekete başladığında serviste kaç kız öğrenci vardır?**

- A) 13 B) 12 C) 11 D) 10

16. Yetişkin giriş ücreti öğrenci giriş ücretinin 2 katı olan sinemaya giden 4 kişilik Mert ailesi, sinemaya giriş için toplam 24 TL ödediğine göre, sinemanın yetişkin ücreti kaç TL'dir?



- A) 4 B) 5 C) 6 D) 8

17. Bir kuru yemişçi 240 kg leblebi, leblebiden 120 kg fazla fındık, fındıktan 200 kg az fıstık satmıştır.

Buna göre, bu kuru yemişçi toplam kaç kg kuru yemiş satmıştır?

- A) 560 B) 660
C) 760 D) 860

18.



Okulumuzda 13 sınıf vardır. 7'sinin sınıf mev-

cutuları 25'şer kişidir. Kalanları ise 28'er kişidir.

Buna göre, okulumuzda kaç öğrenci vardır?

- A) 343 B) 345 C) 348 D) 37

19.



Gaye, 55 TL'ye iki tane kazak almıştır. Kazaklardan biri diğerinden 15 TL daha pahalıdır.

Buna göre, daha ucuz olan kazak kaç TL eder?

- A) 20 B) 25 C) 30 D) 35

www.supersoru.com

Cevaplar :

1)A, 2)B, 3)D, 4)B, 5)A, 6)D, 7)C, 8)B, 9)D, 10)B, 11)A, 12)D, 13)B, 14)D, 15)C, 16)D, 17)C, 18)A, 19)A,