

1.

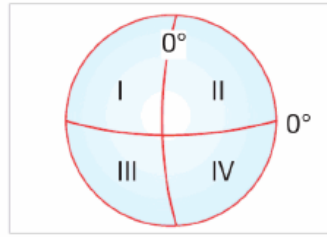


Ülkelerin ya da illerin sınırlarını gösteren haritalar aşağıdakilerden hangisidir?

- A) Fizikî haritalar
- B) Beşerî haritalar
- C) Siyasî haritalar
- D) Özel haritalar

2.

Türkiye $36^{\circ} - 42^{\circ}$ kuzey paralelleri, $26^{\circ} - 45^{\circ}$ doğu meridyenleri arasında yer alır.







Buna göre, Türkiye yandaki şekil üzerinde numaralandırılmış alanlardan hangisi üzerinde yer almaktadır?

- A) I
- B) II
- C) III
- D) IV

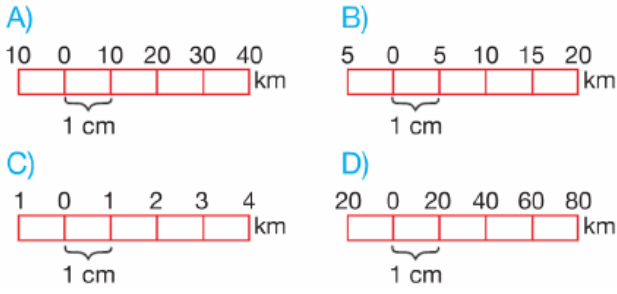
3.



Öğretmen Hakan Bey'in bu sorusuna, hangi öğrencinin verdiği bilgi yanlıştır?

- A)  Uzunluk hesaplama
- B)  Yerel saat hesaplama
- C)  Yön bulma
- D)  Nüfus yoğunluğu bulma

4. Aşağıdaki çizgi ölçeklerden hangisiyle çizilen Türkiye haritasındaki ayrıntılar daha fazladır?



- 5.



Yukarıdaki okçu bir çizimin harita olabilmesi için gereken şartlardan yanlış olanı vurmak istediğinde hangi hedefe atış yapmalıdır?

- A) 1 B) 2 C) 3 D) 4

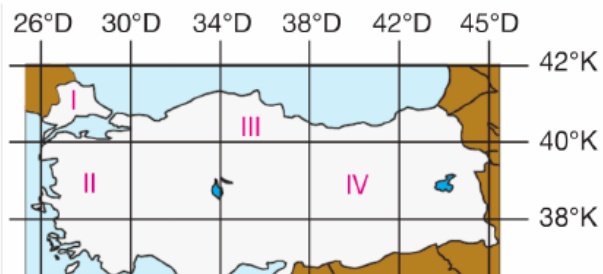
- 6.

- I. Başlangıç paraleli Ekvator'dur.
II. Uzunlukları birbirine eşittir.
III. Meridyenleri dik keserler.
IV. Ekvator'dan kutuplara gidildikçe boyları kısalmır.

Yukarıda verilenlerden hangisi paralellerin özelliklerinden biri değildir?

- A) I B) II C) III D) IV

7. Aşağıdaki haritada, Türkiye'den geçen bazı enlem ve boylam dereceleri verilmiştir.



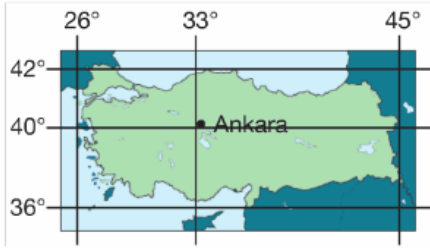


Yukarıdaki haritada A merkezi, 39° kuzey paraleli ile 41° doğu meridyenin kesiştiği yerde bulunmaktadır.

Buna göre, A merkezi harita üzerindeki kaç numaralı bölgede yer almaktadır?

- A) I B) II C) III D) IV

8. Aşağıdaki Türkiye haritasında Türkiye'nin ve Ankara'nın coğrafi koordinatları verilmiştir.



Buna göre, Ankara'nın coğrafi koordinatları aşağıdakilerden hangisidir?

- | Paralel | Meridyen |
|--------------|----------|
| A) 40° Kuzey | 33° Doğu |
| B) 33° Kuzey | 26° Doğu |
| C) 36° Güney | 45° Doğu |
| D) 33° Güney | 45° Doğu |

9. Aşağıdakilerden hangisinde Eski Dünya kıt'aları bir arada verilmiştir?

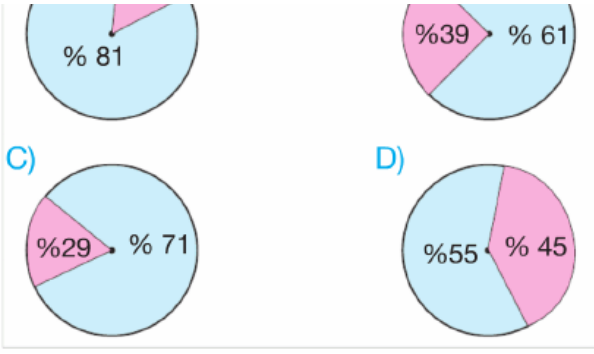
- A) Avrupa – Amerika – Afrika
 B) Avrupa – Okyanusya – Antartika
 C) Asya – Avrupa – Amerika
 D) Avrupa – Asya – Afrika

10. Aşağıdakilerden hangisi, Türkiye'nin özel konumu ile ilgili **değildir**?

- A) Dört mevsimin belirgin şekilde yaşanması
 B) Üç tarafı denizlerle çevrili yarımada oluşu
 C) Değişik iklim tiplerine sahip olması
 D) Zengin yer altı kaynaklarına sahip olması

11. Aşağıdakilerden hangisi, Güney Yarımküre'deki karaların ve denizlerin dağılışı oranını göstermektedir?



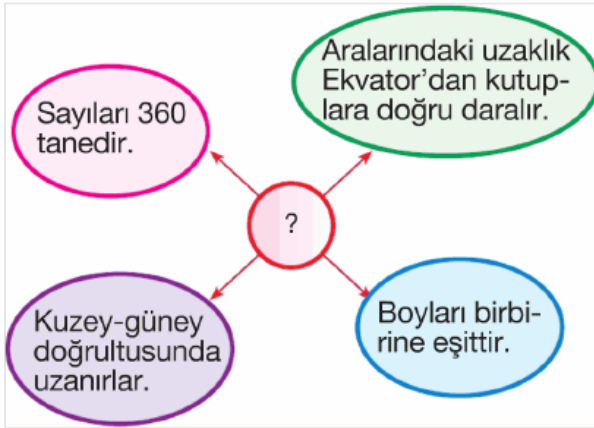


12. Yeryüzündeki bir noktanın Ekvator'a olan uzaklığının açı cinsinden değerine enlem denir.

Aşağıdakilerden hangisi üzerinde enlemin etkisi yoktur?

- A) Akdeniz Bölgesi'nin Ege Bölgesi'nden birkaç derece sıcak olması
 B) Türkiye'nin batısından doğusuna gidildikçe ortalama yükseltinin artması
 C) Akdeniz'in tuzluluk oranının Karadeniz'den fazla olması
 D) Antalya'nın Ankara'dan daha sıcak olması

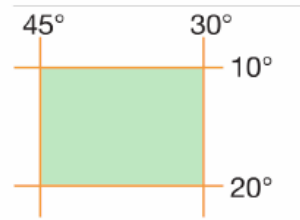
13.



Yukarıdaki kavram haritasında (?) ile gösterilen yere aşağıdakilerden hangisi getirilmelidir?

- A) Ölçek
 B) Paralel
 C) Meridyen
 D) Kutup

14. Yandaki şekilde taralı alan ile ilgili olarak verilen aşağıdaki bilgilerden hangisi yanlıştır?



- A) Güney Yarımküre'dedir.

- B) En kuzeyi ile en gneyi arasında 1110 km'lik uzaklık vardır.
C) Bařlangıç Meridyeni'nin doęusundadır.
D) Trkiye'nin gneyinde yer alır.

15.



- I. Avrupa
II. Asya
III. Afrika

Yukarıdaki kıt'aların yzlmne gre kkten byge doęru sıralanışı ařaęıdakilerden hangisinde doęru olarak verilmiřtir?

- A) I, II, III
B) III, II, I
C) II, III, I
D) I, III, II

www.supersoru.com

Cevaplar :

1)C, 2)B, 3)D, 4)C, 5)D, 6)B, 7)D, 8)A, 9)D, 10)A, 11)A, 12)B, 13)C, 14)C, 15)C,