

1.



Filiz

Tarımsal faaliyetlerin başlaması



Suat

İlk köylerin kurulması



Meltem

Madenden eşyalar yapılması



Erol

Yerleşik yaşam düzeninin benimsenmesi

Yukarıdaki öğrencilerden hangisinin verdiği bilgi Cilalı Taş Devri ile ilgili değildir?

- A) Suat
- B) Filiz
- C) Meltem
- D) Erol

2.



Dünyanın en eski yerleşim birimleri arasında gösterilen Konya Çatalhöyük'te yapılan kazılarda kilden yapılmış, ateşle pişirilmiş çanak ve çömleklere, yabani sığır ve geyik başlarına, buğday ve arpa tanelerine rastlanılmıştır.

Öğretmen Vural Bey'in verdiği bilgilere bakarak aşağıdaki yargılardan hangisine ulaşamaz?

- A) Ticari faaliyetlerin geliştiğine
- B) Üretim faaliyetlerinin yapıldığına
- C) Seramik sanatının geliştiğine
- D) Avcılık ve tarımla uğraşıldığına

3.

Tarih Öncesi Devirlerin özellikleri arasında aşağıdakilerden hangisi yer almaz?



- A) Tarih Öncesi Devirler bütün toplumlarda aynı anda yaşanmıştır.
- B) İnsanlar avcılık ve toplayıcılık yaparak geçimlerini sağlamışlardır.
- C) Mağara duvarlarına çizilen resimlerle sa-

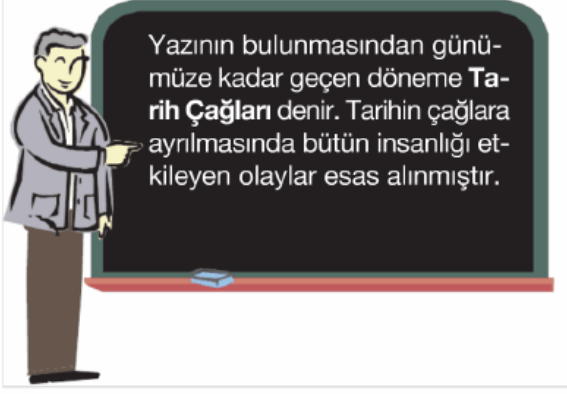
natsal faaliyetler başlamıştır.

- D) İnsanların kullandıkları araç ve gereçlere göre adlandırılmıştır.

4. Tarihi olayları öğrenmede ve araştırmada kolaylık sağlamak amacı ile aşağıdakilerden hangisine başvurulmuştur?

- A) Tarihin, bugünkü bakış açısıyla değerlendirilmesine
B) Tarihi olayların geçtiği yerlerin belirtilmesine
C) Tarihin çağlara ayrılarak incelenmesine
D) Tarihte deney ve gözlem metoduna yer verilmesine

5.



Aşağıdakilerden hangisi İlk Çağ'ın sonu Orta Çağ'ın başlangıcı olarak kabul edilmektedir?

- A) Yazının bulunması
B) Kavimler göçü
C) İstanbul'un fethi
D) Fransız ihtilali

6.

İlk insanlar Yontma Taş Devri'nin sonlarına doğru ateşi bulmuşlardır.

Aşağıdakilerden hangisi, insanların ateşten yararlanmalarının bir sonucu olarak gösterilebilir?

- A) Göçebe yaşam tarzını benimsemeleri
B) Kemiklerden kesici aletler yapmaları
C) Tarım ürünlerinin yetiştirilmesi
D) Madenleri işlemeleri

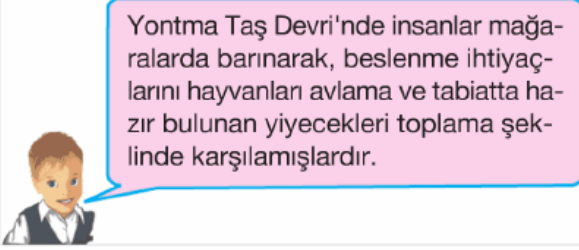
7. Tarih öncesi devirlerde sosyal yaşamı düzenleyen kurallar getirilmiştir.

Aşağıdakilerden hangisi bu kurallardan biri değildir?

Bu durum, aşağıdakilerden hangisinin sonucudur?

- A) Madenlerden eşyalar yapılmasının
- B) Yazının kullanılmaya başlanmasının
- C) Toplumsal yaşamın gelişmesinin
- D) Sanatsal faaliyetlerin başlamasının

8.



Bu durum, aşağıdakilerden hangisinin göstergesidir?




- A) Tarımın başlıca geçim kaynağı olduğunun
- B) Toplumlar arasında ticari ilişkilerin geliştiğinin
- C) Üretimde iş bölümünün ortaya çıktığının
- D) İnsanların tüketici bir yaşam biçimine sahip olduklarının

9. Cilalı Taş Devri'nde insanlar çeşitli tahıllar ekererek tarımsal üretime başladılar. Tarım faaliyetleri yeni araç ve gereç yapımını gerekli hale getirmiştir.

Aşağıdakilerden hangisi, bu dönemde tarımsal üretim amacına yönelik olarak kullanılan araç ve gereçlerden biri değildir?

- A) Tahıl öğütme taşları
- B) Sabanlar
- C) Demir mızraklar
- D) Orak parçaları

10. **Aşağıdaki öğrencilerden hangisinin belirttiği olayın günümüze daha yakın bir zamanı gösterdiği söylenebilir?**

- A)  Perslerin Anadolu'daki egemenliği M.Ö 333'te sona ermiştir
- B)  Kadeş Antlaşması M.Ö 1280 yılında yapıldı.
- C)  Lidyalılar M.Ö 687 yılında bağımsız bir devlet kurdular.

D)



Hititler M.Ö. 2000 yıllarında Anadolu'ya gelmişlerdir.

11. I. Bakırdan yapılmış kaplar
II. Taş ve kemikten yapılmış silahlar
III. Topraktan yapılmış çanak çömlekler
IV. Demirden yapılmış orak ve sabanlar

Tarih öncesi devirlerin sırasıyla yaşandığı bir bölgede toprağın en alt katında yukarıda verilen eşyalardan hangisine rastlanır?

- A) I B) II C) III D) IV

12. İnsanlık tarihinde önemli olayların başlangıcı olarak kabul edilen zaman kesitine verilen ad aşağıdakilerden hangisidir?

- A) Milat B) Yüzyıl
C) Çağ D) Takvim

13.



Cıvalı Taş Devri'nde tarım faaliyetlerinin başlamasıyla insanlar üretici bir toplum yapısına sahip oldular. Zamanla üretilen malların çeşitliliği artmış, insanlar kendi ürettiklerini, başkalarının ürettikleriyle ile değiştirerek ihtiyaçlarını karşılamışlardır.

Öğretmen Turhan Bey'in anlattığı bu durum, aşağıdakilerden hangisine ortam hazırlamıştır?

- A) Köylerin kurulmasına
B) Göçebe hayatın başlamasına
C) Tarihi Çağların başlamasına
D) Ticaretin gelişmesine

14. Tarih Öncesi Devirlerde şehirler kurulmaya başlandı, şehirler arasında ekonomik ilişkiler zamanla rekabete neden oldu. Daha üstün ve güçlü silaha sahip olan şehirler diğerlerini egemenlikleri altına aldılar. Böylece yönetim tek elde toplandı.

Önce toplanan.

Yönetimin tek elde toplandığı bu devletlere ne ad verilmiştir?

- A) Şehir devleti
- B) Merkezi krallık
- C) İmparatorluk
- D) Demokratik devlet

15. Aynı devirde Asya'da yaşayan bir toplumun Demir Devri'ne geçtiği halde Avrupa'da yaşayan toplumun Cilalı Taş Devri'ni yaşaması aşağıdakilerden hangisinin göstergesidir?

- A) Asya'da bol miktarda demir madeni bulunduğu
- B) Bütün toplumların tarih öncesi devirlere aynı anda geçtiğinin
- C) Avrupa'da göçebe yaşam tarzının devam ettiğinin
- D) Tarih öncesi devirlerin her bölgede aynı zamanda yaşanmadığının

www.supersoru.com

Cevaplar :

1)C, 2)A, 3)A, 4)C, 5)B, 6)D, 7)C, 8)D, 9)C, 10)A, 11)B, 12)C, 13)D, 14)B, 15)D,