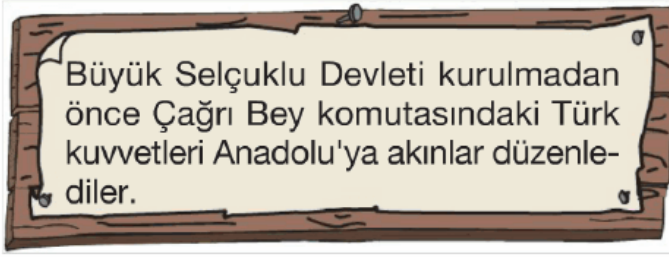


1.



**Büyük Selçuklu Devleti'nin kurulmasına kadar Anadolu'ya düzenlenen bu seferlerin amaçları arasında aşağıdakilerden hangisi gösterilemez?**

- A) Bizans'ın direnişini kırmak
- B) Keşif hareketinde bulunmak
- C) İstanbul'u Bizans'tan almak
- D) Bizans Devleti'ni yıpratmak

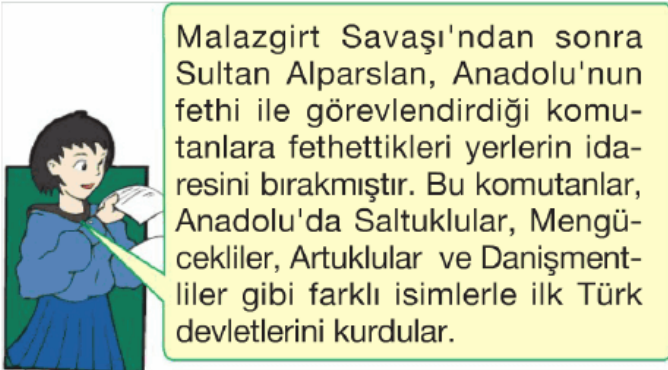
2. **Anadolu'da kurulan ilk Türk beylikleri;**

- Fethettikleri yerlere Türkçe isimler verdiler.
- Anadolu'da birçok cami, medrese, kervansaray ve darüşşifalar yaptılar.
- Kuruldukları yerleri, Bizans ve Haçlı saldırılarına karşı korudular.

**Bu bilgilere göre, ilk Türk beylikleriyle ilgili aşağıdaki yargılardan hangisine ulaşamaz?**

- A) Anadolu'da, Türk kültürünü yerleştirmeye çalıştıklarına
- B) Anadolu'da, Türk siyasi birliğini sağladıklarına
- C) Anadolu'yu, dış saldırılara karşı korumak istediklerine
- D) Anadolu'yu, bayındır hale getirdiklerine

3.



**Bu durum, Selçuklularda aşağıdakilerden hangisini güçleştirmiştir?**

- A) Siyasi birliğin sağlanmasını
- B) Askeri teşkilatın güçlendirilmesini
- C) Ekonomik kalkınmanın hızlanmasını
- D) Anadolu'da ticaretin canlanmasını

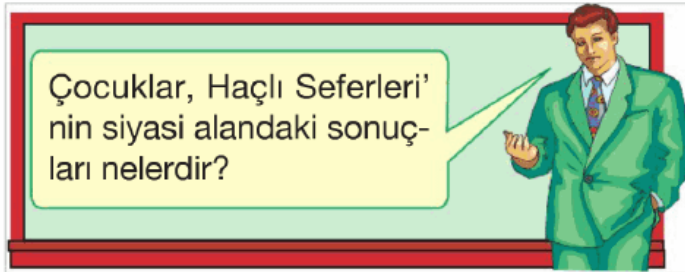
4. Büyük Selçuklu Devleti'nin yıkılmasında; Melikşah'ın ölümünden sonra çocukları arasında taht kavgalarının başlaması, devletin kuruluşunda önemli rol oynayan Oğuzların isyan etmeleri, atabeylerin buldukları yerlerde bağımsızlıklarını ilan ederek devlet kurmaları etkili olmuştur.





**Bu bilgilere dayanarak Büyük Selçuklu Devleti'nin yıkılış nedenleri arasında, aşağıdakilerden hangisi gösterilemez?**

- A) Merkezi otoritenin bozulması
- B) Ülkenin hükümdar ailesinin ortak malı olması
- C) Başka ülkelerden gelen dış baskıların etkisi
- D) Ülkede iç karışıklıkların yaşanması

5.



**Öğretmenin bu sorusuna, aşağıdaki öğrencilerden hangisi yanlış cevap vermiştir?**

- A)  Doğu - Batı arasındaki ticaret gelişti.
- B)  Türklerin, Batı yönündeki ilerleyişi bir süre durdu.

C) Merkezi krallıklar güç kazandı.

D) İstanbul'un ve Balkanların fethi gecikti.

6.



**Malazgirt Savaşı'nın sonuçları ile ilgili verilen bilgilerden hangisi yanlıştır?**

A) I      B) II      C) III      D) IV

7.



Aksaray Suluhan Kervansarayı



Divriği Ulu Camisi



Kayseri Gevher Nesibe Darüşşifası

Anadolu'da kurulan ilk Türk beylikleri, Anadolu'da yerleştikleri yerlerde cami, medrese, darüşşifa, kervansaray, imarethane gibi birçok eser yapmışlardır.

**Anadolu'da kurulan ilk Türk beyliklerinin bu faaliyetleriyle ilgili aşağıdakilerden hangisine ulaşamaz?**

- A) Anadolu'nun bayındır hale gelmesine
- B) Anadolu'da Türk kültürünün yayılmasına
- C) Anadolu'nun tamamen Türk hakimiyetine girmesine
- D) Sağlık, eğitim ve ticari alanda gelişmelerin yaşanmasına

8.




Yukarıda Malazgirt Savaşı'ndan sonra Anadolu'nun haritası verilmiştir.

**Bu haritaya bakılarak aşağıdakilerden hangisi söylenemez?**

- A) Anadolu'nun tamamı Türklerin eline geçmiştir.
- B) Anadolu'da siyasi birlik yoktur.
- C) Türkiye Selçuklularının sınırları, Karadeniz ve Akdeniz'e ulaşmıştır.
- D) Türkler Anadolu'da farklı adlarla beylikler kurmuşlardır.

9.


Osmanlı Devleti, özellikle Anadolu, Suriye ve Mısır bölgelerine egemen olduğunda, bu ülkeler için stratejik ve üs konumunda olan Kıbrıs, Venedik idaresinde idi. Avrupa ve Asya'yı birbirine bağlayan ticaret yolu Kıbrıs'tan geçmekteydi. Kıbrıs'ta üslenen korsanlar yolcu ve yük gemilerine büyük zarar veriyorlardı.



**Bu bilgilere göre, Osmanlı Devleti'nin Kıbrıs'ı fethinin nedenleri arasında, aşağıdakilerden hangisi gösterilemez?**

- A) Akdeniz'deki Osmanlı hakimiyetini güçlendirmek
- B) Deniz ticaret yollarının güvenliğini sağlamak
- C) Kıyı sınırlarının güvenliğini sağlamak
- D) Karadeniz'i, bir Türk gölü haline getirmek

10.



26 Ağustos 1071 yılında Büyük Selçuklular ile Bizanslılar arasında yapılan Malazgirt Savaşı'nı Selçuklular kazanmıştır. Bu zafer ile Anadolu'nun kapıları Türklere açılmış ve Sultan Alparslan komutanlarına Büyük Selçuklulara bağlı olmak şartıyla Anadolu'da beylikler kurmalarını istemiştir.

**Bu bilgiye göre, Malazgirt Savaşı'nın aşağıdakilerden hangisine ortam hazırladığı söylenemez?**

- A) Bizans'ın Anadolu'daki egemenliğinin zayıflamasına
- B) Anadolu'nun Türkleşme sürecinin hızlanmasına
- C) Anadolu'da beylikler döneminin başlamasına
- D) Anadolu Türk siyasi birliğinin kurulmasına

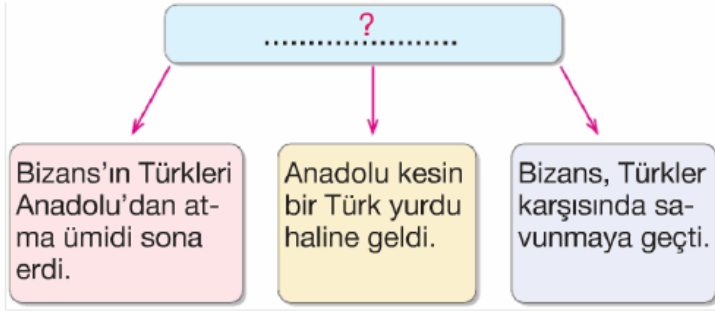
11. Köseadağ Savaşı'ndan sonra Anadolu Moğol egemenliği altına girmiştir. Moğol egemenliğine girmek istemeyen uç bölgelerde bulunan Türkmenler bağımsızlıklarını ilan etmişler, böylece Anadolu'da Türk Beylikleri yeniden kurulmuştur.

**Bu durum, aşağıdakilerden hangisinin bir göstergesidir?**

- A) Anadolu'da, Bizans tehdidinin yeniden başladığının
- B) Bütün beyliklerin, Moğollara karşı birleştiğinin
- C) Anadolu'da, Türk siyasi birliğinin kurulmasının

- C) Anadolu'da, Türk siyasi birliğinin bozulduğunun  
D) Anadolu'da, Moğol kültürünün yayıldığıının

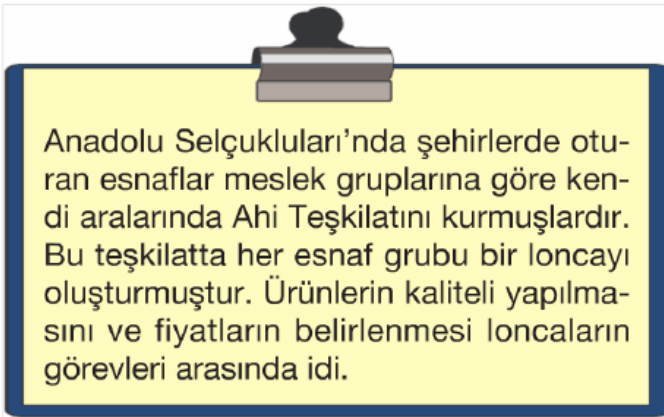
12.



**Yukarıdaki diyagrama verilebilecek en uygun başlık aşağıdakilerden hangisidir?**

- A) Malazgirt Savaşı'nın Sonuçları  
B) Köseadağ Savaşı'nın Sonuçları  
C) Miryokefalon Savaşı'nın sonuçları  
D) Ankara Savaşı'nın Sonuçları

13.



**Bu bilgilere göre;**

- I. Ülke yönetiminde söz sahibi olmuşlardır.  
II. Üretici ve tüketicinin yararına çalışmışlardır.  
III. Esnaflar kendi aralarında örgütlenmiştir.

**gibi yargılardan hangisi ya da hangilerine ulaşılabilir?**

- A) I ve II  
B) II ve III  
C) I ve III  
D) Yalnız II

14. 1243 yılında Anadolu Selçuklu Devleti ile Moğollar arasında yapılan Köseadağ Savaşı'nı

Moğollar kazandı.

**Bu savaş sonunda;**

- Anadolu Selçukluları, Moğol egemenliğine girdi.
- Anadolu'da yeni Türk beylikleri kuruldu.
- Anadolu Selçuklu Devleti yıkılış sürecine girdi.

**Bu bilgilere bakılarak aşağıdaki yargılardan hangisine ulaşamaz?**

- A) Anadolu Türk siyasi birliği bozuldu.
- B) Selçuklular, Moğolların denetimine girdi.
- C) Anadolu'da Türk varlığı sona erdi.
- D) Anadolu Selçukluları, bağımsızlıklarını kaybetti.

[www.supersonu.com](http://www.supersonu.com)

Cevaplar :

1)C, 2)B, 3)A, 4)C, 5)B, 6)B, 7)C, 8)A, 9)D, 10)D, 11)C, 12)C, 13)B, 14)C,