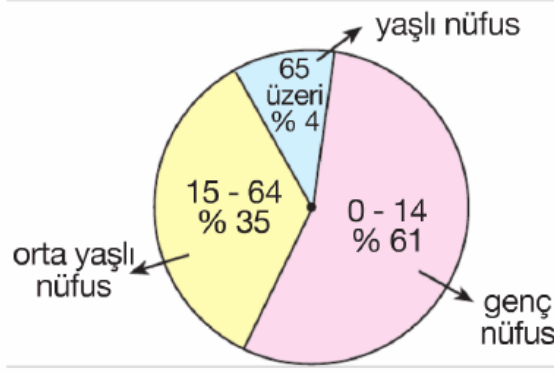


1. Aşağıdaki grafikte ülkemiz nüfusunun yaş gruplarına göre durumu verilmiştir.



Bu grafiğe bakarak aşağıdaki yargılardan hangisine ulaşamaz?

- A) Ülkemiz nüfusunda gençlerin oranı % 61'dir.
B) Ülkemiz nüfusunun en az olduğu grup 65 yaş üzeridir.
C) Orta yaşlı nüfus, ülkemiz nüfusunun en çok olduğu gruptur.
D) Genç nüfus oranı, orta yaşlı nüfus oranından fazladır.

2.

Çocuklar, Türkiye'deki nüfusun dağılımında doğal, beşeri ve ekonomik faktörler etkili olmuştur. Sizce nüfusun dağılışını etkileyen beşeri ve ekonomik faktörler nelerdir?

Öğretmen Nuray Hanım'ın bu sorusuna, bazı öğrenciler şu şekilde cevap vermişlerdir:

İpek: Toprak verimliliği
Yiğit: Yer altı kaynakları
Emel: Ulaşım ve turizm
Vedat: Sanayileşme

Buna göre, hangi öğrencinin verdiği cevap yanlıştır?

- A) İpek B) Yiğit

3. Aşağıdaki tabloda bazı yıllarda ülke içinde göç eden nüfusun oranları verilmiştir.

Yerleşim Yerleri %	1975-1980	1980-1985	1985-1990	1995-2000
Şehirden Şehire %	48,90	48,90	62,18	57,80
Köyden Şehire %	17,02	23,53	17,95	17,46
Şehirden Köye %	19,33	12,84	12,60	20,06
Köyden Köye %	14,75	8,45	7,27	4,68

Tablodaki bilgilere göre, aşağıdaki yargılardan hangisine ulaşamaz?

- A) Köyden şehre göç eden nüfus oranı, yıllara göre değişiklik göstermiştir.
- B) Göç oranı, en az köyden köye yapılmıştır.
- C) Göç oranı, en fazla şehirden şehire yaşanmıştır.
- D) Şehirden köye göç eden nüfus oranı, sürekli azalmıştır.
4. Aşağıdaki tabloda dört coğrafi bölgenin 1990 - 1997 yıllarındaki nüfus miktarları ile aritmetik nüfus yoğunluklarının karşılaştırılması verilmiştir.

Bölgeler	Nüfus (Milyon)		Nüfus yoğunluğu (kişi / km ²)	
	1990	1997	1990	1997
Marmara	13,2	15,9	197	236
Akdeniz	7,0	8,1	61	66
İç Anadolu	9,9	10,5	57	64
Güneydoğu Anadolu	4,8	5,7	81	96
Türkiye	56,5	62,6	73	81

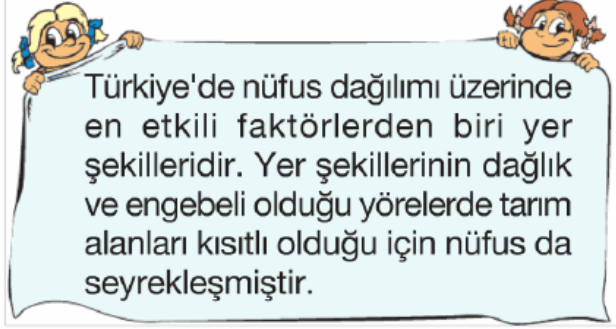
Tablodaki bilgilere göre, aşağıdaki yargılardan hangisine ulaşamaz?

- A) Yıllara göre nüfus yoğunluğu en fazla ar-

tan bölge, Marmara Bölgesi'dir.

- B) İç Anadolu Bölgesi'nin 1997'deki nüfus yoğunluğu, Türkiye ortalamasının üzerindedir.
- C) 1997'de iki bölgenin nüfus yoğunluğu, Türkiye ortalamasının altındadır.
- D) 1990 - 1997 yılları arasında nüfusu en az artan bölge, İç Anadolu Bölgesi'dir.

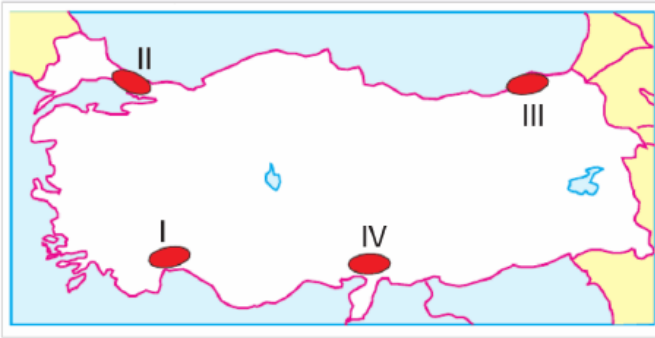
5.



Aşağıdaki yörelerin hangisinde nüfusun seyrek olmasında yer şekilleri etkili olmamıştır?

- A) Taşeli Platosu
- B) Hakkari Bölümü
- C) Tuz Gölü Yöresi
- D) Menteşe Yöresi

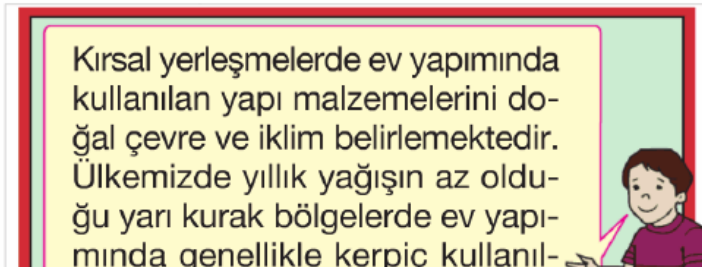
6.



Yukarıda Türkiye haritasında taralı alanlardan hangisinde, nüfusun yoğun olmasında sanayileşme diğerlerine göre daha fazla etkili olmuştur?

- A) I
- B) II
- C) III
- D) IV

7.

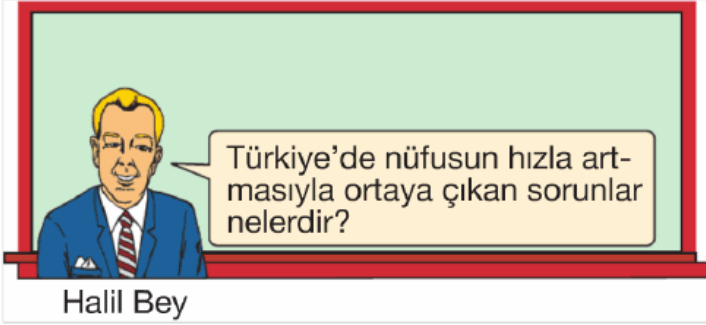


maktadır.



Buna göre, aşağıdaki kentlerimizden hangisinin kırsal yerleşmelerinde kerpiç malzemenin daha yaygın olarak kullanılması beklenir?

- A) Giresun B) Antalya
C) Kastamonu D) Aksaray

8.

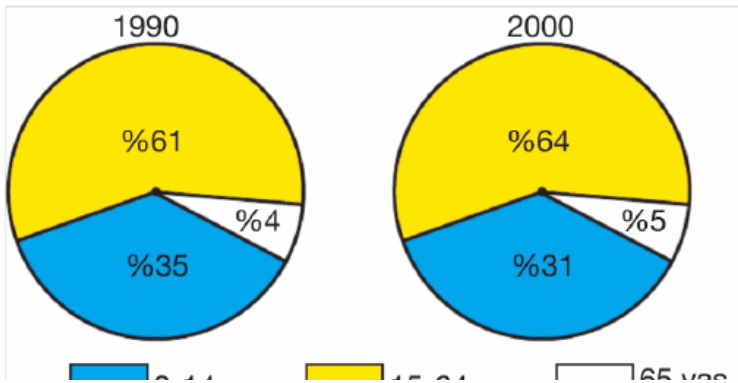


Öğretmen Halil Bey’in bu sorusuna, aşağıdaki öğrencilerden hangisinin verdiği cevap yanlış olur?

- A)  Kalkınma hızının düşmesi
B)  Vergi gelirlerinin artması
C)  İç ve dış göçlerin artması
D)  İşsizlik sorununun artması

9

Aşağıdaki grafiklerde, Türkiye’nin 1990 ve 2000 yıllarına göre toplam nüfusunun yaş gruplarına göre dağılımı verilmiştir.

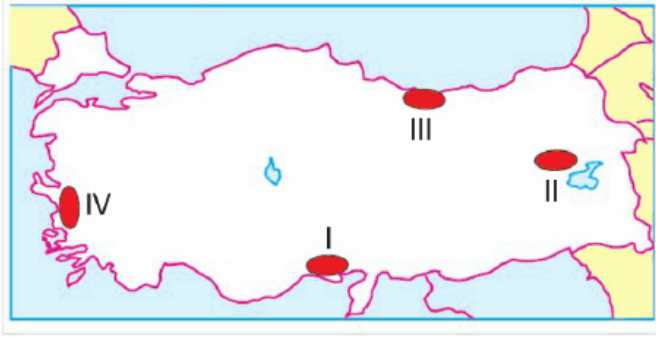


0-14 yaş 15-64 yaş 65 yaş ve üzeri

Grafikteki bilgilere bakılarak aşağıdakilerden hangisi söylenemez?

- A) Türkiye'nin 2000 yılındaki nüfus artış hızı, 1990 yılına göre daha yüksektir.
- B) Verilen yıllarda toplam nüfus içinde 15-64 yaş grubunun oranı en fazladır.
- C) Toplam nüfus içinde 65 yaş ve üzeri yaş grubunun oranı en azdır.
- D) 2000 yılında 0 - 14 yaş grubunun oranı, 15 - 64 yaş grubu oranının yarısından azdır.

10.



Yukarıdaki haritada numaralandırılmış yerlerden hangisi mevsimlik göç almaz?

- A) I
- B) II
- C) III
- D) IV

11.

- Ülkede nüfus dağılışının düzensizleşmesi
- Konut sıkıntısının ortaya çıkması
- Sanayi tesislerinin kent içinde kalması

Yukarıdaki gelişmeler, aşağıdakilerden hangisinin sonuçlarıdır?

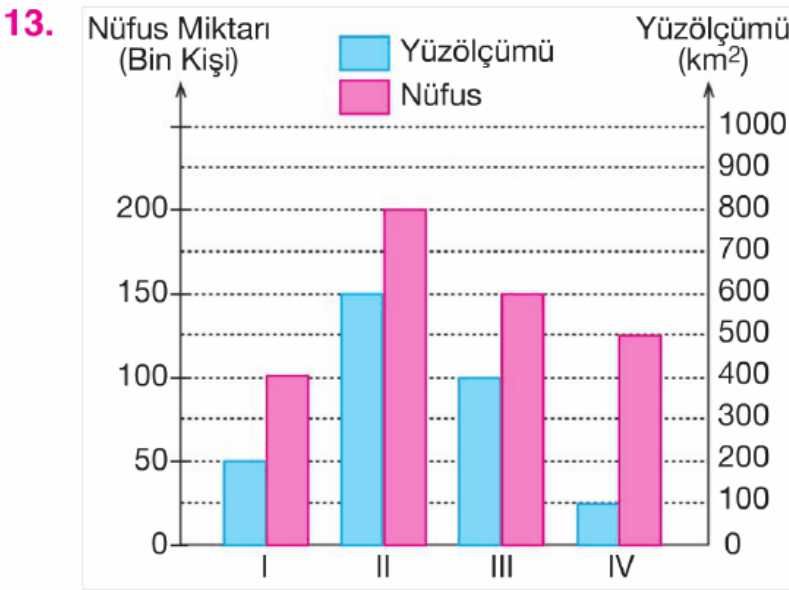
- A) Köyden kente yapılan göçlerin
- B) İşsizlik oranının artmasının
- C) Nüfus yoğunluğunun artmasının
- D) Başka ülkelere yapılan göçlerin

12. Ülkemizde, 1950 yılından başlayarak ve özellikle sanayileşmenin gelişmesiyle beraber

kırsal alanlardan kentlere doğru yapılan iç göçler yoğun bir şekilde artmış, bu göçlere bağlı olarak kentlerimizde birçok sorun ortaya çıkmıştır.

Aşağıdakilerden hangisi, iç göçe bağlı olarak kentlerimizde ortaya çıkan sorunlardan biri değildir?

- A) Konut sıkıntısının ortaya çıkması
- B) Alt yapı hizmetlerinin yetersiz kalması
- C) Kentlerde işsizlik oranının artması
- D) Hava ve çevre kirliliğinin azalması



Yukarıdaki grafikte, dört kentin nüfus miktarı ile yüzölçümü verilmiştir.

Buna göre, numaralı kentlerden hangisinde nüfus yoğunluğu en azdır?

- A) I
- B) II
- C) III
- D) IV

14. Ekonomik faaliyet olarak sanayi faaliyetlerinin yoğun olduğu kentlere sanayi kentleri denir.



Aşağıdakilerden hangisi, bir kentin sanayileşmiş olduğuna kanıt olarak gösterilebilir?

- A) Nüfus artış hızının düşük olması

- B) Gecekondulaşma oranının fazla olması
- C) Enerji tüketiminin fazla olması
- D) Yer altı kaynaklarının fazla olması

15. Millî Eğitim Kanunun’nda “Eğitimde kadın - erkek herkese fırsat ve imkân eşitliği sağlanır.” denilmektedir.

Bu madde, aşağıdakilerden hangisini vurgulamaktadır?

- A) Ülkemizde çok sayıda okulların açılacağını
- B) Düşük gelirli ailelere ekonomik destek sağlanacağını
- C) Eğitim ile ilgili bütün harcamaların devletçe karşılanacağını
- D) Eğitimin vatandaşlara eşit koşullarda verileceğini

www.supersoru.com

Cevaplar :

1)C, 2)A, 3)D, 4)B, 5)C, 6)B, 7)D, 8)B, 9)A, 10)B, 11)A, 12)D, 13)B, 14)C, 15)D,