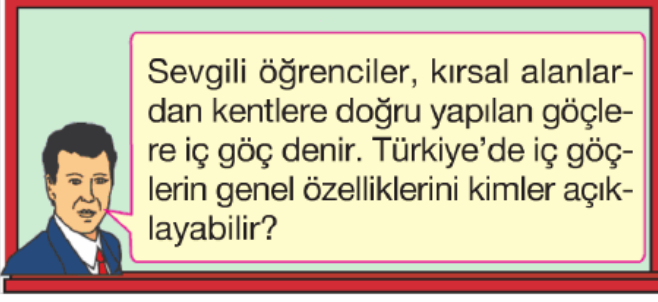






1.



Öğretmen Murat Bey’in bu sorusuna, aşağıdaki öğrencilerden hangisi yanlış cevap vermiştir?

- A)  Göç gönderen bölgelerde erkek nüfus oranı fazladır.
- B)  Marmara ve Ege bölgeleri en çok göç alan bölgelerdir.
- C)  Göçler genellikle doğudan batıya doğrudur.
- D)  İç göçlerin en önemli nedeni ekonomik sıkıntılardır.

2. Aşağıdaki tabloda Türkiye'nin yıllara göre köy ve kent nüfusları verilmiştir.

Yıllar	Kent nüfusu	Köy nüfusu
1970	13.691.101	21.914.075
1980	19.645.007	25.091.950
1990	33.326.351	23.146.684
2000	44.006.274	23.797.653

Bu tabloya bakılarak aşağıdakilerden hangisine ulaşamaz?

- A) Köy nüfusunun en fazla olduğu yıl 1980'dir.
- B) Kent nüfusu düzenli olarak artmıştır.
- C) 1990 yılında kent nüfusu köy nüfusunu geçmiştir.
- D) Köy nüfusu düzenli olarak azalmıştır.

3.

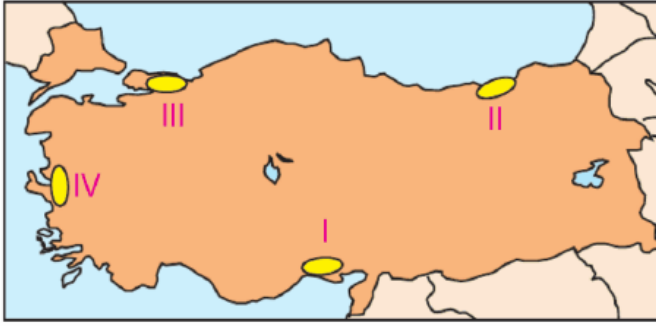
Kırsal bölgelerde yaşayan bazı insanların tarım alanlarında ve yaz turizminin geliştiği yerlerde bir

müddet çalışmak üzere geçici olarak göç etmeleri mevsimlik göç olarak ifade edilmektedir.

Aşağıdaki kentlerimizden hangisinin mevsimlik göç alma nedeni diğerlerinden farklıdır?

- A) Marmaris B) Adana
C) Ayvalık D) Antalya


4.



Yukarıdaki Türkiye haritasında numaralandırılmış alanlardan hangisinden başka illere doğru iç göç yapılmaktadır?

- A) I B) II C) III D) IV

5.



Türkiye'de nüfus yoğunluğu 1927 yılında 18 kişi iken, 2000 yılında ise 88 kişiye çıkmıştır.

Nüfus yoğunluğunun artmasında rol oynayan etkenler arasında, aşağıdakilerden hangisi gösterilemez?

- A) İç göçlerin artması
B) Sağlık hizmetlerinin gelişmesi
C) Bebek ölümlerinin azalması
D) Doğum oranının fazla olması

6.



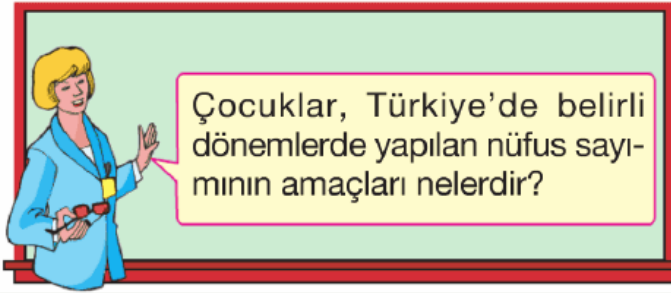
Köyümüzde traktör sayısı çoğaldıkça iş gücüne olan ihtiyaç da azaldı. Eskiden yaklaşık on kişinin yapabileceği işi, şimdi bir traktör yapmaktadır. Bu durum birçok kişinin işsiz kalarak köyümüzden şehre göç etmelerine yol açtı.







Yukarıdaki çiftçinin anlatımında, köyden şehire göçe neden olan faktörlerden hangisi vurgulanmaktadır?

- A) Tarımda makineleşmenin yaygınlaşması
- B) Tarım alanlarının miras yoluyla bölünmesi
- C) Kırsal kesimde hızlı nüfus artışının olması
- D) Kentlerde eğitim ve sağlık hizmetlerinin fazla olması

7.



Öğretmenin bu sorusuna, hangi öğrencinin verdiği cevap yanlıştır?

- A)  Nüfusun yaş gruplarına göre dağılımını belirlemek
- B)  Nüfusun eğitim durumunu belirlemek
- C)  Nüfusun artış hızını tespit etmek
- D)  Ülkenin ihracat ve ithalat oranlarını belirlemek

8. **Bir ülkenin;**

- Doğum oranı ve nüfus artış hızının düşük olması
- Çalışan nüfusun yaş ortalamasının yüksek olması
- Sanayi sektöründe çalışan nüfusun tarım sektöründen fazla olması

gibi özellikleri göz önünde bulundurularak bu ülke ile ilgili olarak aşağıdakilerden han-

gisi söylenebilir?

- A) İç göç olayları yoğundur.
- B) Ekonomik yönden gelişmiştir.
- C) Tarım alanları dardır.
- D) Zengin doğal kaynaklara sahiptir.

9. Türkiye'de başka şehirlerden en fazla göç, İstanbul, İzmir, Kocaeli ve Adana gibi illere yapılmaktadır.

Buna göre, göç alan illerin ortak özellikleri arasında aşağıdakilerden hangisi yer almaz?

- A) İklim koşullarının elverişliliği
- B) İş imkanlarının fazlalığı
- C) Zengin maden kaynaklarının varlığı
- D) Sanayi faaliyetlerinin yoğunluğu

10.

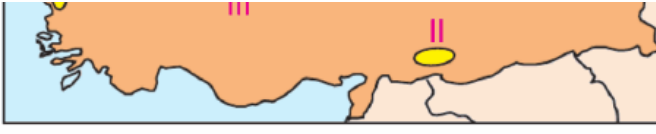


Yukarıdaki şemada soru işareti “?” ile gösterilen yere aşağıdakilerden hangisi getirilemez?

- A) Vergi gelirlerinin artması
- B) İşsizlik sorununun artması
- C) Tüketimin artması
- D) İhracatın azalması

11. Yer şekillerinin dağlık ve su kaynaklarının fazla olduğu yerlerde dağınık yerleşme yaygın olur.





Buna göre, yukarıdaki Türkiye haritasında numaralandırılmış alanlardan hangisinde dağınık yerleşme daha fazladır?

- A) I B) II C) III D) IV

12.



Ahmet

Amcam, her yıl iş olanaklarının fazla olduğu büyük şehirlerde geçici işçi olarak bir süre çalıştıktan sonra geri döner.



Sevgi

Turist rehberliği yapan ağabeyim, yaz dönemlerinde turizm faaliyetlerinin yoğun olduğu Akdeniz ve Ege'nin sahil şehirlerinde çalışmaya gidiyor.



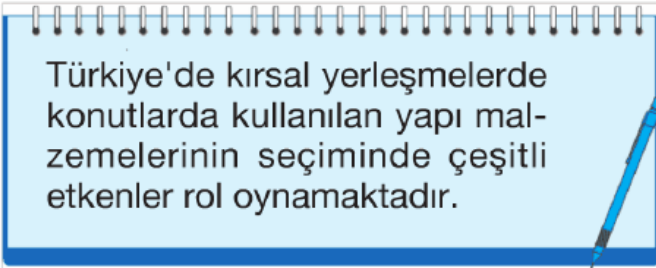
Murat

Ben, yaz döneminde ailemle beraber Giresun'a fındık toplamaya gidiyorum. Böylece aile bütçesine ben de katkıda bulunuyorum.

Yukarıdaki öğrencilerin açıklamaları, hangi göç türüne örnek gösterilebilir?

- A) Beyin göçü B) Sürekli göç
C) Dış göç D) Mevsimlik göç

13.



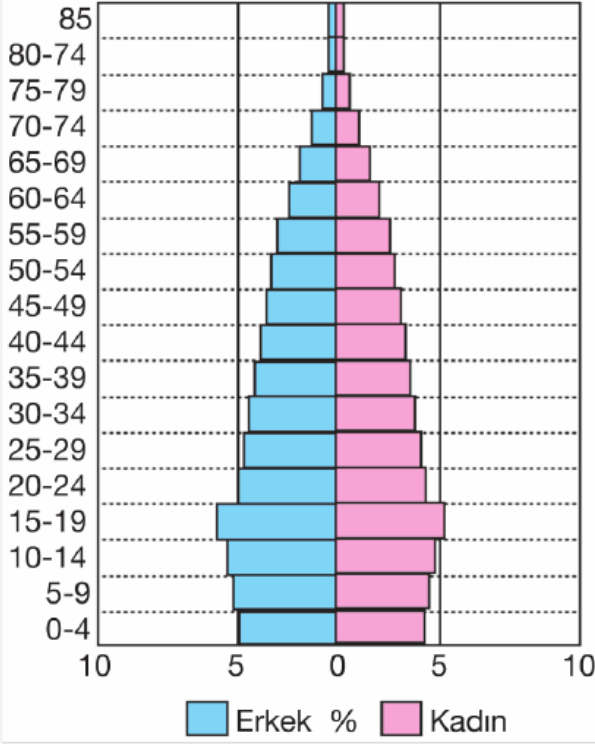
Konut yapımında kullanılan malzemelerin seçiminde;

- I. Doğal çevre
II. Nüfus sayısı
III. İklim koşulları

gibi özelliklerden hangisi ya da hangileri etkili olmuştur?

- A) I ve III B) Yalnız III
C) II ve III D) I ve II

14. Yaş Grubu



Yukarıdaki grafikte, 2000 yılındaki Türkiye nüfusunun yaş gruplarına ve cinsiyetlerine göre dağılım oranları gösterilmiştir.

Grafikteki bilgilere göre, aşağıdaki yargılardan hangisine ulaşamaz?

- A) Nüfusun % 5'inden fazlası 70-74 yaş grubundadır.
- B) 20-24 yaş grubundaki erkeklerin oranı, kadınlardan fazladır.
- C) Nüfusun yaş gruplarına göre en fazlasını 15-19 yaş grubu oluşturmaktadır.
- D) Kadın ve erkek nüfus oranları birbirine yakındır.

15.



Bordum'da ilk çağlardan beri bağcılık, zeytincilik, narenciye üretimi ve süngercilik ekonomik hayatta önemli bir yere sahip olmasına rağmen, imalat sektörüne yönelik bir sanayi kuruluşu yer almamaktadır.

Buna göre, ilçede sanayi sektörünün yeterince gelişmemesinin en önemli nedeni aşağıdakilerden hangisidir?

- A) Ulaşım imkanlarının elverişli olmaması
- B) Tarım sektörünün gelişmemesi

- B) Turizm sektörünün gelişmiş olması
- C) Tarımın temel geçim kaynağı olması
- D) Hizmet sektörünün çok gelişmiş olması

www.supersoru.com

Cevaplar :

1)A, 2)D, 3)B, 4)B, 5)A, 6)A, 7)D, 8)D, 9)B, 10)A, 11)A, 12)D, 13)A, 14)A, 15)B,