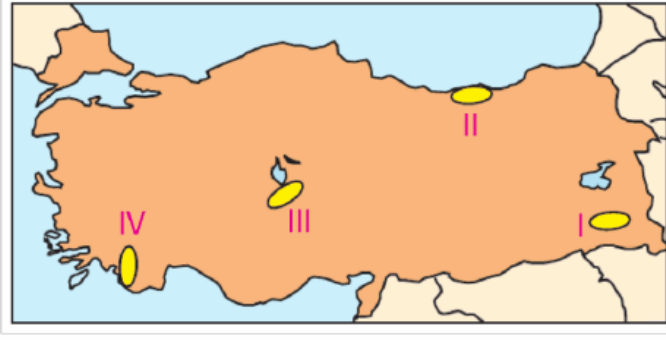


1.



Yukarıdaki Türkiye haritasında numaralandırılmış alanlardan hangisinde, nüfusun seyrek olmasında iklim koşullarının elverişsizliği ve yer şekillerinin dağlık ve engebелiliği etkili olmuştur?

- A) I B) II C) III D) IV

2. Aşağıdaki tabloda bazı illerimizin 2010 yılındaki nüfusları ile yüzölçümleri verilmiştir.

İl	Yüzölçümü (km ²)	Nüfus
Adana	14.256	2.085.225
Konya	38.183	2.013.845
Malatya	12.313	736.530
Ankara	30.715	4.466.756

Bir yerdeki toplam nüfusun, o yerin yüz ölçümüne bölünmesiyle nüfus yoğunluğu elde edilir.

Tabloya bakarak hangi ilin nüfus yoğunluğunun daha az olduğu söylenebilir?

- A) Adana B) Konya
C) Malatya D) Ankara

3.

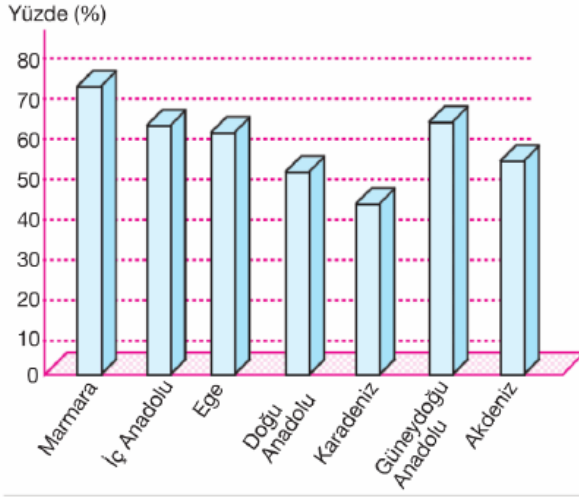
2000 yılı sayımlarına göre, toplam nüfusumuzun % 61'i 0-14 yaş grubu içerisinde yer almaktadır.

Bu durum, aşağıdakilerden hangisini kanıtlamaktadır?

- A) Sanayi sektöründe çalışan nüfusun fazla olduğunu

- B) Nüfus artış hızının yüksek olduğunu
- C) Kentleşme oranının hızla arttığını
- D) Okuma - yazma oranının yüksek olduğunu

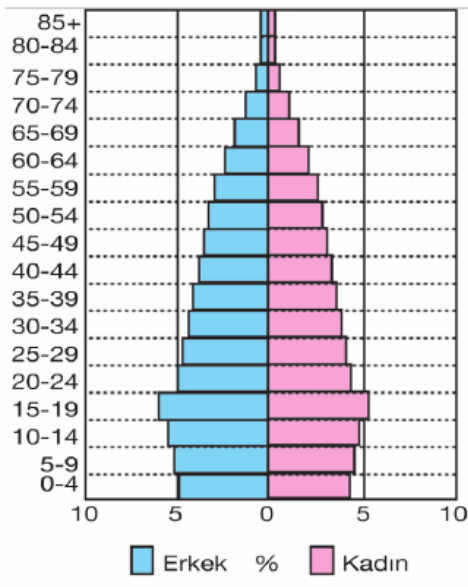
4. Aşağıdaki grafikte coğrafi bölgelerimizin kentleşme oranları verilmiştir.



Bu grafiğe bakılarak aşağıdaki sonuçlardan hangisine ulaşamaz?

- A) Kentleşme oranının en az olduğu bölge Karadeniz'dir.
- B) İç Anadolu Bölgesi'nin kentleşme oranı, Ege'den fazladır.
- C) Nüfusun en seyrek olduğu bölge, Doğu Anadolu Bölgesi'dir.
- D) Bölgelerin kentleşme oranları farklılık göstermektedir.

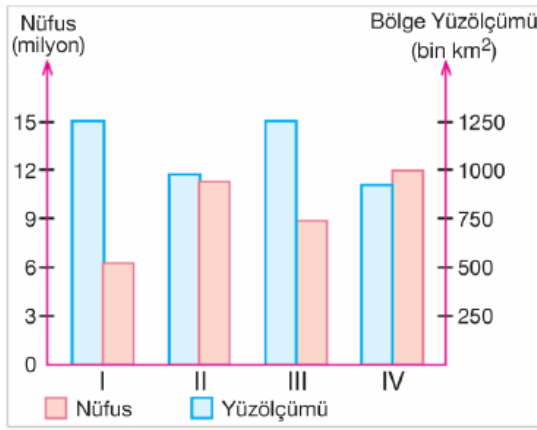
5. Aşağıdaki grafikte 2000 yılında Türkiye nüfusunun yaş gruplarına göre dağılışı verilmiştir.



Grafikte verilen bilgilere göre, aşağıdakilerden hangisine ulaşamaz?

- A) 30 - 34 yaş grubundaki erkek nüfus oranı yüzde beşten azdır.
- B) Kadınlarda, yaş gruplarına göre en fazla orana sahip yaş grubu 15 - 19'dur.
- C) 0 - 4 yaş grubundaki kadın nüfus oranı, erkek nüfus oranından azdır.
- D) Erkeklerde, yaş gruplarına göre en fazla orana sahip yaş grubu 20 - 24'tür.

6. Aşağıdaki grafikte dört farklı bölgenin nüfus ve yüzölçümleri verilmiştir.



Bu bölgelerden hangisinin nüfus yoğunluğu diğerlerinden daha fazladır?

- A) I
- B) II
- C) III
- D) IV

7.



Yukarıdaki kavram haritasında (?) ile gösterilen yere aşağıdakilerden hangisi yazılmalıdır?

- A) Nüfus artışının sonuçları
- B) Nüfusun eğitim seviyesinin düşük olmasının sonuçları
- C) Hızlı kentleşmenin sonuçları
- D) İç göçlerin sonuçları

8. Türkiye’de devlet ve vatandaş el ele vererek eğitim, sağlık ve ekonomi gibi birçok alanda iş birliği yapmaktadırlar.

Aşağıdakilerden hangisi, eğitim alanında devlet - vatandaş iş birliğine örnek olarak gösterilebilir?

- A) Tarımsal üretimi artırmak için çiftçilere bankalar tarafından krediler verilmesi
B) Geri kalmış bölgelerde, yatırım için teşvik politikalarının uygulanması
C) Devletin yerleşme ve seyahat özgürlüğünü, bütün vatandaşlara uygulaması
D) Bazı vatandaşların derslik ve okul yapılması için bağışlarda bulunması
9. Aşağıdaki tabloda, 1980 ve 2000 yıllarında Türkiye’nin okuryazarlık ve eğitim durumu verilmiştir.

Yıllar	1980		2000	
	Erkek	Kadın	Erkek	Kadın
İlkokul %	46,75	24,73	50,29	45,27
Ortaokul veya dengi meslek okulları %	5,39	2,22	11,19	5,31
Lise veya dengi meslek okulları %	6,61	3,48	16,01	9,12
Yüksek Öğretim %	5,68	1,56	10,23	5,39

Tablodaki bilgilere bakarak aşağıdakilerden hangisine ulaşılamaz?

- A) 2000 yılında yükseköğretim mezunu erkeklerin oranı, kadınların iki katına yakındır.
B) İlkokul mezunu kadınların oranı, erkeklerden daha hızlı artmıştır.
C) 1980 yılında ortaokul mezunu erkeklerin oranı, kadınlardan daha azdır.
D) Lise mezunu erkeklerin oranındaki artış,

kadınlardan daha azdır.

10. Aşağıdaki tabloda Türkiye'de bazı yıllara göre kırsal ve kentsel nüfus oranları verilmiştir.

Yıllar	Kentsel nüfus %	Kırsal nüfus %
1965	34.42	65.58
1975	41.81	58.19
1985	53.03	46.97
1997	65.04	34.96


Bu tablodaki bilgilere bakılarak aşağıdakilerden hangisine ulaşamaz?

- A) 1997'de nüfusumuzun yaklaşık üçte ikisi, kırsal alanda yaşamaktadır.
- B) 1985'te kentsel nüfus oranı, kırsal nüfus oranını geçmiştir.
- C) Kırsal nüfus oranı, düzenli olarak düşmüştür.
- D) 1965'te nüfusumuzun yaklaşık üçte biri, kentlerde yaşamaktadır.
11. Ülke nüfuslarının yaş, cinsiyet, eğitim durumu, ekonomik durumu ve kırsal - kentsel durumu gibi özelliklerine nüfusun özellikleri denir.

Aşağıdakilerden hangisi, Türkiye nüfusunun özelliklerinden biri değildir?

- A) Göç alan bölgelerde, erkek nüfusun fazla olması
- B) Genç nüfusun, yaşlı nüfus oranından fazla olması
- C) Kırsal nüfusunun, kent nüfusundan fazla olması
- D) Okur-yazar oranının en yüksek olduğu bölgenin Marmara olması

12.



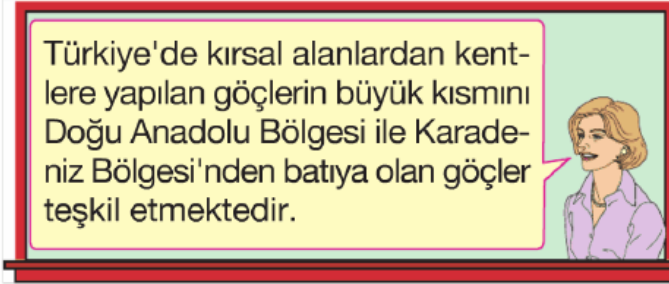
Ben Türkiye'de eğitimimi tamamlayıp bilgisayar mühendisi oldum. Şimdi ABD'de çalışıyorum. Çünkü, bu ülkede hem çalışma ortamı hem de ekonomik yönden bana daha iyi imkânlar sağlandı.



Fuat Bey'in bu durumu, hangi göç türüne örnek olarak gösterilebilir?

- A) Beyin göçü B) İşçi göçü
C) İç göç D) Mevsimlik göç

13.



Bu göçlerin ortak özellikleri arasında, aşağıdakilerden hangisi gösterilemez?

- A) Yer şekillerinin dağlık ve engebeli olması
B) Yer altı kaynaklarının az olması
C) Tarım alanlarının dar olması
D) İş alanlarının kısıtlı olması

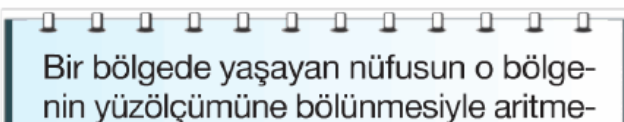
14.



Yukarıdaki Türkiye haritasında işaretlenmiş kentlerimizden hangisi, turizm faaliyetlerine bağlı olarak mevsimlik göç alması diğerlerinden daha azdır?

- A) Antalya B) İzmir
C) Ayvalık D) Samsun

15.

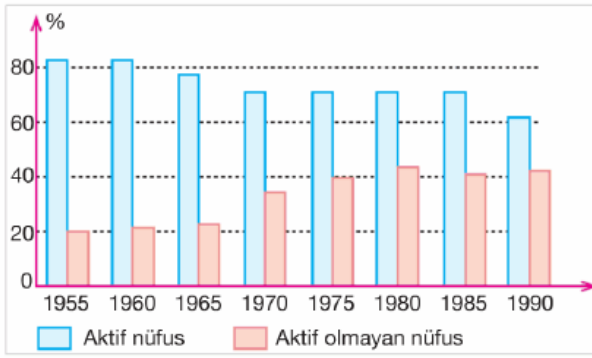


tik nüfus yoğunluğu elde edilir.

Buna göre, aşağıdaki bölgelerimizden hangisinin aritmetik nüfus yoğunluğu daha azdır?

- A) İç Anadolu Bölgesi
- B) Marmara Bölgesi
- C) Doğu Anadolu Bölgesi
- D) Akdeniz Bölgesi

16. Aşağıdaki grafikte Türkiye'deki aktif (çalışan) nüfusun yıllar arasındaki değişimi verilmiştir.



Bu grafiğe bakılarak aşağıdaki sonuçlardan hangisi çıkarılamaz?

- A) Aktif nüfus 1955'te %80'in üstündedir.
- B) Aktif olmayan nüfus sürekli artmıştır.
- C) Aktif nüfus 1985'te en alt seviyeye inmiştir.
- D) Aktif olmayan nüfus 1960'ta yaklaşık %20'dir.

www.supersonu.com

Cevaplar :

1)A, 2)B, 3)B, 4)C, 5)D, 6)A, 7)D, 8)D, 9)C, 10)A, 11)C, 12)A, 13)B, 14)D, 15)C, 16)C,