

1. Mustafa Kemal, 5 Şubat 1905'te stajını yapmak üzere ilk görev yeri olan Şam şehrine gönderildi. Mustafa Kemal burada bulunduğu süre içerisinde gizlice Vatan ve Hürriyet Cemiyetini kurdu.

Yukarıda Mustafa Kemal'in hangi alandaki faaliyetleri ile ilgili bilgi verilmiştir?

- A) Dinî - Siyasi B) Askerî - Siyasi
C) Siyasi - Sosyal D) Kültürel - Askerî

2. Mustafa Kemal, okul çağına geldiğinde Zübeyde Hanım, oğlunun geleneklere uygun olarak Mahalle Mektebine gitmesini; Ali Rıza Efendi ise oğlunun çağdaş bir eğitim veren Şemsi Efendi Okuluna gitmesini istedi.

Buna göre, Ali Rıza Efendi ile ilgili;

- I. Modern düşünceli bir kişi olduğu,
II. Mustafa Kemal'in eğitimine önem verdiği,
III. Mustafa Kemal'in askerî alanda eğitim almasını desteklediği

yargılarından hangisine ya da hangilerine ulaşılabilir?

- A) Yalnız I B) Yalnız III
C) I ve II D) I, II ve III

3. Askerlik mesleğine ilgi duyan Mustafa Kemal, gizlice sınavlarına girdiği Selânik Askeri Rüştiyesine 1893'te başladı. Selânik Askerî Rüştiyesi'nde Yüzbaşı Mustafa Bey, öğrencisi Mustafa'yı çok seviyordu; ona olgunluk anlamına gelen "Kemal" ismini verdi.

Bu durum Mustafa Kemal ile ilgili aşağıdakilerden hangisini kanıtlar niteliktedir?

- A) Yenilikçi bir lider olduğunu
B) Başarılı bir öğrenci olduğunu
C) Fikirleriyle çevresini değiştirdiğini
D) Sorunlara karşı akılcı çözümler sunabildiğini

4. Osmanlı Devleti çok uluslu bir yapıya sahipti. Ülke sınırları içinde Türklerle beraber pek çok

farklı millet de bulunuyordu. Selânik şehrinde de Türklerle birlikte Rum, Bulgar, Sırp, Yahudi ve Ermeni gibi milletler yaşamaktaydı.





Bu durum Selânik şehri ile ilgili aşağıdaki-lerden hangisini kanıtlar niteliktedir?

- A) Siyasi açıdan bölünmüş olduğunu
- B) Etnik yapısının çeşitlilik gösterdiğini
- C) Batı kültürünün etkilerinin görüldüğünü
- D) Osmanlı Devleti'nin en büyük şehri olduğunu

5.

Mahalle Mektebi	Şemsi Efendi Okulu
Selânik Mülkiye Rüştiyesi	Selânik Askerî Rüştiyesi

Yukarıdaki tabloda Mustafa Kemal'in askerî eğitim aldığı okullar yeşil renge boyandığında aşağıdaki şekillerden hangisi ortaya çıkar?

- A) 
- B) 
- C) 
- D) 

6.

Mustafa Kemal

Öncelikle Zübeyde Hanım'ın isteği ile mahalle mektebine gitmiş, daha sonra modern eğitim veren Şemsi Efendi Okuluna devam etmiştir.

Zübeyde Hanım'ın isteği ile Mülkiye Rüştiyesine yazılmış, daha sonra gizlice girdiği sınav sonucunda Selânik Askerî Rüştiyesine yazılmıştır.

Manastır Askerî İdadisine devam etmiş; farklı düşünürlerin etkisiyle fikir hayatı bu okulda gelişmiştir.

Buna göre, Mustafa Kemal ile ilgili aşağıdakilerden hangisi söylenemez?

- A) Eğitim hayatında meydana gelen gelişmelerde, ailesinin etkili olduğu
- B) Farklı şehirlerde eğitim hayatını sürdürdü-

ğü

- C) Asker olmayı küçük yaşlardan itibaren istediği
- D) Öğrenim hayatı boyunca sadece askerî alanda eğitim gördüğü

7.

Osmanlı Devleti'nin bir kenti olan 50 bin nüfuslu Selânik, âdeta Yunanistan olmuştu. Yunan bayrakları ve krallarının resimleri kilise ve okul gibi binaların duvarına açıkça asılırdı. Birçok köyde tek kelime Türkçe bilen yoktu. Polis, jandarma ve kâtiplerin %88'i ise Rum'du.

Tahsin Uzun - 1908

Yukarıdaki bilgiler Selânik ile ilgili;

- I. Türkçenin kullanım alanının dar olduğu,
II. Osmanlı yönetimiyle bağlarının zayıf olduğu,
III. Güvenliğin sağlanmasında Rumların daha fazla yer aldığı

yargılarından hangilerini kanıtlar niteliktedir?

- A) I ve II
B) I ve III
C) II ve III
D) I, II ve III

8. Mustafa Kemal, Osmanlı padişahının izin ve desteğiyle 19 Mayıs 1919'da millî birlik ve beraberliği sağlamak için Samsun'a geldi. Buradan Havza'ya geçerek bildiriler yayımladı. 22 Haziran 1919'da Amasya Genelgesi'ni yayımladı. Doğu Anadolu'nun kurtuluşu için toplanan Erzurum Kongresi'ne başkanlık yaptı. Sivas Kongresi'nde bütün cemiyetleri aynı çatı altında birleştirdi.

Yukarıda verilen bilgilere dayanarak Atatürk ile ilgili aşağıdakilerden hangisine ulaşamaz?

- A) Ülke bütünlüğünü korumak için siyasi alanda faaliyetler yürüttüğüne
B) İstanbul Hükûmeti ile ortak çalışmalar yürüttüğüne
C) Millî birlik ve beraberliği sağlamaya çalıştığına
D) Millî Mücadele hareketini tek merkezde topladığına

9. 1881’de Selânik’te dünyaya gelen Mustafa Kemal Atatürk’ün doğum günü kesin olarak bilinmemektedir. Ancak Mustafa Kemal’e ileride doğum günü sorulduğunda “19 Mayıs’ta doğdum.” demiştir.

Atatürk’ün bu cevabı, aşağıdakilerden hangisini kanıtlar niteliktedir?

- A) Fikirlerinin her alanda kabul gördüğünü
B) İnkılapçı bir düşünceye sahip olduğunu
C) Millî Mücadelenin başlangıcını doğum günü olarak kabul ettiğini
D) Millî Mücadele hareketini halkla birlikte gerçekleştirmek istediğini

10.

1	İstanbul	2	Şam	3	Manastır
4	Erzurum	5	Sivas	6	Sofya

Tabloda numaralandırılarak gösterilen şehirlerden hangisinin, Mustafa Kemal’in eğitim hayatında etkili olduğu söylenebilir?

- A) 1 ve 3
B) 1 ve 5
C) 2 ve 4
D) 3 ve 6

11.

1	Selânik Mülkiye Rüştiyesi	2	Selânik Askerî Rüştiyesi
3	Manastır Askerî İdadisi	4	Harp Okulu

Sosyal bilgiler dersinde tahtaya yukarıdaki tabloyu çizen öğretmen öğrencilere; “Atatürk’ün matematik öğretmeninden Kemal ismini aldığı okul hangi numara ile gösterilmiştir?” diye soruyor.

Öğretmenin sorduğu soruya öğrencilerin verdiği cevaplardan hangisi doğrudur?

- A) 4
B) 3
C) 2
D) 1

12. Medeniyetin esasının, ilerlemenin ve kuvvetin temelini aile hayatında olduğu düşüncesini

çenemini aile hayatında olduğu duygusunu taşıyan Mustafa Kemal, Latife Hanım'la evlenirken zamanın alışlagelmiş örf ve âdetlerinin aksine nikâh törenine Latife Hanım ile beraber katılmış ve yurt gezilerine de eşiyle birlikte çıkmıştır.

Yukarıda verilen bilgiler Mustafa Kemal ile ilgili aşağıdakilerden hangisinin göstergesi olamaz?

- A) Aile hayatına önem verdiği
- B) Türk kadınının siyasi alanda faaliyet göstermesini sağladığının
- C) Kadının aile ve toplum hayatındaki yerine önem verdiği
- D) Yaşadığı dönemin düzeninden farklı davrandığının

13. Aşağıdakilerden hangisi Mustafa Kemal'in yazdığı eserler arasında yer almaz?

- A) Geometri
- B) Nutuk
- C) Safahat
- D) Cumalı Ordugâhı

14. Atatürk, yapmayı düşündüğü şeyleri, belirli bir plana göre uygulamaya koymuştur. İşleri hiçbir zaman şansa bırakmaması onun başarısındaki en önemli etkenlerden biridir.

Yukarıda verilenlere göre Atatürk ile ilgili;

- I. İşlerini planlayarak yaptığı,
- II. İşlerinde şansa yer vermediği,
- III. Çalışmalarında Avrupa'yı örnek aldığı

yargılarından hangisine ya da hangilerine ulaşılabilir?

- A) Yalnız I
- B) Yalnız II
- C) I ve II
- D) II ve III

15. Atatürk'ün 1936 - 1937 yılları arasında "Geometri" adıyla yazdığı eser, 1937'de Milli Eğitim Bakanlığı tarafından bastırıldı. Bugün hâlen kullanılmakta olan geometri terimlerinin büyük bir kısmı onun tarafından Türkçemize kazandırıldı. Bu terimlere örnek olarak zaviye yerine aç, mütellek yerine üçgen gösterilebilir

rine açt, müesses yerine uęgen göstermedi.

Yukarıda verilen bilgilere bakılarak Atatürk ile ilgili;

- I. Matematik alanındaki eserinin Millî Eğitim Bakanlığınca kabul gördüęü,
- II. Geometri alanında yaptıęı çalışmaların güncellięini koruduęu,
- III. Bilimsel alandaki çalışmalarını sadece matematikte yoğunlaştırdıęı

yargılarından hangisine ya da hangilerine ulaşamaz?

- A) Yalnız I B) Yalnız III
C) I ve II D) II ve III

16. Atatürk'ün başarılı yöneticilięi sayesinde Türk milleti baęımsızlık mücadelesinde başarılı oldu. Bu başarı, daha sonra sömürge altında yaşıyan milletlere de örnek oldu. Bu durum Atatürk'ün sadece Türk milleti tarafından değil, birçok millet için de bir kurtarıcı ve önder olarak benimsenmesini sağladı.

Bu durum Mustafa Kemal ile ilgili aşağıdakilerden hangisinin göstergesidir?

- A) Evrensel nitelikte bir lider olduęunun
B) Düşünce alanında çok yönlü bir kiři olduęunun
C) Halkın yönetime katılmasına önem verdięinin
D) Türk milletinin çağdaşlaşmasını her şeyin üstünde tuttuęunun

17.

Mustafa Kemal'in Sözleri	
"Fikirler anlamsız, mantıksız, boş sözlerle dolu olursa o fikirler hastalıktır."	<input type="checkbox"/>
"Vatanın her karış topraęı vatandaşın kanyla sulanmadıkça terk edilemez."	<input type="checkbox"/>
"Bu vatan çocuklarımız ve torunlarımız için cennet yapılmaya layıktır."	<input type="checkbox"/>
"Yurt topraęı! Sana her şey feda olsun."	<input type="checkbox"/>

Arda, Mustafa Kemal'in tablodaki sözlerinden "Vatan ve Millet Sevgisi"ni ifade edenlerin yanındaki boşluęa ✓ işareti koyacaktır.

Buna göre, Arda kaç tane ✓ işareti kullanır-

sa doğru olur?

- A) 1 B) 2 C) 3 D) 4

18. Mustafa Kemal, Şam'da Osmanlı Devleti'nin kötü yönetildiği ile ilgili düşüncelerini arkadaşlarıyla paylaştı. Daha sonra bu alanda sistemli bir şekilde mücadele edebilmek için Vatan ve Hürriyet Cemiyeti'ni kurdu.

Mustafa Kemal'in bu çalışmaları, aşağıdakilerden hangisini kanıtlar niteliktedir?

- A) Ülke sorunlarına duyarlı olduğunu
B) Geniş askerî yetkilere sahip olduğunu
C) Türk milleti tarafından lider olarak kabul edildiğini
D) Milletın, devlet yönetiminde hâkim olmasını amaçladığını

19. Mustafa Kemal şehrinde Harp Okulu'nun piyade sınıfına girdi.

Yukarıdaki ifadede boş bırakılan yere aşağıdakilerden hangisi getirilirse doğru olur?

- A) Selânik B) Sofya
C) İstanbul D) Manastır

20.



Yukarıdaki öğrencilerin hangi şehir ile ilgili bilgi verdikleri söylenemez?

- A) İstanbul B) Şam
C) Sofya D) Selânik

21. Mustafa Kemal; "İki Mustafa Kemal vardır: Biri ben, et ve kemik, geçici Mustafa Kemal... İkinci Mustafa Kemal, onu 'ben' kelimesiyle ifade edemem; o, ben değil, "biz"dir! O, memleketin her köşesinde yeni fikir, yeni yaşam ve büyük ülkü için uğraşan aydın ve savaşçı bir topluluktur. Ben onların rüyasını temsil ediyorum. Benim girişimlerim, onların özlemini çektikleri şeyleri tatmin içindir. O Mustafa Kemal sizsiniz, hepinizsiniz. Geçici olmayan, yaşaması ve başarılı olması gereken Mustafa Kemal odur!"

Buna göre, Mustafa Kemal ile ilgili;

- I. Kişisel başarılarını her şeyden üstün tuttuğu,
- II. Türk milletinin isteklerini gerçekleştirmek için çalışmalar yaptığı,
- III. Kendisinin geçici, Türk milletinin ise kalıcı olduğuna inandığı

yargılarından hangisine ya da hangilerine ulaşılabilir?

- A) Yalnız I B) Yalnız II
C) I ve III D) II ve III

22. **Çanakkale Savaşları sırasında Arıburnu Cephesi'ni kumanda eden Mustafa Kemal;**

"Benimle beraber burada savaşan bütün askerler, kesin olarak bilmelidir ki, üzerimizde bulunan namus görevini tamamen yerine getirmek için bir adım geri gitmek yoktur. Uyku ve istirahat aramanın, bu istihattan yalnız bizim değil, bütün milletimizin ebediyen mahrum kalmasına sebebiyet verebileceğini hepimize hatırlatırım." **demıştır.**

Buna göre, Mustafa Kemal ile ilgili aşağıdakilerden hangisi söylenemez?

- A) Vatan topraklarını koruma mücadelesinden vazgeçmediği
B) Askerî alanda mücadeleye önem verdiği
C) Amacına ulaşmada kararlı bir politika izlediği
D) Siyasi başarıları nedeniyle yetkilerinin genişlediği

23. Mustafa Kemal, Çanakkale Cephesi'nde Türk milletine karşı savaşarak hayatını kaybeden askerler için şunları söylemiştir:
"Uzak diyarlardan evlatlarını harbe gönderen analar! Gözyaşlarınızı dindiriniz! Evlatlarınız bizim bağrımızdadır. Onlar bu topraklarda canlarını verdikten sonra, artık bizim evlatlarımız olmuşlardır."
Mustafa Kemal'in bu sözleri onunla ilgili aşağıdakilerden hangisini kanıtlar niteliktedir?

- A) Milletini her ulustan üstün gördüğünü
- B) Tüm insanlığa karşı saygılı olduğunu
- C) Dünya barışını sağlamak için öncü olduğunu
- D) Askerî alanda Batılı devletlerin desteğini aldığını

24. Mustafa Kemal 1913'te Sofya'da askerî ateşe olarak bulunduğu sırada I. Dünya Savaşı ile ilgili, "Hazırlıkların yetersiz olduğunu, Osmanlı Devleti'nin yorgun hâliyle bu savaşa katılmasının sakıncalı olacağını, savaşa girmemenin çarelerinin aranıp bulunmasını" rapor etmiştir.

Buna göre Mustafa Kemal ile ilgili;

- I. Sofya'da resmî görevinin olduğu,
- II. Hazırladığı raporla Osmanlı Devleti'ni savaş tehlikesinden kurtardığı,
- III. Devlet yöneticilerini savaş tehlikesine karşı uyardığı

yargılarından hangisi ya da hangileri söylenebilir?

- A) Yalnız I
- B) Yalnız II
- C) I ve III
- D) II ve III

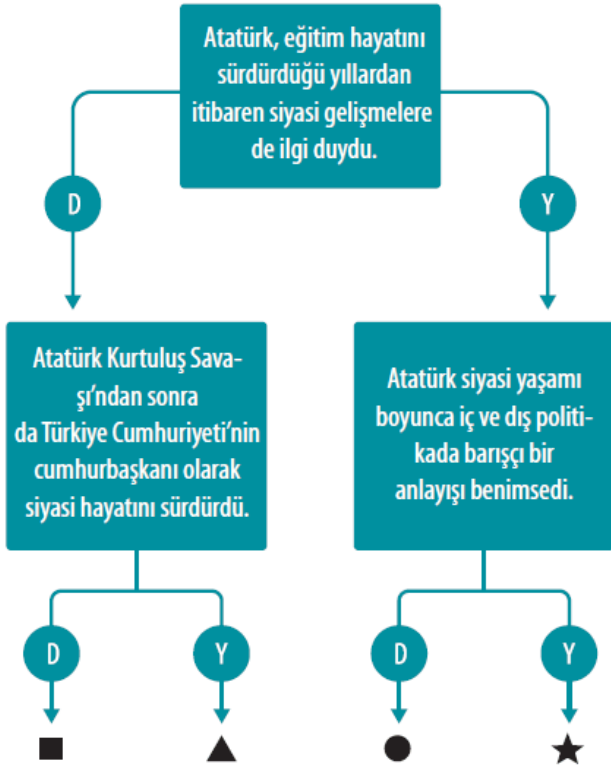
25. Atatürk'ün yetiştiği dönemde bir tarafta geleneksel öğretime devam eden, dinî derslerin ağırlıkta olduğu mektep ve medreseler; diğer tarafta Batı örneklerine göre kurulmuş okullar, askerî okullar ve çeşitli meslek okulları vardı. Bunun yanında ülkede yaşayan gayrimüslimlerin açtıkları azınlık okulları ile yabancı devletler tarafından açılan ve son dönemde sayıları gittikçe artan yabancı okullar da faaliyetliydi.

Bu okulların ner dırı, kendi amaları dođru-tusunda eđitim yapıyordu.

Yukarıdaki bilgiler Atatürk'ün yetiřtiđi dönemde ařađıdakilerden hangisinin olmadıđının göstergesidir?

- A) Eđitim ve ođretim birliđinin
- B) Eđitim kurumlarında eřitliliđin
- C) Avrupa tarzında aılan okulların
- D) Farklı uluslara ait eđitim kurumlarının

26.



Yukarıda birbiriyle bađlantılı cümleleri ieren bir etkinlik verilmiřtir. Bu etkinlikte verilen ifadelerin dođru ya da yanlıř olduđuna karar vererek ok yönünde ilerlendiđinde hangi sembole ulařılması gerekir?

- A) ■
- B) ▲
- C) ●
- D) ★

27. Mustafa Kemal, Selânik'te bulunduđu sırada kurduđu Vatan ve Hürriyet Cemiyeti ile birlikte İttihat ve Terakki Cemiyetine katıldı. Ancak İttihat ve Terakki Cemiyeti yöneticileri ile fikir ayrılıđına düřtüđü için bu cemiyetten ayrıldı. Bu olayla birlikte Mustafa Kemal siyasi faaliyetlere son vererek askerlik mesleđine yöneldi.

Buna göre, Mustafa Kemal ile ilgili ařađıdaki varılardan hangisine ulařılamaz?

ki yargılardan hangisine ulaşamaz.

- A) Ülke yönetiminde görev aldığı
- B) Askerî ve siyasi çalışmalarda bulunduğu
- C) Vatan ve Hürriyet Cemiyetinin kurulmasına öncülük ettiği
- D) İttihat ve Terakki Cemiyetinden farklı düşüncelere sahip olduğu

28. Atatürk, askerlik hayatı boyunca emrindeki birlikler ile büyük başarılar kazanmıştır. O, sayı bakımından kendisinden üstün olan birçok orduya karşı başarılı olmuştur. Çünkü ona göre savaş, askerî kuvvetten çok o kuvveti amaca uygun bir şekilde sevk ve idare etmektir.

Yukarıdaki bilgilerde Atatürk'ün daha çok hangi kişisel özelliği vurgulanmıştır?

- A) İnkılapçı olması
- B) Gurura yer vermemesi
- C) Millet sevgisine sahip olması
- D) Yöneticilik yeteneğine sahip olması

29.

Batıcılık, devletin ancak Batılılaşmak yoluyla kurtulabileceğini ve bunun için çeşitli alanlarda yeniliklerin yapılması gerektiğini savunan bir fikir akımıdır.

İslamcılık, İslamiyet ve dünyanın her tarafındaki Müslümanlara önem veren, bütün Müslümanlar arasında birliği sağlamaya çalışan bir fikir akımıdır.



BanuEmre

Banu ve Emre'nin yukarıdaki ifadeleriyle ilgili aşağıdakilerden hangisi söylenebilir?

	Banu	Emre
A)	Doğrudur.	Doğrudur.
B)	Doğrudur.	Yanlıştır.

C)	Yanlıştır.	Doğrudur.
D)	Yanlıştır.	Yanlıştır.

30.

Manastır şehri Mustafa Kemal'in fikir hayatının gelişmesinde etkili olmuş mudur?

Mustafa Kemal İstanbul'da devletin siyasi, ekonomik ve kültürel sorunları ile ilgilenmiş midir?

T.C. İnkılap Tarihi ve Atatürkçülük dersinde öğretmen, öğrencilerine yukarıdaki soruları sormuştur. Buna göre, öğrenciler aşağıdaki cevaplardan hangisini verirse doğru olur?

- A) Evet Hayır
B) Hayır Evet
C) Evet Evet
D) Hayır Hayır

31.

Mustafa Kemal'in doğduğu ve öğrenim hayatına başladığı Selânik şehri Makedonya'nın önemli yerleşim merkezlerinden biriydi. Siyasi ve kültürel açıdan çevre ülkelerin etkisine açık bir şehirdi. Selânik şehri Osmanlı Avrupasının kalbi, Balkanların en işlek limanıdır. Kent, deniz ve demir yollarıyla Avrupa'ya bağlanan bir ticaret merkezidir. Batı'dan sadece en yeni malların değil, en yeni fikirlerin taşındığı bir kenttir.



T.C. İnkılap Tarihi ve Atatürkçülük dersinde öğretmenin verdiği bilgilere göre, Selânik şehri ile ilgili aşağıdakilerden hangisi söylenemez?

- A) Bir liman şehri olduğu
B) Önemli bir ticaret merkezi olduğu
C) Farklı fikirlere kapalı bir şehir olduğu
D) Makedonya'da önemli bir yerleşim yeri

olduğu

32.

I. Dünya Savaşı'nda;

Osmanlı halifesinin yayımladığı cihat fetvası etkili olmamıştır.

Araplar, İngilizlerle birlikte Türk askerlerine karşı mücadele etmişlerdir.

Şemadaki bilgiler, "Osmanlı Devleti'nin bütünlüğünü korumaya yönelik ortaya atılan düşünce akımlarından" hangisinin başarılı olmadığını göstergesidir?

- A) Batıcılık B) İslamcılık
C) Osmanlıcılık D) Türkçülük

33. Aşağıdaki fikir akımlarından hangisi **daha çok II. Meşrutiyet ve sonrasında önem kazanmıştır?**

- A) Türkçülük B) Osmanlıcılık
C) İslamcılık D) Batıcılık

34.

Türkçülük akımı, Osmanlıcılık düşüncesinin Balkan Savaşları'nda başarısız olması üzerine ortaya çıktı.

Türkçülük akımı Ziya Gökalp'in katkılarıyla güç kazandı.

Tabloda verilen bilgilerden doğru olanların yanındaki kutucuğa ✓, yanlış olanların yanındaki kutucuğa X işareti konulacaktır. Buna göre doğru işaretleme aşağıdaki seçeneklerin hangisinde belirtildiği gibi olmalıdır?

- A) ✓ B) X C) ✓ D) X
 ✓ ✓ X X

35. Mustafa Kemal, Manastır'a Askerî İdadide lise öğrenimi görmek üzere geldi. Konsolosluklar ve ticaret şehri Manastır o dönemde aralarında çekişme olan çeşitli din ve milliyetten insanları barındırıyordu. Sırbistan, Bulgaristan ve Yunanistan, kendi kiliseleri aracılığıyla böl-

geye hâkim olmak istiyordu.

Yukarıdaki bilgilerden yararlanarak Manastır şehri ile ilgili;

- I. Ticaret şehri olduğu,
 - II. Mustafa Kemal'in lise eğitimi aldığı,
 - III. Farklı dinden insanların bulunduğu
- yargılarından hangisine ya da hangilerine ulaşılabilir?**

- A) Yalnız I B) Yalnız II
C) II ve III D) I, II ve III

36. Manastır'dan sonra Mustafa Kemal, eğitimine İstanbul'daki Harp Okulunda devam etti. İstanbul, Osmanlı Devleti'nin başkenti olan kalabalık bir şehirdi. Burada siyasi faaliyetleri yakından takip etmek mümkündü. Avrupalı devletlerin elçilikleri de İstanbul'da idi. Kültürel açıdan zengin olan İstanbul'da çeşitli fikir akımları etkiliydi. Mustafa Kemal İstanbul'da bulunduğu sırada çeşitli düşüncelerle karşılaşarak farklı kimselerin fikirlerini inceleme fırsatı buldu.

Buna göre, İstanbul'un aşağıdaki özelliklerinden hangisinin Mustafa Kemal'in fikir hayatının gelişmesine katkı sağladığı söylenebilir?

- A) Askerî açıdan önemli bir merkez olmasının
B) Farklı milletlerin bir arada bulunmasının
C) Ekonomik faaliyetlerin çeşitlilik göstermesinin
D) Farklı fikir akımlarına ve düşüncelere açık olmasının

www.supersoru.com

Cevaplar :

1)B, 2)C, 3)B, 4)B, 5)D, 6)D, 7)D, 8)B, 9)C, 10)A, 11)C, 12)B, 13)C, 14)C, 15)B, 16)A, 17)C, 18)A, 19)C, 20)A, 21)D, 22)D, 33)A, 34)A, 35)D, 36)D,