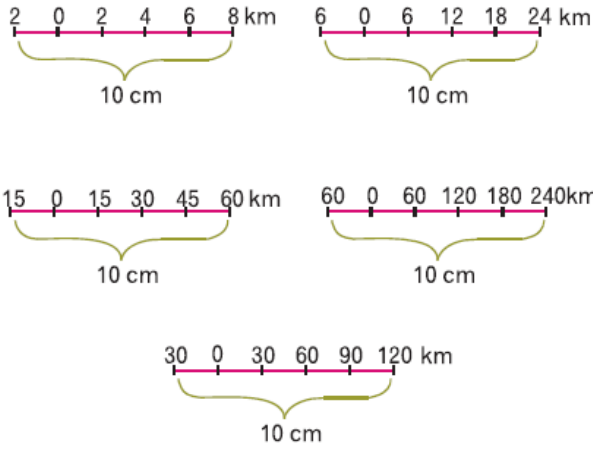


1.

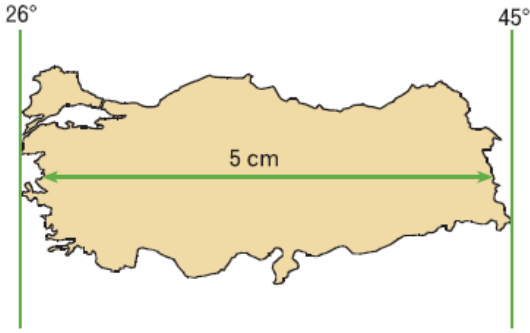


Yukarıda beş farklı çizik ölçek verilmiştir.

Buna göre, aşağıda verilen kesir ölçeklerden hangisinin yukarıda karşılığı yoktur?

- A) $1/100.000$ B) $1/150.000$ C) $1/300.000$
D) $1/750.000$ E) $1/3.000.000$

2.

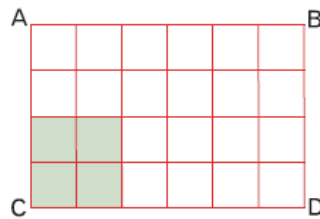


Ö: 1/31.200.000

Yukarıdaki verilere göre, Türkiye'nin doğusu ile batısı arasındaki mesafe gerçekte kaç km'dir?

- A) 160 B) 1560 C) 3200
D) 6400 E) 7200

3. Yanda verilen ABCD dikdörtgeninde, taralı bölününün harita alanı 9 cm^2 dir.



$1/500.000$ ölçekli bir haritaya ait olan ABCD

dikdörtgenin gerçek alanı kaç km^2 dir?

- A) 225 km^2 B) 270 m^2 C) 1125 km^2
D) 1350 km^2 E) 8100 km^2

4.



Yukarıdaki çizik ölçeklere göre hazırlanmış haritaların ayrıntıyı gösterme gücü **en az olandan; en fazla olana doğru** sıralanışı aşağıdakilerden hangisinde doğru olarak verilmiştir? (Çizik aralıkları 1 cm dir.)

A) I, II, III, IV, V

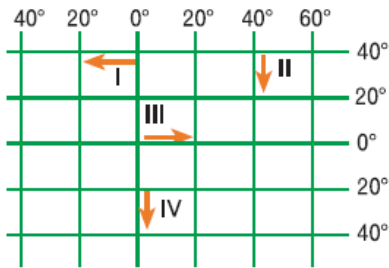
B) V, IV, III, II, I

C) III, IV, V, I, II

D) III, II, I, IV, V

E) IV, III, I, II, V

5.



Yukarıdaki koordinat sisteminde numaralandırılmış ok yönünde ve karalar üzerinde hareket eden dört araştırmacıdan hangileri ulaştıkları yerde iklim, bitki örtüsü ve tarım türlerinin **kesinlikle farklılık** gösterdiğini gözlemler?

A) Yalnız I

B) I ve II

C) II ve III

D) II ve IV

E) III ve IV

6. Meridyenleri belli olan A ve X merkezlerinin bu özelliklerinden yararlanarak aşağıdakilerden hangisine **ulaşamaz**?

A) A'nın Başlangıç Meridyeni'ne göre yarımküresi.

B) A noktasının kaçınıcı meridyende olduğu

C) A noktasının Başlangıç Meridyeni'ne açılal uzaklığı

D) A noktasının X noktasıyla arasındaki zaman farkı

E) A noktasının başlangıç paraleline olan uzaklığı

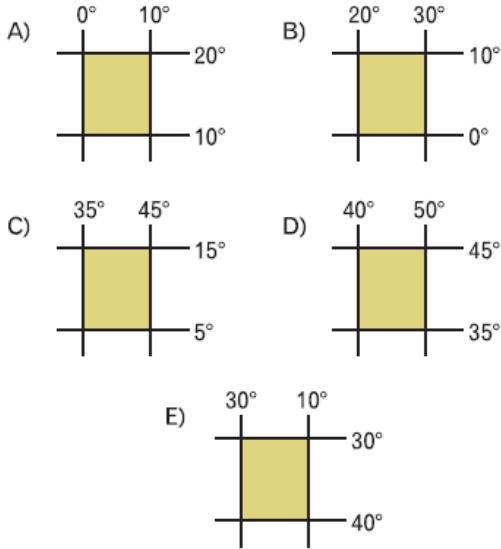
7. Aşağıdakilerden hangisi iki ayrı kentin aynı boylam üzerinde yer aldığını kanıtlar?

- A) Öğle vaktini aynı anda yaşamaları
- B) Güneşin doğuş ve batış saatlerinin bütün yıl aynı olması
- C) Aynı yarımkürede bulunmaları
- D) Yıl boyunca gece gündüz sürelerinin aynı olması
- E) Aynı anda, aynı mevsimlerin yaşanması

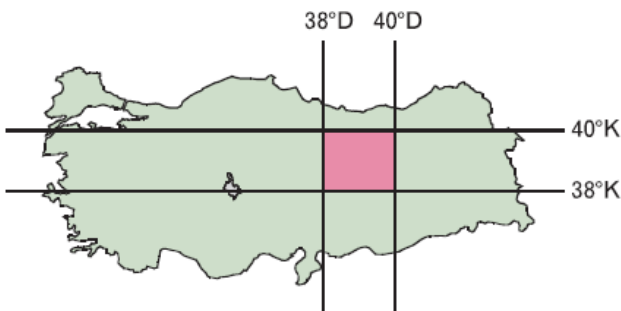
8. Aşağıda koordinatları belirtilmiş alanlardan hangisinde;

- Güneye doğru gidildikçe sıcaklıklar azalır.
- Kuzeye doğru gidildikçe meridyen aralıkları genişler.
- Doğuya doğru gidildikçe Başlangıç Meridyeni'ne yaklaşır.

durumların birlikte gerçekleştiği söylenebilir?



9.

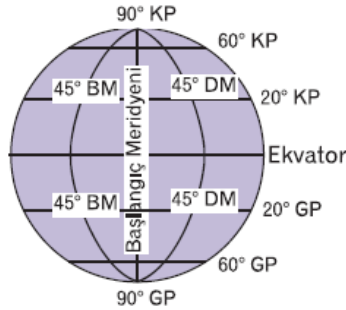


Yukarıdaki haritada koordinatları verilen tarafla

TURANLIĞI HATTINDA KOORDİNATLARI VERİLEN BAZI ALANLA İLGİLİ AŞAĞIDAKİLERDEN HANGİSİNE ULAŞILAMAZ?

- A) Orta Kuşak'ta yer alıp ılıman iklim özelliklerinin görüldüğü
- B) Kuzeyi ile güneyi arasında 222 km kuşuçu mu me- safe olduğu
- C) Başlangıç Meridyeni'nin doğusunda yer aldığı
- D) Kuzeye gidildikçe güneş ışınlarının daha küçük açılarla geldiği
- E) Batıya gidildikçe meridyen aralıklarının daraldığı

10. Yandaki şekilde veri- lenlere bakılarak aşağıdakilerden hangisine ulaşamaz?



- A) Bütün meridyenle- rin kutup noktala- rında birleştiklerine
- B) 20° paralellerinin daire boylarının, 60° paralellerin- den daha uzun olduklarına
- C) Paralel daire boylarının kutuplara gidildikçe kü- çüldüğüne
- D) Başlangıç meridyeninin en büyük meridyen yayı olduğuna
- E) Meridyen aralıklarının Ekvator'dan kutuplara gi- dildikçe daraldıklarına

www.supersoru.com

Cevaplar :

1)B, 2)B, 3)D, 4)E, 5)D, 6)E, 7)A, 8)E, 9)E, 10)D,