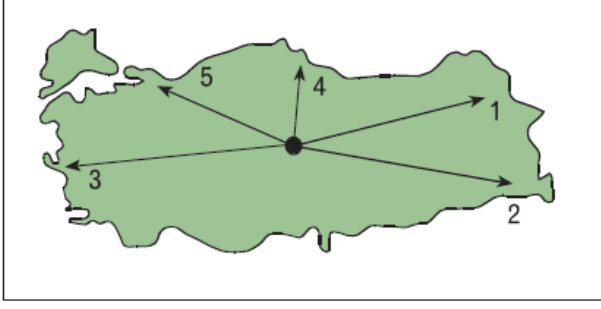


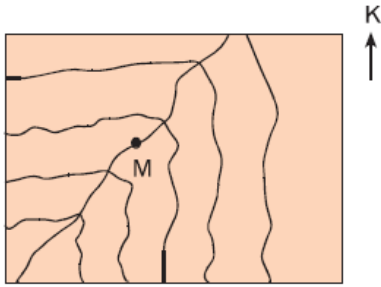
1. Fiziki haritalarda renklendirme yükselti basamaklarına göre yapılır.



Buna göre, yukarıdaki haritada işaretli yerden hareket eden araştırmacılardan hangileri ulaştıkları yerlerde kahverengi tonlarının harita yapımlarında daha fazla kullanıldığını söyleyebilir?

- A) Yalnız 1 B) Yalnız 2 C) 1 ve 2
D) 2 ve 3 E) 3 ve 4

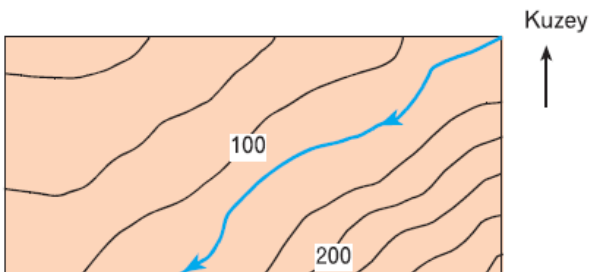
2.

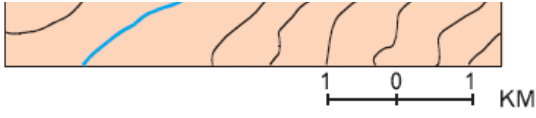


Yukarıdaki izohips haritasındaki M akarsuyunun akış yönü ile ilgili aşağıdakilerden hangisi söyleyebilir?

- A) Kuzeyden güneye doğru akmaktadır.
B) Güneybatıdan kuzeydoğuya doğru akmaktadır.
C) Kuzeydoğudan güneybatıya doğru akmaktadır.
D) Güneyden kuzeye doğru akmaktadır.
E) Doğudan batıya doğru akmaktadır.

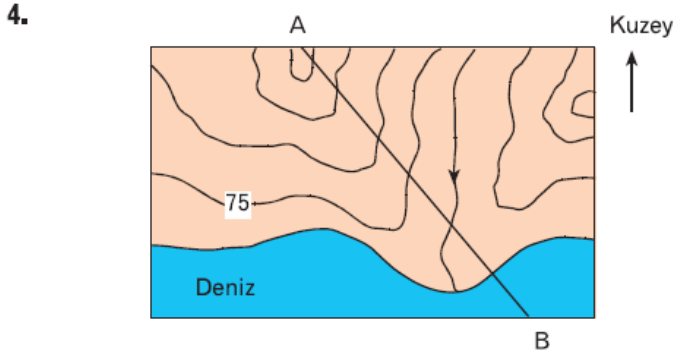
3.





Yukarıdaki izohips haritasına bakılarak aşağıdaki yargılardan hangisine ulaşamaz?

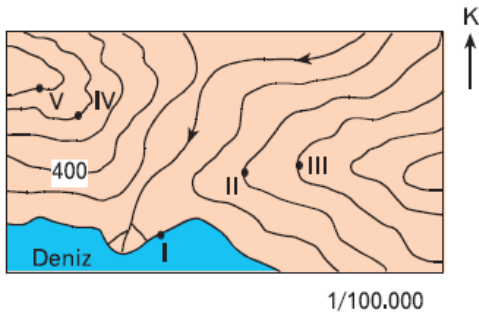
- A) Akarsuyun akış yönüne
- B) İzohipslerin aralık değerine
- C) Akarsuyun saniyede taşıdığı su miktarına
- D) Yamaçlardaki eğim farklılıklarına
- E) Yükseltinin güneydoğuda arttığına



Yukarıdaki izohips haritasında verilen AB hattı boyunca hangi yükseltiye kesinlikle rastlanmaz?

- A) 60
- B) 90
- C) 225
- D) 300
- E) 375

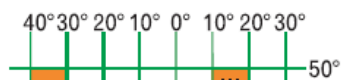
5. Yükselti arttıkça genellikle her 200 m'de sıcaklık 1°C azalır.



Buna göre, yukarıdaki izohips haritasında numaralandırılmış hangi yerler arasında sıcaklık farkının 5°C olduğu söylenebilir?

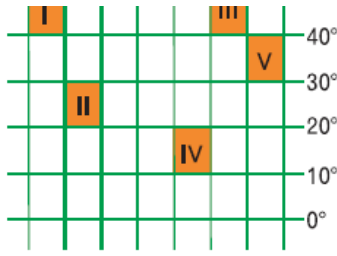
- A) I - V
- B) II - IV
- C) II - V
- D) III - IV
- E) IV - V

6. Türkiye $26^{\circ} - 45^{\circ}$ Doğu meridyenleri ile $36^{\circ} - 42^{\circ}$



Kuzey paralelleri arasında yer alır.

Buna göre; Türkiye'nin yanda gösterilen taralı alanlardan hangisinde toprakları vardır?



- A) I B) II C) III D) IV E) V

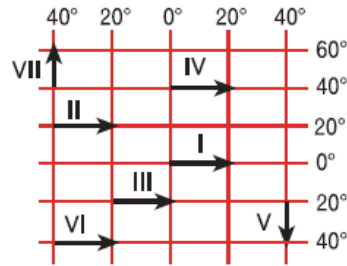
7. Aşağıda İzmit ve Burdur'un üzerinde bulunduğu meridyen gösterilmiştir.



Buna göre, aşağıdakilerden hangisi İzmit ve Burdur'un ortak özelliklerinden biri değildir?

- A) Başlangıç Meridyeni ile aralarındaki zaman farkı
B) Yerel saatleri
C) Tarih değiştirme çizgisine olan uzaklıkları
D) Öğle vakitleri
E) 23 Eylül'de Güneş'in doğuş saatleri

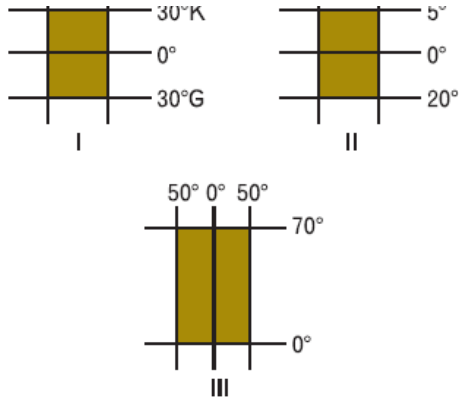
8. Yanda koordinatları verilen alanlarda numaralandırılmış doğrultuların hangi ikisi arasındaki kuş uçuşu uzaklık birbirine eşit değildir?



- A) I ve V B) II ve III C) IV ve VI
D) IV ve VII E) V ve VII

9. Aşağıda coğrafi koordinatları verilmiş üç bölge gösterilmektedir.





Bu bölgelerin, saat dilim sayısı en çok olandan, en aza doğru sıralanışı aşağıdakilerden hangisinde verilmiştir?

- A) III, II, I B) II, I, III C) I, II, III
D) III, I, II E) I, III, II

10.



Yukarıda Türkiye'ye ait boyutları farklı iki harita verilmiştir.

Bu haritalar ile ilgili olarak aşağıda verilen bilgilerden hangisi doğrudur?

- A) Gösterdikleri gerçek alan farklıdır.
B) II. haritada hata oranı daha fazladır.
C) I. haritada ayrıntı daha fazladır.
D) Aynı yükseklikten bakılarak çizilmişlerdir.
E) İstanbul - Ankara arası harita uzunluğu II. haritada daha fazladır.