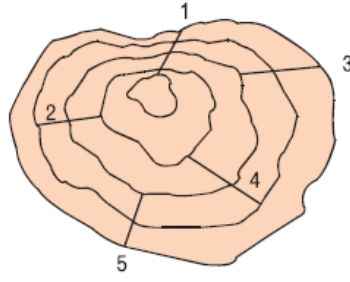
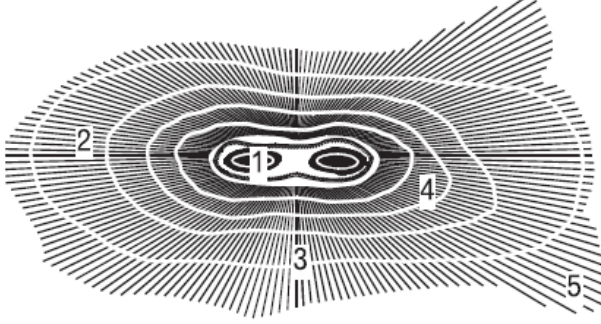


1. Eşyüksekti eğrileriyle çizilmiş yandaki yer-şeklinde numaralanmış doğrultuların hangisinde eğim en fazladır?



- A) 1 B) 2 C) 3 D) 4 E) 5

2.



Yukarıda tarama yöntemiyle çizilen haritada verilen yerlerin hangileri arasında yükselti farkı en fazladır?

- A) 1-4 B) 1-5 C) 2-3 D) 2-4 E) 3-5

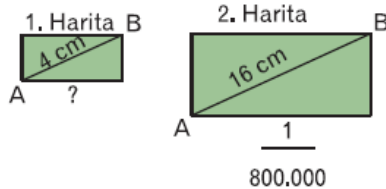
3.



Yukarıdaki Türkiye haritasında verilen alanların hangilerinde gerçek alan ile izdüşüm alan arasındaki fark en azdır?

- A) I ve III B) I ve IV C) II ve III
D) III ve V E) IV ve V

4. Yandaki şekillerde verilen A-B arası uzaklık 2. haritada 16 cm olarak gösterilmiştir.



Buna göre, aynı mesafeyi 4 cm olarak gösteren 1. haritanın ölçeği aşağıdakilerden hangisinde doğru

olarak verilmiştir?

- A) $\frac{1}{200.000}$ B) $\frac{1}{400.000}$ C) $\frac{1}{2.400.000}$
D) $\frac{1}{3.200.000}$ E) $\frac{1}{4.000.000}$

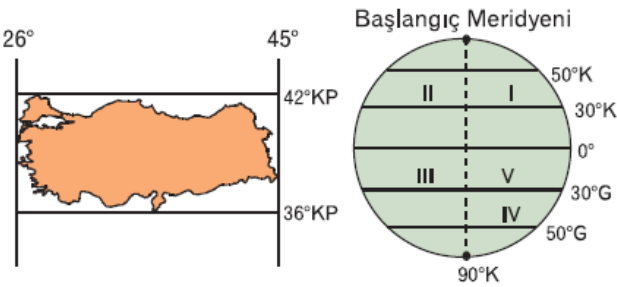
5. Aynı enlem ve yarımküre üzerinde olan merkezle ilgili aşağıdakilerden hangisinin kesinlikle geri olduğu söylenebilir?

- A) Öğle vakti gölge boyları ve yönleri
B) Başlangıç Meridyeni'ne olan uzaklıkları
C) Yer şekilleri ve yükselti değerleri
D) Denizlere veya göllere göre konumları
E) Gelişmişlik dereceleri

6. Aşağıdakilerden hangisi bir yerin enlem özellikleri ile açıklanamaz?

- A) Yıl içinde güneş ışınlarının geliş açısı
B) Yer aldığı matematik iklim kuşağı
C) Okyanuslara veya denizlere olan uzaklığı
D) Hangi sürekli rüzgarların etkili olduğu
E) Kutuplara ne kadar uzakta olduğu

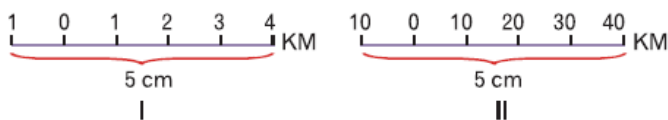
7.



Türkiye'nin coğrafi koordinatlarına bakılarak, yukarıdaki şekilde kaç numaralı yerde olabileceği söylenebilir?

- A) I B) II C) III D) IV E) V

8.



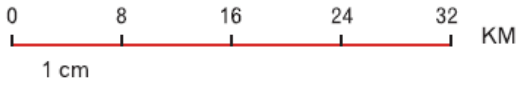
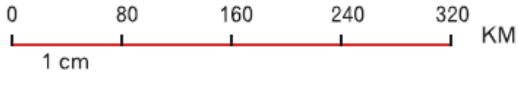

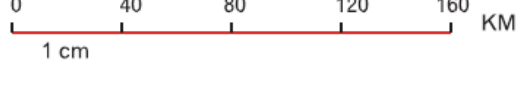

Yukarıdaki çizik ölçeklerin kesir ölçek olarak de

Yukarıdaki çizik ölçeğini kesik ölçek olarak değeri aşağıdakilerden hangisinde gösterilmiştir?

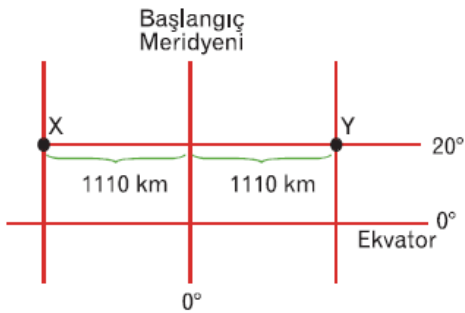
- I II
- A) $\frac{1}{100.000}$ $\frac{1}{1.000.000}$
- B) $\frac{1}{1.000.000}$ $\frac{1}{1.000.000}$
- C) $\frac{1}{10.000.000}$ $\frac{1}{100.000.000}$
- D) $\frac{1}{50.000.000}$ $\frac{1}{50.000.000}$
- E) $\frac{1}{100.000.000}$ $\frac{1}{100.000.000}$

9. Bir haritada 8 cm olan bir karayolunun uzunluğu gerçekte 640 km'dir.

Bu haritanın çizik ölçeği aşağıdakilerden hangisidir?

- A)  0 8 16 24 32 KM
1 cm
- B)  0 80 160 240 320 KM
1 cm
- C)  0 10 20 30 40 KM
1 cm
- D)  0 40 80 120 160 KM
1 cm
- E)  0 20 40 60 80 KM
1 cm

10.



Yukarıdaki şekilde gösterilen X ve Y noktalarıyla ilgili aşağıdaki yargılardan hangisinin doğru olduğunu savunulamaz?

ya savunulamaz.

- A) Ekvator'a uzaklıkları eşit olup, 2220 km'dir.
- B) Başlangıç Meridyeni ile aralarındaki yerel saat farkları eşittir.
- C) X ve Y noktaları arasında 20 meridyen aralığı yer alır.
- D) Yıl boyu gündüz süreleri birbirine eşittir.
- E) Meridyen aralıkları Ekvator'a göre daha küçüktür.

www.supersoru.com

Cevaplar :

1)A, 2)B, 3)B, 4)D, 5)A, 6)C, 7)A, 8)A, 9)B, 10)C,