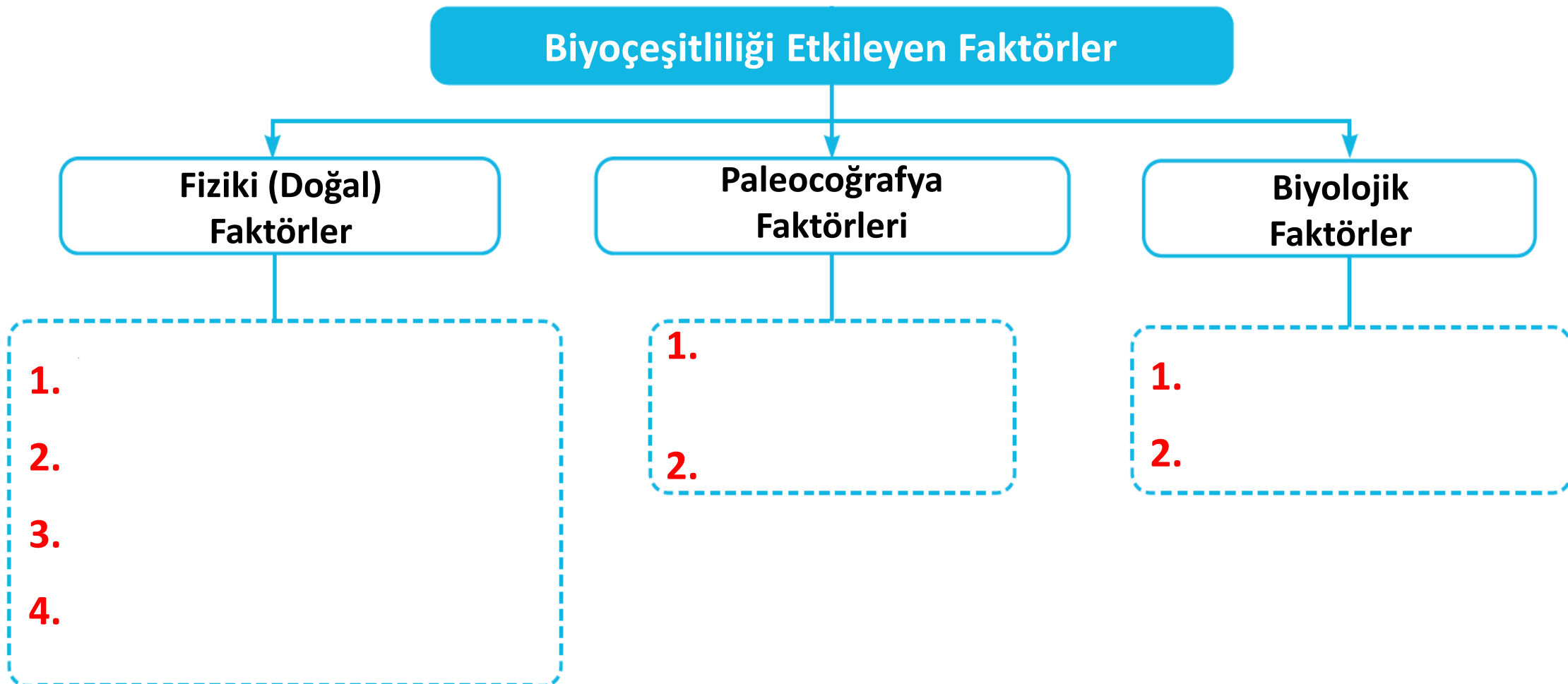


## Soru 1

Aşağıdaki şemaya biyoçeşitliliği etkileyen faktörleri yazınız.



## Soru 2

Aşağıdaki ifadelerden, biyoçeşitliliğin yeryüzüne dağılışında iklim faktörü ile ilişkili olanlarını yanlarındaki alanda (✓) işareti ile belirtiniz.

- Alüvyal toprakların bulunduğu alanlarda biyoçeşitliliğin daha fazla olması.
- Orta kuşakta kışın yaprağını döken ormanların bulunması.
- Yıl boyu sıcak ve nemli olan ekvatorial bölgede yağmur ormanlarının bulunması.
- Kuvaterner'de görülen buzullaşma sonucu canlıların sıcak bölgelere doğru göç etmesi.
- Tarım alanlarının genişlemesi ile doğal bitki örtüsünün tahrip edilmesi.
- Kuzey Afrika'da biyoçeşitliliğin az olması.

### Soru 3

Biyoeęitlilięin az ve fazla olduęu biyomlara ikişer örnek veriniz.

Biyoeęitlilięin Az Olduęu Biyomlar
1
2

Biyoeęitlilięin Fazla Olduęu Biyomlar
1
2

**Soru 4**

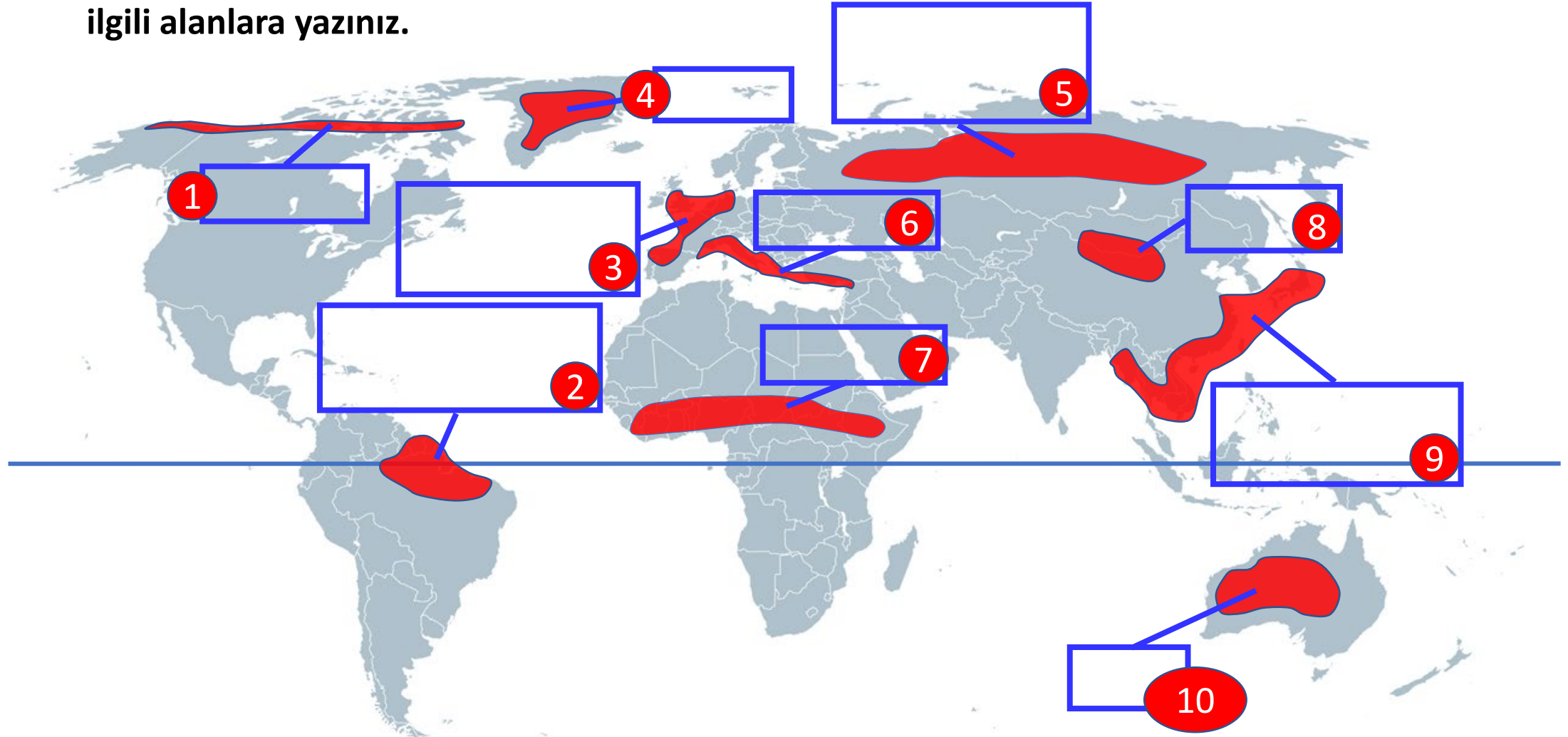
**Tropikal yağmur ormanları ve çöl biyomunun aşağıdaki tablolarda belirtilen özelliklerini yazınız.**

Tropikal Yağmur Ormanları Biyomu	
İklimi:	
Bitkileri:	
Hayvan Türleri:	
Dünya'da dağılışına örnek yerler:	

Çöl Biyomu	
İklimi:	
Bitkileri:	
Hayvan Türleri:	
Dünya'da dağılışına örnek yerler:	

### Soru 5

Aşağıda verilen haritada taranan alanlarda görülen biyomların isimlerini ilgili alanlara yazınız.



## Soru 6

Verilen besin piramidinde ok yönünde meydana gelen değişimlerden üçünü yazınız.

1

.....

2

.....

3

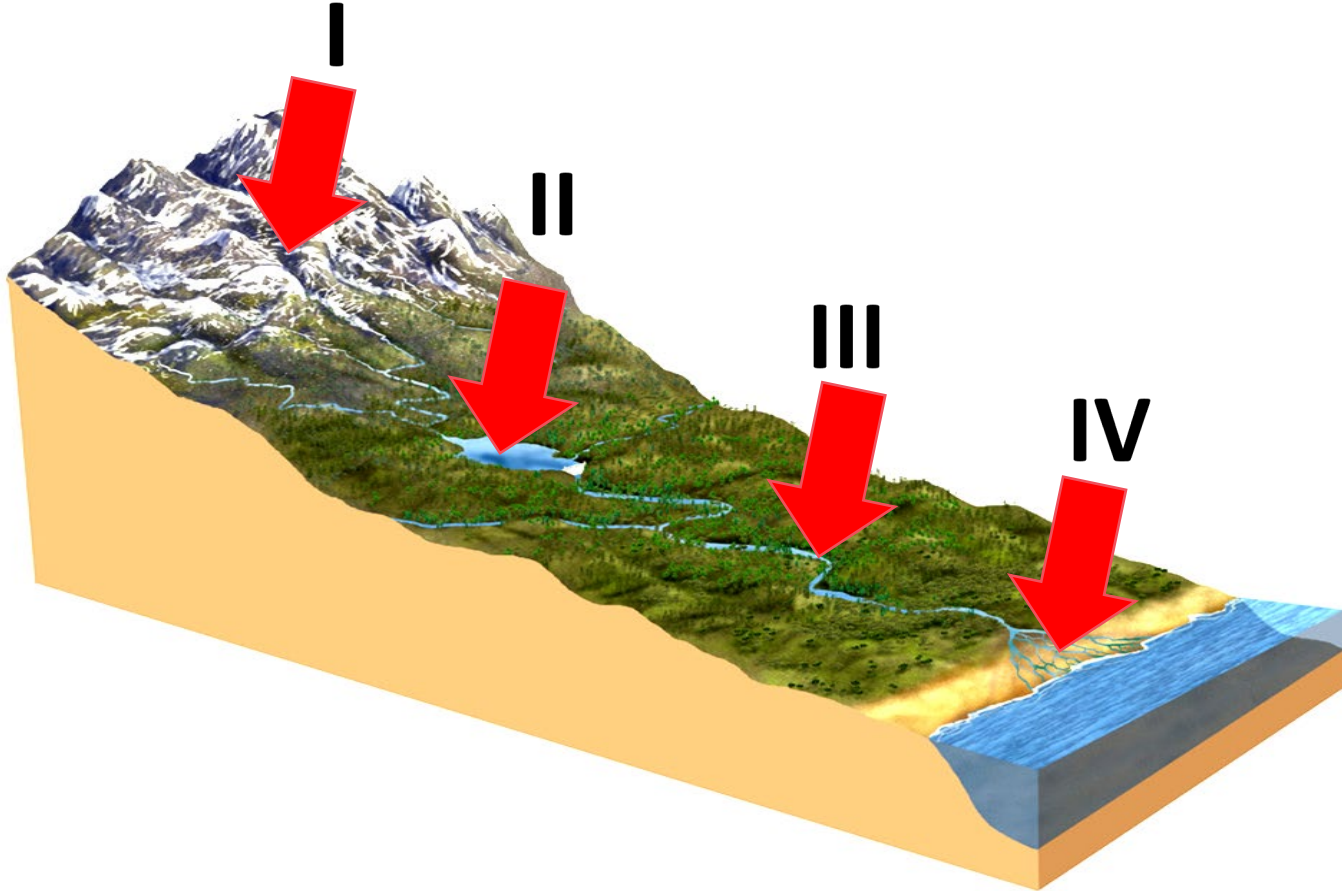
.....





### Soru 8

Aşağıdaki akarsu ekosisteminde biyoçeşitliliğin daha az olduğu yeri belirleyerek, biyoçeşitliliğin daha az olmasının nedenlerini yazınız.





## Soru 9

Verilen cümlelerdeki boşluklara doğru ifadeleri yazınız.

Sıcaklığın yıl boyunca 0 ° C altında olduğu ..... biyomunda canlı tür ve sayısı azdır.

Canlıların ihtiyaçları olan maddeleri yaşadıkları ortamdan alıp gerekli kullanım sonrası vermesine ..... denir.

Yazların sıcak ve kurak kışların ılık ve yağışlı geçtiği Akdeniz iklim bölgelerinde ..... biyomu görülür

Buharlaştırma ve yağışın fazla olduğu yerlerde .....döngüsü daha hızlıdır.

Benzer bitki ve hayvan topluluklarını barındıran bölgelerin her birine ..... denir.

..... uzun yıllar tek çocuk politikası uygulayarak nüfus artış hızını düşürmeye çalışmıştır.

**Soru 10**

**Dünya'da uygulanan nüfus politikalarını yazarak, bu politikaları uygulayan ülkelere ikişer örnek veriniz.**

<b>Nüfus Politikaları</b>	<b>Politikayı Uygulayan 1. Örnek Ülke</b>	<b>Politikayı Uygulayan 2. Örnek Ülke</b>

## Soru 11

Nüfus artış hızının yükselmesinin olumlu sonuçlarına dört örnek yazınız.

1

2

3

4

**Soru 12**

**Türkiye'nin 1923-1965 Döneminde uyguladığı genel nüfus politikasını iki gerekçesi ile birlikte yazınız.**

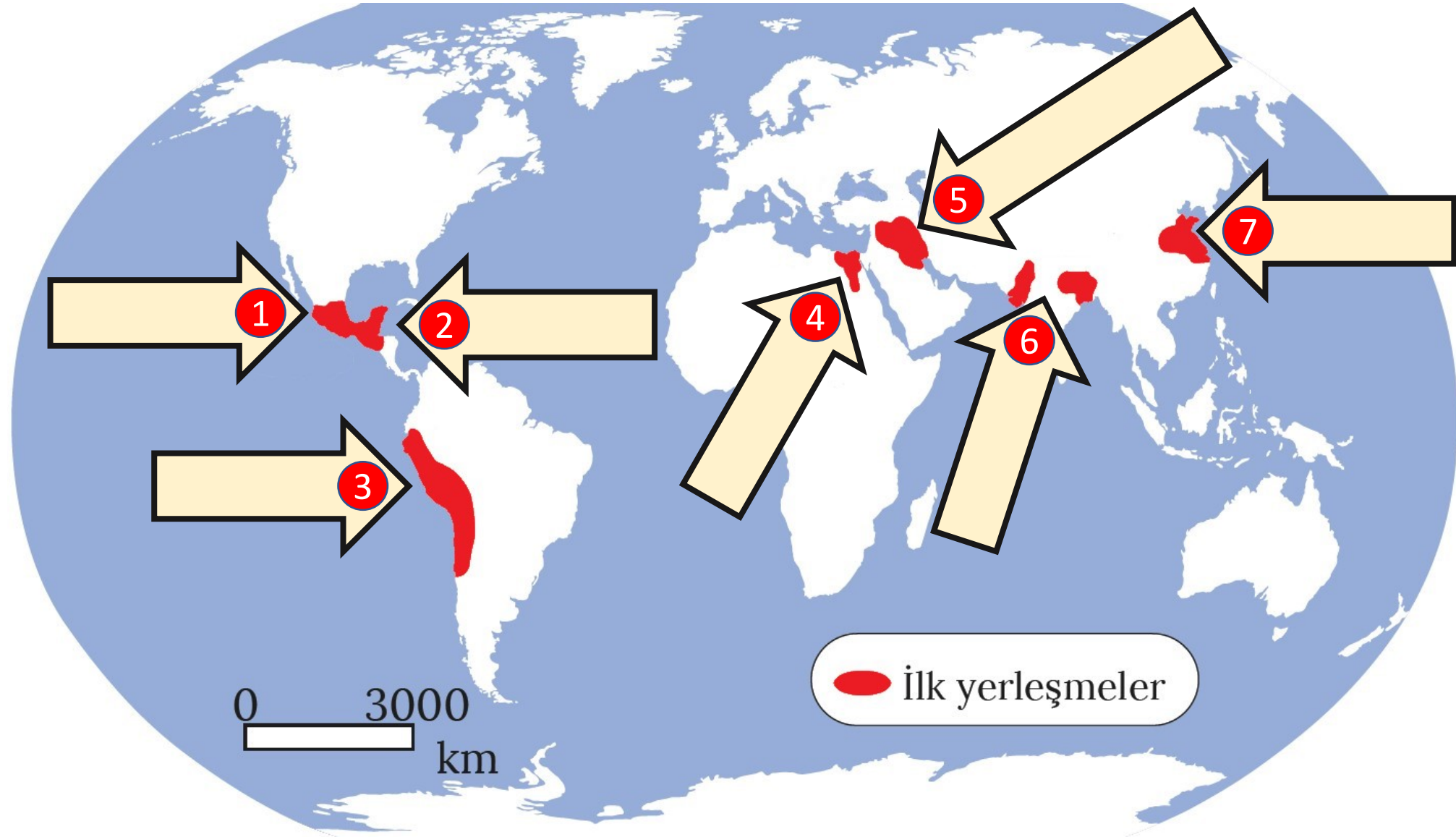
<b>1923-1965 Politikası</b>	
<b>1. Gerekçe</b>	
<b>2. Gerekçe</b>	

## Soru 13

**Nüfus projeksiyonunu tanımlayınız.**

**Soru 14**

Haritadaki alanlarda kurulan ilk medeniyetlerin isimlerini oklar üzerine yazınız.



## Soru 15

Dünyada ilk yerleşmelerin kurulduğu yerlerin dört ortak özelliğini yazınız.

1

2

3

4

## Soru 16

Dünyada küresel etkiye sahip şehirlere beş örnek yazınız.

1

2

3

4

5



**Soru 17**

Aşağıdaki şehirlerin en belirgin fonksiyonunu yanlarındaki alanlara yazınız.

Şehir	Fonksiyon
Oxford	
Ottawa	
Kudüs	
Essen	
Hamburg	

Şehir	Fonksiyon
Miami	
Marsilya	
Manchester	
Medine	
New York	

## Soru 18

Türkiye'deki sakin şehirlere beş örnek yazınız.

1

2

3

4

5

## Soru 19

Verilen ifadelerin sol tarafındaki alana, doğru olanlarına (D) yanlış olanlarına (Y) yazınız.

• Yaklaşık 10 000 yıl önce insanların tarımsal faaliyetlere başlaması göçebe hayata geçmeyi kolaylaştırmıştır.

• Roma'nın küresel çapta etki alanı oluşturmasında idari ve dini fonksiyonu etkili olmuştur

• 2005 sonrasında Türkiye'de nüfus artış hızını artırmaya yönelik nüfus politikası uygulanmaktadır.

• Küresel etkiye sahip şehirlerin büyük bölümü Kuzey Yarımküre'de yer almaktadır.

• Taşkent, Buhara ve Semerkant Özbekistan'da yer alan önemli Türk-İslam şehirleridir.

• Bursa, Sinop, Ordu, Adana önemli liman şehirleridir.

## Soru 20

Aşağıdakileri ifadeleri **çiftlik, yayla, divan, dalyan, oba** yerleşmelerinden doğru olanı ile eşleştiriniz.

Genellikle ilkbahar ve yaz mevsimlerinde yüksek kesimlerdeki gür ot topluluklarından hayvancılık faaliyetlerinde yararlanmak amacıyla oluşturulan geçici yerleşmelere denir.

Göçebe yaşayan ailelerin hayvancılık yapmak amacıyla oluşturduğu geçici yerleşmelerdir. Genellikle çadırlardan oluşan bu yerleşmeler Orta Karadeniz'in güneyinde ve Toroslar'da yaygındır.

Geniş araziler üzerine kurulmuş, arazi sahipleri ve çalışanlar için evlerin bulunduğu, etrafı çevrili yerleşmedir.

Birbirine uzak birden fazla mahallenin birleşmesiyle oluşmuş yerleşmelere denir. Özellikle Karadeniz'de yaygındır.

Deniz, göl ya da akarsu kenarlarında balık avlamak ya da üretmek için kurulmuş geçici yerleşmelere denir.