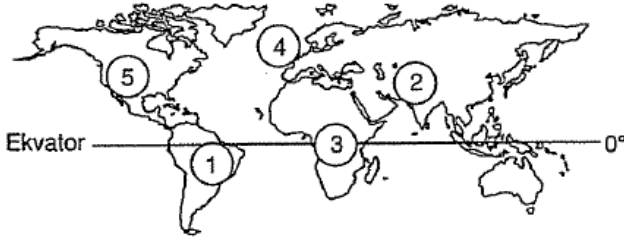


1. Aşağıdaki dünya haritasında bazı alanlar işaretlenmiştir.



Bunlardan hangisi NAFTA'ya üye ülkelerin bulunduğu alana işaret etmektedir?

- A) 1 B) 2 C) 3 D) 4 E) 5

2. I. İnsuyu Mağarası
II. Kestel Polyesi
III. Kızılören Obruğu
IV. Cennet Cehennem Obruğu
V. Karain Mağarası

yukarıdaki karstik oluşumlardan hangisi, turizm faaliyetleri dışındaki bir ekonomik faaliyete hizmet etmektedir?

- A) I B) II C) III D) IV E) V

3. Aşağıda Cumhuriyet döneminde gerçekleşen bazı olaylar verilmiştir.

- I. İzmir iktisat kongresi
II. Teşvik-i sanayi kanunu
III. Kabotaj kanunu
IV. Montrö sözleşmesi

Buna göre hangilerinin denizyollarını doğrudan etkilediği söylenebilir?

- A) I ve II B) II ve III C) III ve IV
D) I ve III E) II ve IV

4. İtalya'nın Vigenella köyü dağlar arasındaki bir vadi-
de yer aldığından güneş ışığını görememe sıkıntısı-
sını aşmak için maliyeti fazla olan bir ayna düzene-
ği kurmuştur.

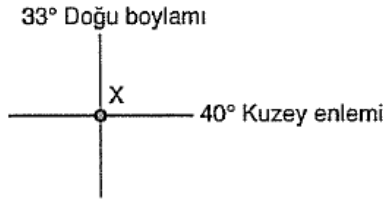
Yer şekilleri özellikleri dikkate alındığında aşağıdaki ülkelerden hangisinde yer alan köylerin böyle bir sıkıntı çekeceği söylenemez?

- A) Afganistan B) Polonya C) Avusturya
D) Norveç E) İsviçre

5. Kızıldeniz'i Akdeniz'e bağlayan Süveyş Kanalı'nın açılması aşağıdakilerden hangisini etkilememiştir?

- A) Akdeniz Hint okyanusu gemi ulaşım süresini
B) Çevresindeki bitki ve hayvan türleri geçişini
C) Bölgedeki gelir kaynaklarını
D) Kıtalararası hava ulaşımını
E) Bölgenin jeopolitik önemini

6.



Yukarıdaki şekilde koordinatları verilen X merkezinde yaşayan Hakan, uluslararası bir kongreye katılmak üzere başka bir ülkedeki Y merkezine gidiyor. Hakan X merkezine göre Y merkezinde;

- Gündüz süresinin daha uzun
- Yerel saatin daha geri
- Gece ve gündüz süreleri arasındaki farkın daha az olduğunu tespit etmiştir.

Buna göre, kongrenin gerçekleşebileceği tarihlerden biri ve Hakan'ın hareket yönü aşağıdakilerden hangisinde doğru olarak verilmiştir?

	<u>Kongrenin Tarihi</u>	<u>Hareket Yönü</u>
A)	21 Aralık	Güneybatı
B)	21 Aralık	Güneydoğu
C)	21 Aralık	Kuzeybatı
D)	21 Mart	Güneybatı
E)	21 Haziran	Güneybatı

7. Yer kabuğunda meydana gelen salınım ve titreşim hareketleri olarak tanımlanan deprem can ve mal kayıplarına neden olan doğal bir afettir.

Aşağıdakilerden hangisi depremin yol açtığı can ve mal kayıplarını en aza indirmek için baş-

vurulan yollarından biri değildir?

- A) Fay hatları üzerinde büyük yerleşim merkezleri kurulmamalı ve yüksek katlı binalar yapılmamalıdır.
- B) Binalardaki yapı malzemesi ve yapı tekniği sarsıntılara dayanıklı olmalıdır.
- C) Deprem konusunda halk eğitilmelidir.
- D) Binaların yapıldığı yerler genelde yer altı suyu bakımında zengin olan alüvyal alanlar olmalıdır.
- E) Deprem sırasında merdiven ve tavan boşluklarında durulmamalıdır.

8. İnsanların gezmek, görmek, eğlenmek, dinlenmek amacıyla yaptığı gezilere turizm denir.

Her hangi bir ülkede turizmin gelişmesinde doğal güzelliklerin yanı sıra ülkenin matematik konumunun, beşeri ve ekonomik şartlarının da önemli bir yeri vardır.

Buna göre, aşağıdaki ülkemiz turizm olanaklarının hangisinin gelişmesinde beşeri şartların rolü en büyüktür?

- A) Akdeniz Bölgesinde plajların geniş yer kaplaması
- B) İstanbul'da Yerebatan Sarnıcı'nın bulunması
- C) Denizli'de Pamukkale Travertenlerinin bulunması
- D) İç Anadolu Bölgesi'nde Peribacalarının bulunması
- E) Uludağ'da kış turizminin gelişmesi

9. İngiltere'de yaz turizminin Fransa ve İspanya'daki gibi yaygın ve önemli bir gelir kaynağı olmamasında;

- I. Yağış rejiminin düzenli olması
- II. Okyanus üzerinde bir ada olması
- III. Yüzey şekillerinin sade olması
- IV. Bulutluluk oranının fazla olması

özelliklerinden hangileri etkili değildir?

- A) I ve II
- B) III ve IV
- C) I ve IV
- D) II ve III
- E) II ve IV

10. Aşağıda verilen kıta ve bulundurduğu kanal, boğaz ya da tünel eşleşmelerinden hangisi yanlıştır?

- A) Asya – Don Volga Kanalı
- B) Güney Amerika – Macellen Boğazı
- C) Asya – Kiel Kanalı
- D) Avrupa – Manş Tüneli
- E) Asya – Hürmüz Boğazı

11. Aşağıdaki tabloda 2004, 2005 ve 2006 yıllarında aylara göre yabancılardan elde edilen turizm gelirleri verilmiştir. (100 dolar olarak)


Aylar	2004	2005	2006
Ocak	394 025	457 173	457 390
Şubat	365 087	402 539	379 758
Mart	475 519	603 573	530 307
Nisan	620 106	695 016	718 863
Mayıs	1 017 825	1 226 584	1 034 000
Haziran	1 176 696	1 321 326	1 303 122
Temmuz	1 645 294	2 017 491	1 801 297
Ağustos	2 165 634	2 503 710	2 312 933
Eylül	1 739 695	1 968 761	1 764 319
Ekim	1 450 009	1 603 360	1 161 131
Kasım	643 278	681 659	606 459
Aralık	430 890	448 105	484 381
toplam	12 124 059	13 929 300	12 553 966

Kaynak: TÜİK 2006

Tablodaki bilgilere dayanarak aşağıdakilerden hangisine ulaşamaz?

- A) Toplam gelen turist sayısının 12 milyonun altına düşmediğine
- B) En fazla turizm gelirin yaz mevsiminde kazandığına
- C) Üç yılda da en az turizm gelirin Şubat ayında olduğuna
- D) Turizm gelirin şubat ayından itibaren Ağustos ayına kadar sürekli arttığına
- E) En fazla turizm gelirin yaz aylarında olduğuna

12. Aşağıdaki haritada aktif volkanların yeryüzündeki dağılışı gösterilmiştir.





Aşağıdaki oluşumlardan hangisinin bu dağılışıla paralellik göstermesi beklenmez?

- A) Levha sınırlarının
- B) Jeotermal bölgelerin
- C) Genç kıvrım dağların
- D) Diri fay hatlarının
- E) Karstik göllerin

13. Uluslararası alanda işbirliğinin ve uyumun artması, ülkelerin ortak hareket etme bilincinin gelişmesi ve sosyal, ekonomik, siyasi ve çevresel sorunların küresel boyut kazanması uluslararası alanda faaliyet yürüten örgütlerin doğmasına neden olmuştur. Bu örgütlerin amaçları ile kuruluşları ve üyeleri arasında yakın bir ilişki vardır.

Buna göre, aşağıdaki uluslararası örgütlerden hangisine hiç bir devlet veya hükümet üye değildir?

- A) OECD
- B) NATO
- C) Greenpeace
- D) NAFTA
- E) OPEC

14. Aşağıda tarihsel süreçteki bazı teknolojik gelişim aşamaları verilmiştir.

- I. Pulluğun icadı
- II. Kimyasal gübre kullanımı
- III. Makine kullanımı
- IV. Biyoteknoloji

Buna göre yukarıda verilen teknolojik gelişimler aşağıdaki ekonomik faaliyetlerden hangisi ile ilgilidir?

- A) Sanayi
- B) Ticaret
- C) Tarım
- D) Ulaşım
- E) Turizm

15. Ülkemizde;

- I. Tarım ürünü
- II. Hammadde
- III. Mamul madde
- IV. Hizmet

ürünlerinden hangileri kentsel alandan kırsal alana doğru olan iç ticarete konu olmamaktadır?

- A) I ve II B) II ve III C) III ve IV
D) II ve IV E) I ve III

16. Türkiye'nin Cumhuriyetin ilk yıllarında nüfusu arttırmaya yönelik politika izlemesindeki aşağıdaki amaçlardan hangisi kırsal alandaki işleyişe yöneliktir?

- A) Tarımda makineleşmenin yetersizliği
- B) Sanayileşmeyi hızlandırma
- C) Askeri güç sağlama
- D) Siyasi otoriteyi güçlendirme
- E) Halk sağlığını iyileştirme

www.supersoru.com

Cevaplar :

1)E, 2)B, 3)C, 4)B, 5)D, 6)A, 7)D, 8)B, 9)D, 10)C, 11)A, 12)E, 13)C, 14)C, 15)C, 16)A,