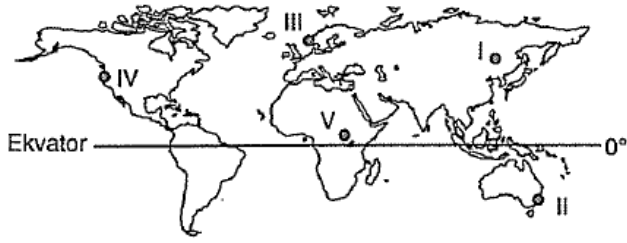


1.



Yıllık yağışın fazla olduğu buna karşılık yıllık sıcaklık farkının çok az olduğu bir iklim bölgesinde yetiştirme imkanı bulan bir bitkinin işaretli alanlardan hangisinde uygun yaşam koşullarını bulması beklenir?

- A) I B) II C) III D) IV E) V

2. Aşağıdaki Türkiye haritasında bazı merkezler verilmiştir.



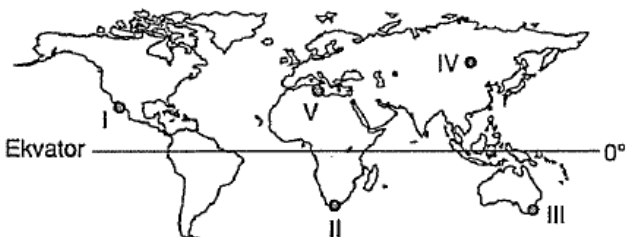
Haritadaki merkezlerle ilgili olarak verilen;

- I. İzmir'de kışların Şanlıurfa'dan daha ılık geçmesi
- II. Rize ve Samsun'da güneş ışınlarındaki tutulma oranının diğerlerine göre daha fazla olması
- III. Mersin'de kışların Samsun'a göre daha ılık geçmesi
- IV. Rize'de yerel saatin İzmir'e göre daha ileri olması

özelliklerinden hangileri enlem etkisiyle açıklanabilir?

- A) I ve II B) I ve III C) II ve III  
D) II ve IV E) III ve IV

3. Akdeniz bölgesinde yazları sıcak ve kurak kışları ılık ve yağışlı bir iklim vardır. Bu iklimde keçiboynuzu ve zeytin ağaçlarına sık rastlanır.



Buna göre haritada işaretli alanlardan hangisinde keçiboynuzu ve zeytin ağaçlarına rastlanmaz?

A) V      B) IV      C) III      D) II      E) I

4. Aşağıda nüfus miktarının etkili olduğu alanlar verilmiştir.

- I. Vergi gelirlerini artırır.
- II. Doğal kaynakların işletilmesini sağlar.
- III. Km<sup>2</sup> ye düşen kişi sayısını artırır.
- IV. Askeri güç oluşturur.

Buna göre hangileri günümüz teknolojisinde etkisini yitirmiştir?

- A) I ve II      B) II ve III      C) III ve IV  
D) I ve III      E) II ve IV

5. Şiddetli deprem ve volkanizmanın tetiklediği tsunami büyük okyanus ve çevresindeki adalarda ciddi zararlara yol açmaktadır.

Aşağıdaki adalardan hangisi bunlardan biri değildir?

- A) Yeni Zelanda      B) Japon Adaları  
C) Azor Adaları      D) Hawaii Adaları  
E) Galapagos Adaları

6. I. İnka Uygarlığı  
II. Mezopotamya Uygarlığı  
III. Çin Uygarlığı  
IV. Mısır Uygarlığı  
V. Maya Uygarlığı

medeniyetlerinden hangilerinin kurulduğu yerde büyük akarsuların etkisi olmamıştır?

- A) I ve V      B) II ve III      C) III ve IV  
D) IV ve V      E) II ve V

7. Aşağıda ülkemizdeki ulaşım faaliyetlerinin önemli unsurları verilmiştir.

- I. Marmaray projesi
- II. İstanbul Boğazı
- III. Çanakkale boğazı
- IV. Fırtına boğazı

IV. Enerji nakli yolları

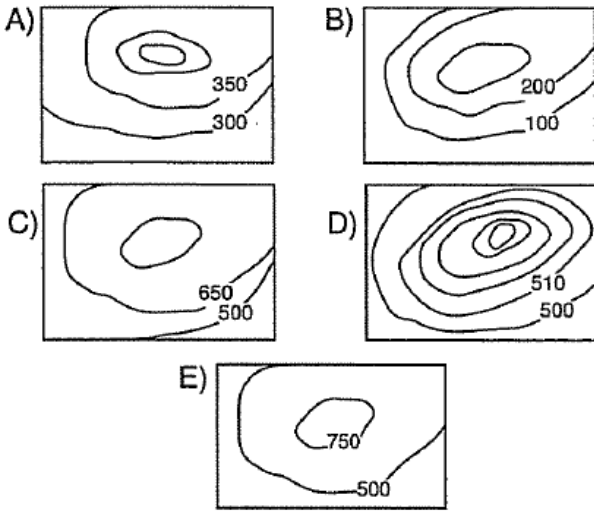
V. Ortadoğu'ya açılan kara yolları

**Buna göre hangisi diğer ülkeler ile olan ilişkilerimizde daha az önem taşımaktadır?**

A) I B) II C) III D) IV E) V

8. Bir izci takımının lideri olan Ali Bey, takımını kamp alanına götürmüştür. Dağlık ve ormanlık bir yapıya sahip olan kamp alanını tanıtan çeşitli haritalar üzerinde bölgenin tanıtımını yapan Ali Bey, izcilerin herbirine birer harita dağıtarak çevre ve kamp alanı hakkında bilgi edinmelerini istemiştir.

**Buna göre, Ali Bey'in dağıttığı aşağıdaki haritalardan hangisinin kamp bölgesini daha ayrıntılı olarak göstermesi beklenir?**



9. Aşağıda Türkiye, Meksika, Polonya ve OECD ülkelerinde 1994-2005 yılları arasında işsizlik oranları verilmiştir.

İşsizlik Oranı (15-64 yaş, %)

Ülke	1994	2001	2002	2003	2004	2005
Türkiye	8,8	8,6	10,6	10,8	10,6	10,5
OECD Ort	7,8	6,3	6,9	7,1	6,9	6,7
Meksika	4,4	2,2	2,5	2,6	3,1	3,6
Polonya	14,8	18,6	20,3	20,0	19,3	18,0

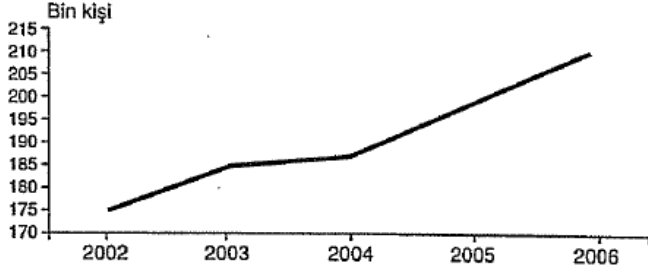
**Tablodaki verilere göre aşağıdakilerden yargılardan hangisine ulaşamaz?**

- A) Ülkemizde işsizlik oranı 2003 yılına kadar artmış sonra azalmıştır.
- B) Ülkemiz nüfusunda son yıllarda azalma görülmektedir.
- C) OECD ülkelerindeki işsizlik oranı, verilen yılların hepsinde Türkiye'dekinden daha düşüktür.
- D) Meksika'daki işsizlik oranı verilen diğer ülkelerden azalmıştır.

den az olmuştur.

- E) Polonya'daki işsizlik oranı verilen ülkelerden daha fazladır.

10. Aşağıda 2002–2006 yılları arasında Türkiye'deki ölümler verilmiştir.



Aşağıdakilerden hangisi bu grafikten çıkarılabilecek doğru bir sonuçtur?

- A) Sağlık hizmetleri gerilemektedir.  
B) Ölümlerin çoğu trafik kazalarından kaynaklanmaktadır.  
C) 2002 yılında sağlık hizmetlerinin kalitesi daha yüksek olmuştur.  
D) 2002 yılından itibaren ölümler sürekli artmıştır.  
E) Salgın hastalıkların ölüm oranındaki payı yüksektir.
11. Kırıklı ve genç, magmanın yüzeye yakın olduğu araziler sıcak su kaynakları bakımından zengindirler. Sıcak su kaynakları bol miktarda eriyik madde içerdiğinden sağlık turizminde termal kaynak-kaplıcalar olarak önemli bir yere sahiptirler.

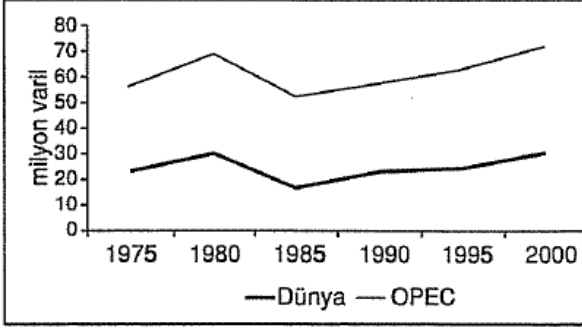


Buna göre yukarıdaki işaretli alanlardan hangisinde bu tür kaynaklara rastlanma ihtimali daha azdır?

- A) I ve III      B) II ve V      C) I ve IV  
D) III ve V      E) II ve III

12. OPEC petrol ihraç eden ülkeler örgütü olarak Orta-doğu ülkelerinin bir kısmının katılımıyla 1960 yılın-

da kurulmuştur. Aşağıdaki grafikte 1975–2000 yılları arasında OPEC ülkelerinin petrol üretimi ile dünya toplam petrol üretimi verilmiştir.



Aşağıdakilerden hangisi sadece bu grafikten yararlanılarak ulaşılabilecek doğru bir sonuçtur?

- A) OPEC ile dünya petrol üretimindeki değişimler birbirine paraleldir.
- B) 1980 yılından sonra dünya petrol üretimi sürekli artmıştır.
- C) OPEC ülkelerinin petrol üretiminin azaldığı yıllarda dünya genelindeki üretimi artmıştır.
- D) OPEC ülkelerinin içinde en fazla petrol üretimini Suudi Arabistan üretmiştir.
- E) 1985'ten sonra petrol üretimi azalmıştır.

13. Ülkelerin uluslararası ticarete, yolcu ve yük taşımacılığında tercih edeceği ulaşım yolları üzerinde coğrafi konumun etkisi fazladır. Coğrafi konuma bağlı olarak bazı ülkeler, uluslararası ulaşımında kara yolu, demir yolu, deniz yolu ve hava yolu sektörlerinin hemen hepsini kullanabilme avantajına sahipken, bazı ülkeler bunlardan bir veya ikisini tercih etmek zorunda kalmaktadır.

Ülkelerin coğrafi konumları göz önüne alındığında;

- I. Japonya
- II. İngiltere
- III. Türkiye
- IV. Endonezya

Ülkelerinden hangilerinin başka ülkelerle olan ilişkilerinde tercih edebileceği ulaşım yolu çeşitliliğinin daha fazla olduğu söylenebilir?

- A) Yalnız I
- B) Yalnız II
- C) Yalnız III
- D) II ve III
- E) II ve IV

14. I. Van Gölü  
II. Tuz Gölü  
III. Aral Gölü  
IV. Baykal Gölü  
V. Superior Gölü

Yukarıda verilen göllerden hangilerinde son 20 yılda yanlış arazi kullanımı ve kuraklık yüzünden alanında diğerlerinden daha fazla daralma görülmüştür?

- A) I ve II                      B) II ve III                      C) III ve IV  
D) III ve V                      E) IV ve V

15. I. Linyit  
II. Petrol  
III. Jeotermal  
IV. Taşkömürü  
V. Doğalgaz

Yukarıda verilen enerji kaynaklarından hangileri diğerlerine göre çevre kirliliğine yol açmaz?

- A) I ve III                      B) II ve IV                      C) III ve IV  
D) IV ve V                      E) III ve V

16. Coğrafya dersinde sunum yapan bir öğrenci, gazetelerden ve çevre ile ilgili internet sitelerinden küresel çevre sorunlarıyla ilgili şu haberleri arkadaşlarıyla paylaşmıştır.

**Bu haberden hangisinin ozon seyrelmesinin nedenlerine yönelik olduğu söylenebilir?**

- A) Türkiye'deki bir çevre kuruluşu, ülkemizdeki yaban keçisi, Van kedisi, alageyik gibi endemik hayvanların ve kasnak meşesi, ispir meşesi, Datça hurması gibi endemik bitkilerin orman yangınları, sanayileşme ve şehirleşmenin etkisiyle tehlike altında olduğu uyarısında bulundu.
- B) Türkiye'de kırsal kesimde büyük şehirlere olan göçler sonucunda şehirlerin çevresinde yaygınlaşan gecekondu semtlerinde atık sular insan sağlığını tehdit edecek boyutu aşmış bulunmaktadır.
- C) Plastik köpük yapımında, buzdolaplarında, klimalarda ve sprelerde kullanılan flüoroklorokarbon gazlarının kullanımına çeşitli sınırlamalar getirilmesi için uzmanlar yetkililere çağrıda bulundu.

- D) 6 Agustos 1945'te İkinci Dünya Savaşı sırasında Hiroşima'ya atılan atom bombasının insan ve çevre sağlığı üzerindeki olumsuz etkileri yıllarca devam etti.
- E) Evsel katı atıklar olan çöplerin oluşturduğu çöp dağlar; yer altı suyunun kirlenmesine, zehirli gazların birikmesine ve hastalık taşıyan sinek, böcek ve farelerin üremesine ortam hazırladı.

[www.supersoru.com](http://www.supersoru.com)

Cevaplar :

1)E, 2)C, 3)B, 4)E, 5)C, 6)A, 7)A, 8)D, 9)B, 10)D, 11)B, 12)A, 13)C, 14)B, 15)E, 16)C,