

1. I. Tarım teknolojilerindeki gelişmelere bağlı olarak tarımsal verimin artması
II. Taş kömürü yataklarının bulunduğu alanlarda sanayi faaliyetlerinin gelişmesi
III. Bitki örtüsünün tahrip edildiği alanlarda erozyon riskinin artması
IV. Yapı malzemesinin kerpiç olduğu alanlarda depremin yıkıcı etkisinin fazla olması

Yukarıdakilerden hangileri ekonomik coğrafyanın doğrudan inceleme konuları arasında yer alır?

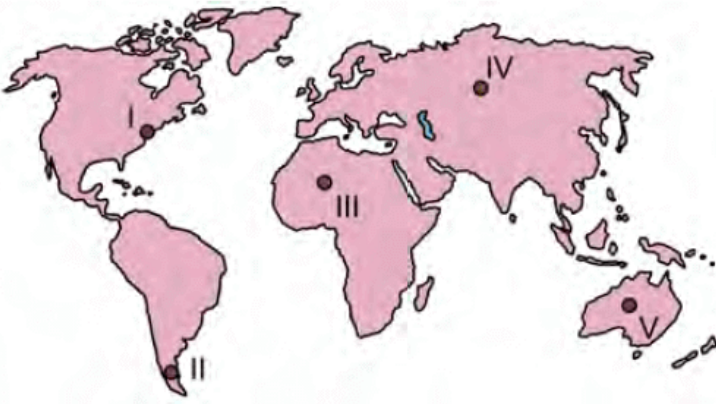
- A) I ve II B) I ve III C) II ve III
D) II ve IV E) III ve IV

2. Coğrafya dersinde, yaşadığı köy hakkındaki gözlemlerini aktaran bir öğrenci, köyünde çok sayıda dolin ve obruk olduğunu söylemiştir.

Buna göre, öğrencinin yaşadığı köyle ilgili aşağıdakilerden hangisine öncelikli olarak ulaşılabilir?

- A) Bitki türlerine B) Kayaç türlerine
C) İklim özelliklerine D) Toprak türlerine
E) Ekonomik faaliyetlerine

3. Aşağıdaki haritada bazı biyomların yerleri numaralandırılarak gösterilmiştir.



Bu yerlerin coğrafi özellikleri göz önüne alındığında hangi biyomlardaki bitki ve hayvan türlerinin birbiriyle daha çok benzerlik göstermesi beklenir?

- A) I ve II B) I ve III C) II ve IV
D) III ve V E) IV ve V

4. Ekosistem içerisindeki canlıların gereksinim duyduğu azotun esas kaynağını atmosfer oluşturur. Bu azotun bitkiler tarafından kullanılabilmesi için nitrit ve nitratlara dönüşmesi gerekir.

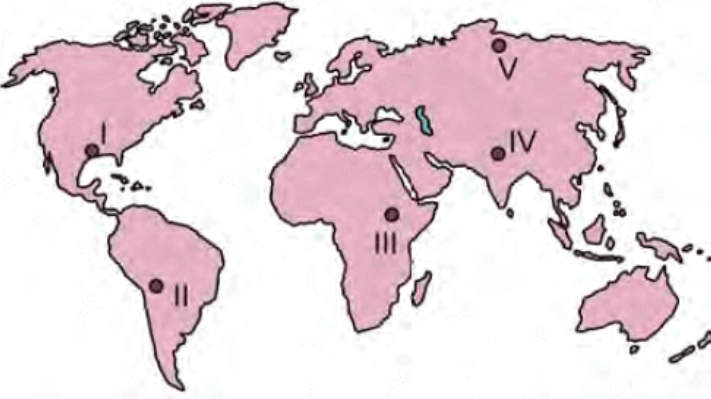
Bu dönüşüm,

- I. orman yangınları sonucunda küllerin toprağa geçmesi,
- II. topraktaki bazı bakterilerin ölen canlıları ayrıştırması,
- III. hava ile temas ettiği yüzeylerde doğrudan suya geçmesi,
- IV. havada oksijenle birleşen azotun yağışlarla toprağa geçmesi

süreçlerinden hangileriyle gerçekleşir?

- A) I ve II B) I ve III C) II ve III
D) II ve IV E) III ve IV

5. Aşağıdaki haritada bazı yerler numaralandırılarak gösterilmiştir.

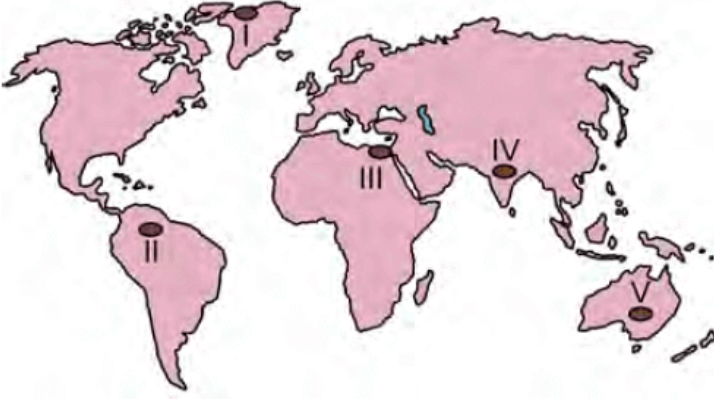


Bu yerlerde oluşan doğa olaylarıyla ilgili aşağıdakilerden hangisi söylenemez?

- A) I numaralı yerde bazı yıllar çok şiddetli kasırgalar meydana gelebilmektedir.
- B) III numaralı yerdeki düzensiz yağışlar kuraklıklara neden olmaktadır.
- C) II numaralı yerde sık sık sel ve taşkınlar yaşanmaktadır.
- D) V numaralı yerdeki aşırı soğuklar günlük hayatı olumsuz etkilemektedir.

E) IV numaralı yerde zaman zaman şiddetli depremler meydana gelebilmektedir.

6. Aşağıdaki haritada bazı yerler numaralandırılarak gösterilmiştir.



Yeryüzünde yerleşmeyi sınırlandıran etkenler göz önüne alındığında bu yerlerle ilgili aşağıdakilerden hangisi yanlıştır?

- A) I numaralı yer, tarımsal etkinliklerin sınırlı olduğu alanlardan biridir.
- B) II numaralı yerde iklimin uygunluğu sayesinde yerleşmeler oldukça sıktır.
- C) III numaralı yer, ilk uygarlıkların kurulduğu yerlerden biridir.
- D) IV numaralı yerde engebellik nedeniyle yerleşmeler seyrekler.
- E) V numaralı yerde iklime bağlı olarak nüfus yoğunluğu azdır.

7. I. Çan şeklindeki nüfus piramitleri doğumların yeniden artmaya başladığını gösterir.
- II. Düzgün üçgen şeklindeki nüfus piramitleri yüksek doğum ve ölüm oranlarını gösterir.
- III. Tabanı hızla daralan nüfus piramitleri yüksek doğurganlık oranlarını gösterir.

Nüfus piramitlerinin şekil özellikleriyle ilgili yukarıdakilerden hangileri doğrudur?

- A) Yalnız I
- B) Yalnız II
- C) I ve II
- D) I ve III
- E) II ve III

8. Yeryüzünde farklı özelliklere sahip bazı önemli şehirler bulunmaktadır. Bu şehirlerin bölgesel ve küresel ölçekteki önemi sadece sahip olduğu coğrafi özelliklerle sınırlı olmayıp ülkelerin ekonomik gücü de şehirlerin fonksiyonel özelliklerinin belirginleşmesinde önemli bir etki yapmaktadır.

Aşağıdaki liman şehirlerinden hangisinin küresel bir fonksiyon kazanmasında bu etki daha belirgindir?

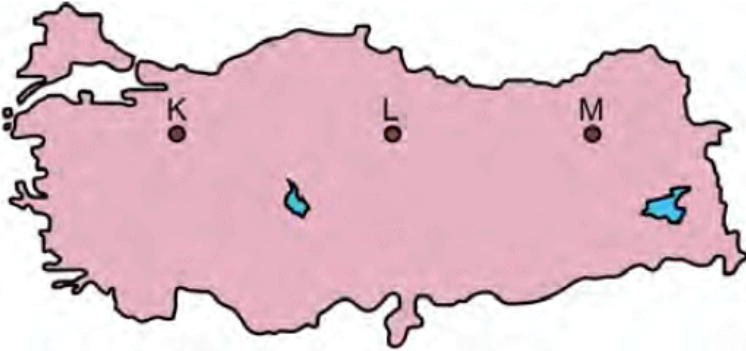
- A) Aden B) Kahire C) Jakarta
D) Hamburg E) Stokholm

9. Dünyadaki ilk kültür merkezlerinin ortaya çıkışında akarsuların ve onların oluşturduğu verimli tarım arazilerinin büyük önemi vardır. Bu akarsuların bulunduğu alanlar geçmişten günümüze önemini hep korumuştur.

Aşağıdakilerden hangisi, bu türden akarsulara örnek gösterilemez?

- A) Nil B) Volga C) Dicle
D) Fırat E) İndus

10. Aşağıdaki haritada gösterilen K, L ve M yerleşim merkezleri yaklaşık aynı enlem üzerinde olmalarına rağmen iklim koşulları birbirinden farklıdır.



Aşağıdakilerden hangisi, bu farklılığın nedenlerinden biri değildir?

- A) Güneş ışınlarının geliş açısı
B) Egemen rüzgâr yönü
C) Yükselti
D) Bulutluluk

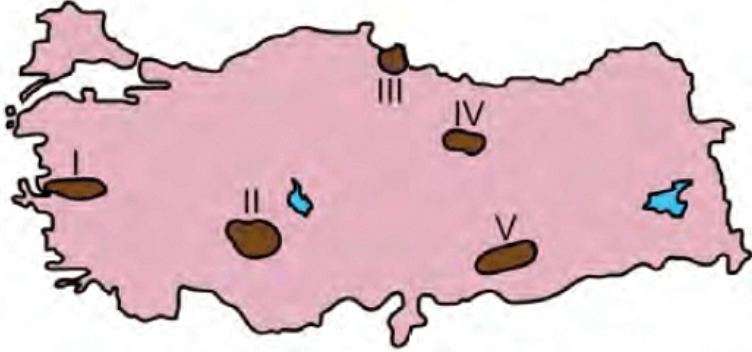
E) Denize uzaklık

11. I. Kıtaların birbirine çok yaklaştığı alanda bulunmasına bağlı olarak Doğu ve Batı kültürleri arasındaki etkileşimi daha yoğun yaşaması
- II. Zengin petrol ve doğal gaz rezervlerine sahip Orta Doğu ve Kafkas ülkeleri ile sanayileşmiş fakat yeterli enerji kaynaklarına sahip olmayan Avrupa ülkeleri arasında bulunması
- III. İstanbul ve Çanakkale boğazlarının, Karadeniz'e kıyısı olan limanlar için çıkış noktası olması

Yukarıdakilerden hangileri Türkiye ekonomisine uluslararası düzeyde doğrudan katkı sağlamaktadır?

- A) Yalnız I B) Yalnız II C) Yalnız III
- D) I ve II E) II ve III

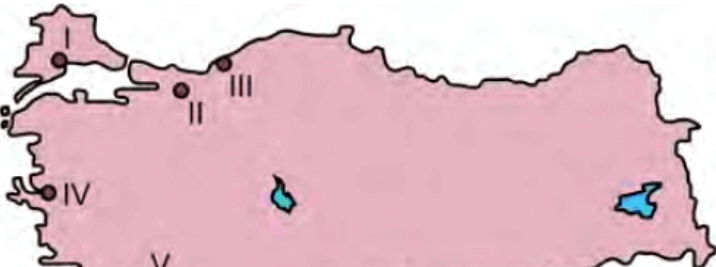
12. Aşağıdaki haritada bazı alanlar numaralandırılarak koyu renkle gösterilmiştir.



Bu alanların hangilerinde tarımda sulamaya duyulan ihtiyaç daha fazladır?

- A) I ve II B) I ve III C) II ve V
- D) III ve IV E) IV ve V

13. Aşağıdaki haritada bazı yerler numaralandırılarak gösterilmiştir.





Bu yerlerde meydana gelen doğal afetlerle ilgili aşağıdakilerden hangisi yanlıştır?

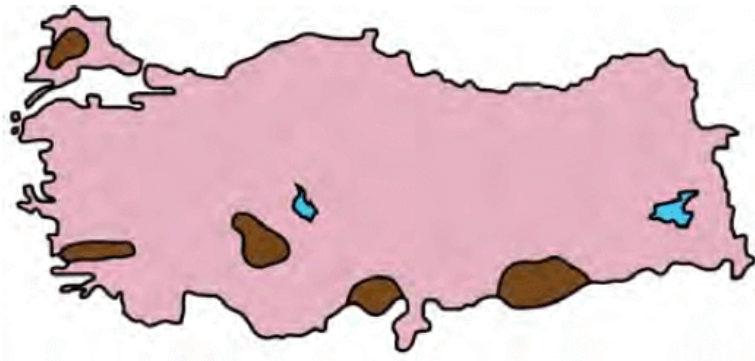
- A) I numaralı yerde, iklim özelliklerine bağlı olarak özellikle yaz döneminde şiddetli kuraklık yaşanmaktadır.
- B) II numaralı yerden geçen fay hattına bağlı olarak büyük depremler oluşmaktadır.
- C) III numaralı yerde, arazi koşulları ve yağış özelliklerine bağlı olarak heyelanların olduğu görülmektedir.
- D) IV numaralı yerde, özellikle kış aylarındaki aşırı yağışların etkisiyle taşkın riski yüksektir.
- E) V numaralı yerde, iklim ve bitki örtüsü özelliklerine bağlı olarak orman yangınları çıkmaktadır.

14. Türkiye’de demir yollarının önemli bir kısmı, liman şehirleri ile iç kesimler arasındaki bağlantıyı sağlamak için yapılmıştır. Üretilen ürünlerin limanlarla iç ve dış pazarlara daha kolay taşınması amacıyla yapılan demir yolları, özellikle Cumhuriyet Dönemi’nde ülke ekonomisine ve bu şehirlerin kalkınmasına büyük katkı sağlamıştır.

Bu özellikteki şehirlere aşağıdakilerden hangisi örnek gösterilemez?

- A) İzmir
- B) Mersin
- C) Trabzon
- D) Samsun
- E) İskenderun

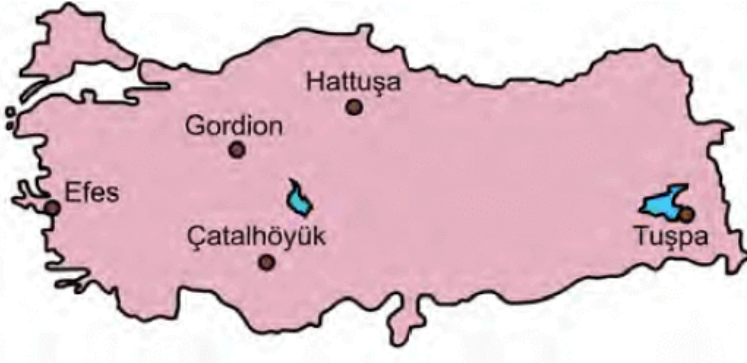
15. Aşağıdaki haritada Türkiye’nin farklı yörelerinden bazı alanlar koyu renkle gösterilmiştir.



Coğrafi özellikleri dikkate alındığında aşağıdakilerden hangisi bu alanlar için ortak bir bölge sınıflandırmasıdır?

- A) Dağlık bölgeler B) Maden bölgeleri
C) Tarım bölgeleri D) Ormancılık bölgeleri
E) Hayvancılık bölgeleri

16. Aşağıda, haritada bazı tarihî merkezler ve bu merkezlerin dördüne ait bazı özellikler verilmiştir.



- Antik Dönem'in önemli liman kentlerinden biridir.
- Frig uygarlığına başkentlik yapmış olan bir merkezdir.
- Anadolu'daki en eski imparatorluklardan olan Hitit İmparatorluğuna başkent olmuş bir merkezdir.
- Anadolu'da ilk yerleşik hayatın başladığı merkezlerden biridir. Bu yönüyle yerleşim tarihi açısından oldukça önemlidir.

Buna göre yukarıda, hangi tarihî merkeze ait bilgi verilmemiştir?

- A) Efes B) Gordion C) Hattuşa
D) Çatalhöyük E) Tuşpa

17. Yeryüzünün kurak alanlarını oluşturan "Sıcak Çöl Bölgeleri" insan faaliyetlerini sınırlandırmakta bazen de imkânsız hâle getirmektedir.

Bu özelliklere sahip aşağıdaki yerlerden hangisi Kuzey Yarım Küre'de yer almaz?

- A) Gobi B) Büyük Sahra
C) Atakama D) Kızılkum

18. Çin ve Hindistan, bazı tarım ürünlerinin üretiminde dünyada ilk sıralarda yer almalarına rağmen dünya tarım ticaretinde önemli bir yere sahip değildir.

Bu durumun temel nedeni aşağıdakilerden hangisidir?

- A) İş gücü maliyetlerinin yüksek olması
- B) Küresel pazarlarda rekabet edememeleri
- C) Üretim maliyetlerinin yüksek olması
- D) Tüketim bölgelerine uzak olmaları
- E) Nüfuslarının fazla olması
19. Orta Doğu'nun enerji yataklarına bir alternatif olarak gösterilen Hazar Havzası, petrol ve doğal gaz rezervleri bakımından oldukça zengindir. Bu havzada üretilen petrol ve doğal gazın önemli bir kısmı boru hatları ile dünyanın başka bölgelerine aktarılmaktadır.

Aşağıdakilerin hangisinde verilen ülkelerin tümü bu havzada yer almaktadır?

- A) Azerbaycan-Kazakistan-Türkmenistan
- B) Kazakistan-Özbekistan-Azerbaycan
- C) Türkmenistan-Gürcistan-Azerbaycan
- D) Rusya-Kırgızistan-Kazakistan
- E) İran-Azerbaycan-Tacikistan
20. Aşağıdaki haritada farklı coğrafi özelliklere sahip beş alan numaralandırılarak koyu renkle gösterilmiştir.





Bu alanların hangileri, tarımsal faaliyetler açısından diğerlerine göre daha olumsuz koşullara sahiptir?

- A) I ve II B) I ve V C) II ve III
D) III ve IV E) IV ve V

21. I. Erozyon
II. Kuraklık
III. Asit yağmurları
IV. Sel

Yukarıdakilerden hangileri, doğal ve beşerî faktörlerin birlikte etkili olduğu karma afet türleri içerisinde yer alır?

- A) I ve II B) I ve III C) II ve III
D) II ve IV E) III ve IV

22. Günümüzde dünya enerji ihtiyacının önemli bir bölümünü karşılayan fosil kaynakların tüketimi her geçen yıl artmaya devam etmektedir. Bu enerji kaynakları rezervleri itibarıyla sınırlı kaynaklardır. Artan enerji ihtiyacı ve mevcut rezervler düşünüldüğünde bu enerji kaynaklarının önümüzdeki yıllarda tükenmesi beklenmektedir.

Aşağıdaki enerji kaynaklarından hangisi bu grup içerisinde yer almaz?

- A) Petrol B) Doğal gaz C) Hidrojen
D) Kömür E) Kaya gazı

23. Fosil yakıtların tüketimindeki artış çevresel olarak büyük zararlara yol açmaktadır. Bu durum gelişmiş ülkelerde teknolojinin de yardımı ile kontrol altına alınabilmektedir. Bu sayede de olumsuz çevresel etkiler azaltılmaktadır.

Buna göre;

- I. sanayi tesislerinin bacalarına filtre takılması,
II. petrolün ve kömürün ocaklarının dışına

ii. petrokimya sanayilerinin şenilerinin dışına kurulması,

III. enerji verimini artıran yenilik ve teknolojik gelişmeler

faaliyetlerinden hangileri bu etkiyi azaltmaz?

A) Yalnız I B) Yalnız II C) Yalnız III

D) I ve II

E) II ve III

24. Doğal kaynakların birçoğunun yenilenebilir özellikte olmaması, verimsiz ve aşırı kullanımı bu kaynakların sürdürülebilir bir şekilde kullanılmasını gerekli kılmıştır.

Aşağıdakilerden hangisi bu kaynakların sürdürülebilirliğine uygun bir örnek olarak gösterilebilir?

A) Barajların çevresinin ağaçlandırılması

B) Şehirlerin doğal gaz ile ısıtılmaya başlanması

C) Doğal alanların millî park şeklinde korunması

D) Fosil enerji kaynaklarının çıkarılmasında yeni teknolojilerin kullanılması

E) Havza planlamaları ile su kaynaklarının korunması

www.supersoru.com

Cevaplar :

1)A, 2)B, 3)D, 4)D, 5)C, 6)B, 7)C, 8)D, 9)B, 10)A, 11)E, 12)C, 13)A, 14)C, 15)C, 16)E, 17)C, 18)E, 19)A, 20)E, 21)B, 22)C,